

نرخ سنجش استعداد: جامدادی (توصیفی)
 مدت: پلینگویی و انجام فعالیت: ۴۵ دقیقه




درس: استعداد فضایی چهارم دبستان
 زمان برگزاری: هفته سوم دی

علوی

فعالیت ۲

۷۲- در هر قسمت گزینه‌ی صحیح را انتخاب کن.

الف) رابطه با  با  مثال  یا است.


-  (۱)
-  (۲)
-  (۳)
-  (۴)


ب) به جای (۴) کدام گزینه قرار می‌گیرد؟





-  (۱)
-  (۲)
-  (۳)
-  (۴)

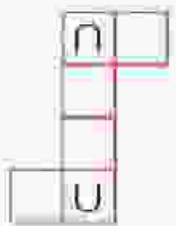
پ) کدام گزینه گسترده‌ی داده شده است؟

 (۱)


 (۲)

 (۳)

 (۴)



ت) کدام گزینه با بقیه تفاوت دارد.

-  (۱)
-  (۲)
-  (۳)
-  (۴)

نرخ سنجش استعداد: جامدادی انحصاری
مدت پلننگویی و انجام فعالیت: ۴۵ دقیقه

درس: استعداد فضایی چهارم دبستان
زمان برگزاری: هفته سوم دی

عالوی

فعالیت ۳

۷۳- با استفاده از قیچی تصویر را از کاغذ جدا و از روی خطوط تا بزن و با استفاده از چسب یک خانه ی زیبا بساز.

