

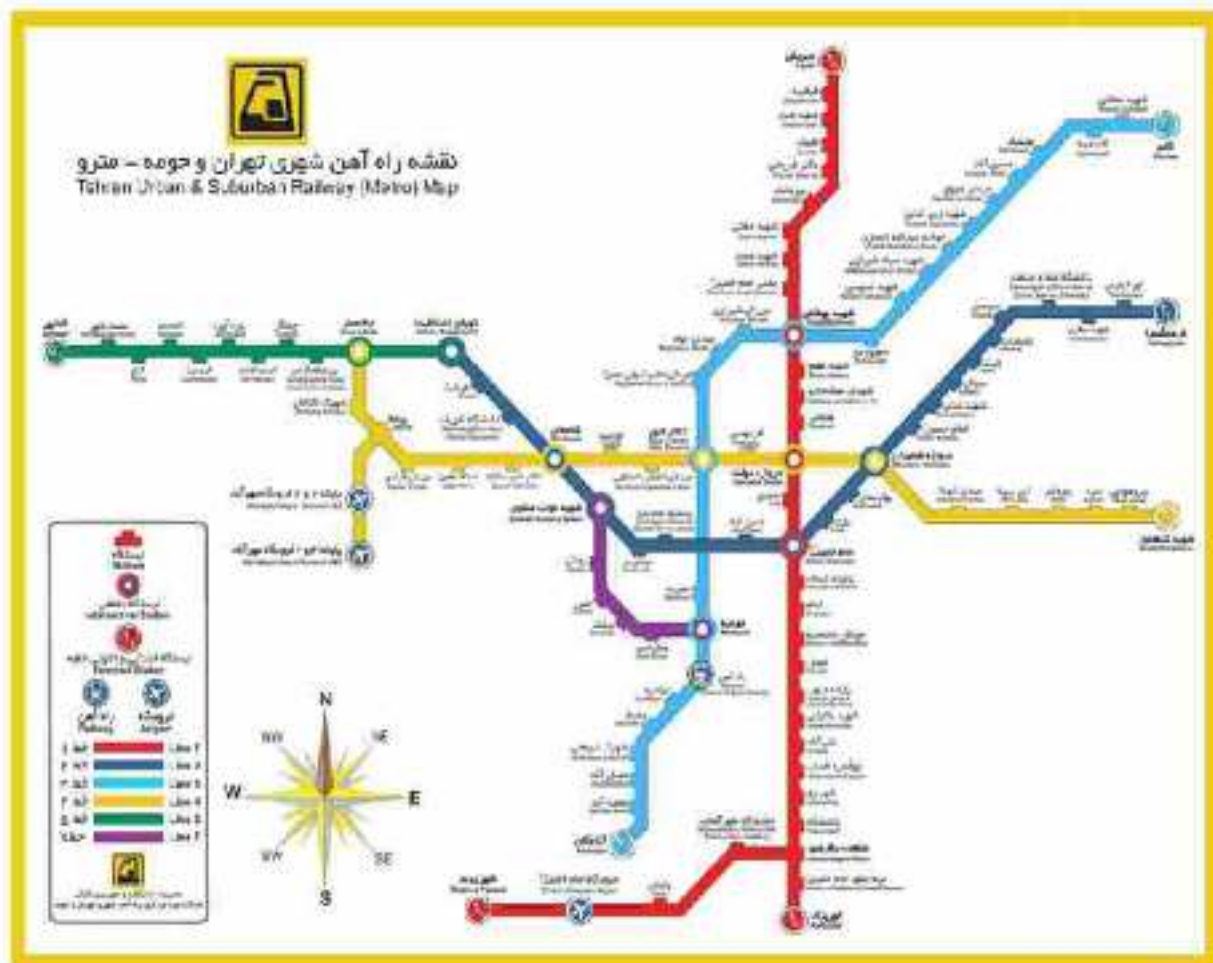
درس: استعداد فضایی پنجم دبستان طرح سنجش استعداد: جامدادی ۲- توصیفی
زمان برگزاری: هفته چهارم اردیبهشت مدت پاسخگویی و انجام فعالیت: ۴۵ دقیقه

علوی

فعالیت‌های استعداد فضایی پایه پنجم

فعالیت ۱

۷۱- به نقشه‌ی متروی تهران توجه کن.



الف) کوتاه‌ترین خطوط مترو کدام‌اند؟

ب) هر یک از ایستگاه‌های نامبرده در زیر، مشترک در کدام یک از خطوط هستند؟ (به نمونه توجه کن.)

ارم سبز ← مشترک در خط‌های ۴ و ۵ (سبز و زرد)

شادمان ←

شهیدبهبشتی ←


بهدیه ←

علوی

درس: استعداد فضایی پنجم دبستان طرح سنجش استعداد: جهادادی ۲- توصیفی
زمان برگزاری: هفته چهارم اردیبهشت مدت پاسخگویی و انجام فعالیت: ۴۵ دقیقه

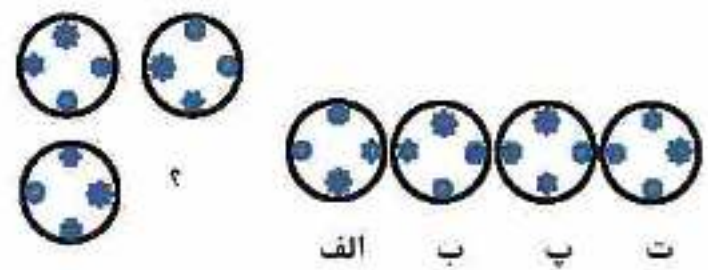
فعالیت ۲

۷۲- فضانوردی که آنتن‌اش در طرف راست و نشانش در بازوی چپش می باشد، کلاه گروی پوشیده است و کمربند ندارد را پیدا کن!



فعالیت ۳

۷۳- در جای خالی کدام شکل فرار می گیرد؟



درس: استعداد فضایی پنجم دبستان طرح سنجش استعداد: جهادای ۲- توصیفی
زمان برگزاری: هفته چهارم اردیبهشت مدت پاسخگویی و انجام فعالیت: ۴۵ دقیقه

علوی

فعالیت ۴

۷۴- گسترده‌ی داده شده را از کاغذ جدا و شکل چند وجهی مربوطه را بسازید. (با استفاده از قیچی و چسب)

