

آزمون جمع‌بندی پایه‌ی چهارم

مداد سیاه ۱

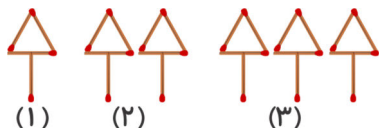


ریاضی

۱- گسترده‌ی عدد «سیصد و پنج هزار و هشتاد» کدام گزینه است؟

$300000 + 50000 + 8000$ (۴)
 $300000 + 5000 + 800$ (۳)
 $300000 + 50000 + 800$ (۲)
 $300000 + 5000 + 8000$ (۱)

۲- در الگوی داده شده، شکل دهم با چند چوب کبریت ساخته می‌شود؟



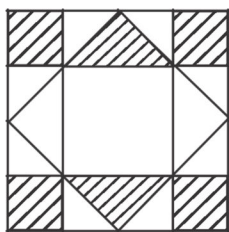
- ۲۰ (۱)
- ۳۵ (۲)
- ۴۰ (۳)
- ۵۰ (۴)

۳- با توجه به ماشین داده شده، عدد ورودی کدام گزینه است؟



- ۱۲ (۲)
- ۸ (۱)
- ۲۲ (۴)
- ۳۲ (۳)

۴- چه کسری از شکل داده شده، هاشور خورده است؟



- $\frac{3}{8}$ (۱)
- $\frac{1}{2}$ (۲)
- $\frac{1}{3}$ (۳)
- $\frac{3}{4}$ (۴)

۵- با ارقام ۵، ۰ و ۴ چند عدد سه رقمی غیر تکراری می‌توان نوشت؟

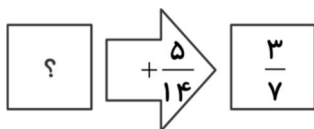
- ۸ (۴)
- ۶ (۳)
- ۴ (۲)
- ۲ (۱)

$$\frac{1}{7} + \frac{4}{7} + \frac{\square}{7} = 1$$

- ۳ (۴)
- ۷ (۳)
- ۵ (۲)
- ۲ (۱)

۶- به جای مربع چه عددی می‌توان قرار داد؟

۷- خروجی ماشین داده شده $\frac{3}{7}$ است. ورودی ماشین کدام کسر است؟



- $\frac{8}{14}$ (۲)
- $\frac{2}{7}$ (۱)
- $\frac{8}{21}$ (۴)
- $\frac{1}{14}$ (۳)



آزمون جمع‌بندی پایه‌ی چهارم



۸- محصول گندم یک کشاورز ۴۸۷۰ کیلوگرم است. این مقدار تقریباً چند تن است؟

(۴) ۶ تن

(۳) ۵ تن

(۲) ۴ تن

(۱) ۳ تن

۹- در ضرب داده شده، جای خالی با کدام گزینه پر می‌شود؟

$$\begin{array}{r} 47 \\ \times 29 \\ \hline \square \leftarrow \\ + 940 \\ \hline \end{array}$$

(۱) ۴۲۳

(۲) ۴۳۲

(۳) ۲۳۴

(۴) ۳۲۴

۱۰- قیمت ۴ خودکار و ۲ مداد ۸۰۰ تومان و قیمت ۳ مداد ۳۰۰ تومان می‌باشد. قیمت ۵ خودکار و ۵ مداد چند تومان است؟

(۴) ۱۷۵۰ تومان

(۳) ۱۲۵۰ تومان

(۲) ۱۵۰۰ تومان

(۱) ۱۰۰۰ تومان

