

طرح سنجش استعداد: مدادقرمز ۱- توصیفی  
مدت پاسخگویی و انجام فعالیت: ۴۵ دقیقه


درس: استعداد فضایی اول دبستان  
زمان برگزاری: هفته سوم آبان

**علوی**

**فعالیت‌های استعداد فضایی پایه‌ی اول**

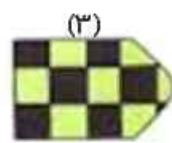
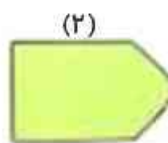

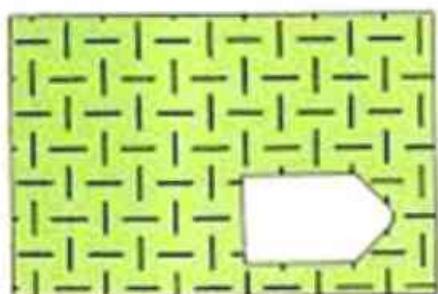
**فعالیت ۱**

۱۶- هر یک از تصاویر را به شکل شبیه آن وصل کنید.



**فعالیت ۲**

۱۷- کدام تصویر در جای خالی قرار می‌گیرد؟



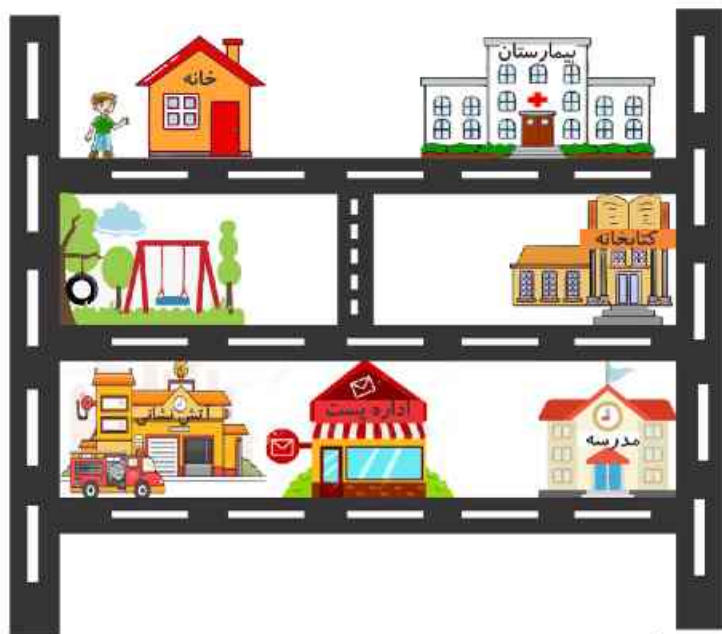
طرح سنجش استعداد: مداخله‌گر مزاج ۱- توصیفی  
مدت پاسخگویی و انجام فعالیت: ۴۵ دقیقه

درس: استعداد فضایی اول دبستان  
زمان برگزاری: هفته سوم آبان

**علوی**

فعالیت ۳

۱۸- تصویر زیر، نقشه‌ی محله‌ی علی است.



الف) کدام مورد به  نزدیک‌تر است؟



ب) بین کدام دو ساختمان قرار دارد؟ 



طرح سنجش استعداد: مداخله ۱ - توصیفی  
مدت پاسخگویی و انجام فعالیت: ۴۵ دقیقه

درس: استعداد فضایی اول دبستان  
زمان برگزاری: هفته سوم آبان

## علوی

### فعالیت ۴

۱۹- کدام موتور می‌تواند به پمپ بنزین برسد؟ او را به مقصد برسانید.




### فعالیت ۵

۲۰- با توجه به نمودار به پرسش‌ها پاسخ دهید.

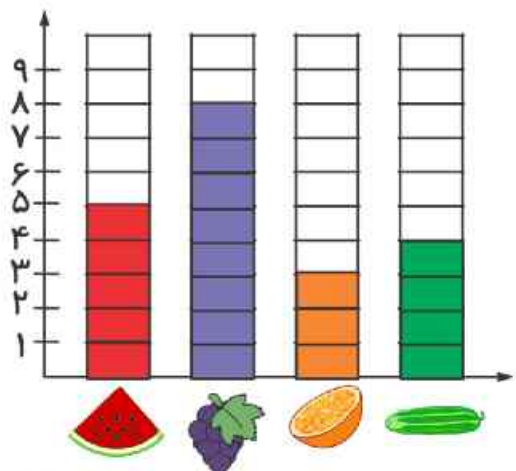
الف) بیشترین میوه کدام است؟



ب) کمترین میوه کدام است؟



پ) تعداد چقدر بیشتر از است؟

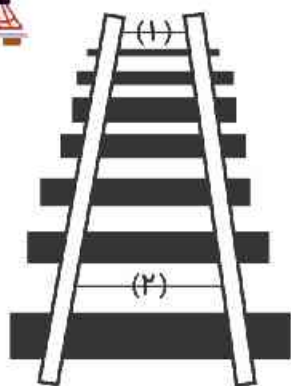


طرح سنجش استعداد: مداخله ۱- توصیفی  
مدت پاسخگویی و انجام فعالیت: ۴۵ دقیقه

درس: استعداد فضایی اول دبستان  
زمان برگزاری: هفته سوم آبان

علوی

فعالیت ۶



۲۱- تصویر زیر، یک ریل قطار است، کدام مورد صحیح است؟

۱) خط (۱) کوچکتر است.

۲) خط (۱) بزرگتر است.

۳) خط (۱) و (۲) هم‌اندازه هستند.