

طرح سنجش استعداد: مداد قرمز ۱ - توصیفی
مدت پاسخگویی و انجام فعالیت: ۴۵ دقیقه

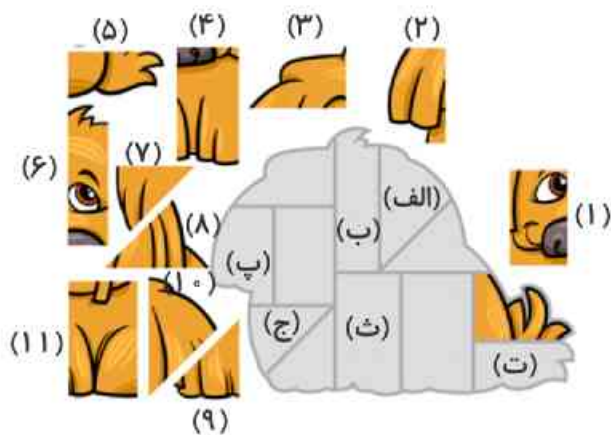
درس: استعداد فضایی پنجم دبستان
زمان برگزاری: هفته سوم آبان

علوی

فعالیت‌های استعداد فضایی پایه‌ی پنجم

فعالیت ۱

۳۶- به تصویر داده شده و قطعات پازل توجه کنید. در خانه‌های مشخص شده، کدام قطعه قرار می‌گیرد؟



- (الف)
- (ب)
- (پ)
- (ت)
- (ث)
- (ج)

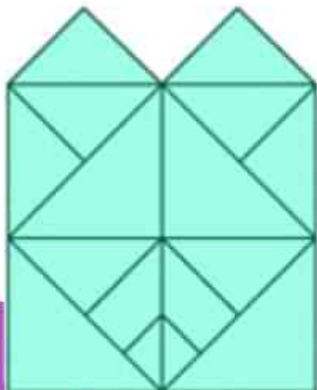
فعالیت ۲

۳۷- به تصویر قلعه با دقت نگاه کنید. سایه‌ی آن کدام گزینه است؟



فعالیت ۳

۳۸- در تصویر زیر چند مربع می‌بینید؟



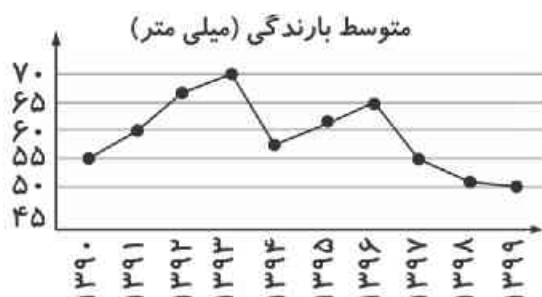
درس: استعداد فضایی پنجم دبستان
 طرح سنجش استعداد: مداد قرمز ۱ - توصیفی
 مدت پاسخگویی و انجام فعالیت: ۴۵ دقیقه

۳۹- با توجه به نمودار بارندگی شهر تهران در سال‌های متوالی به پرسش‌ها پاسخ دهید.

الف) میزان بارندگی در چند سال مورد بررسی قرار گرفته است؟

ب) در کدام دو سال میزان بارندگی یکسان بوده است؟

پ) در چه سالی بیشترین میزان بارش و در چه سالی کمترین میزان را شاهد بوده‌ایم؟ میزان اختلاف آن‌ها چقدر است؟



۴۰- کدام یک از قسمت‌های داده شده جای خالی را کامل می‌کند؟

