

۱۳) گزینه‌ی صحیح را مشخص کنید.

الف) کدام گیاه ریشه‌ی خوراکی دارد؟



ب) برگ کدام گیاه خوردنی است؟



پ) کدام میوه دانه‌ی خوراکی دارد؟



ت) از کدام گیاه رنگ خوراکی به دست می‌آید؟

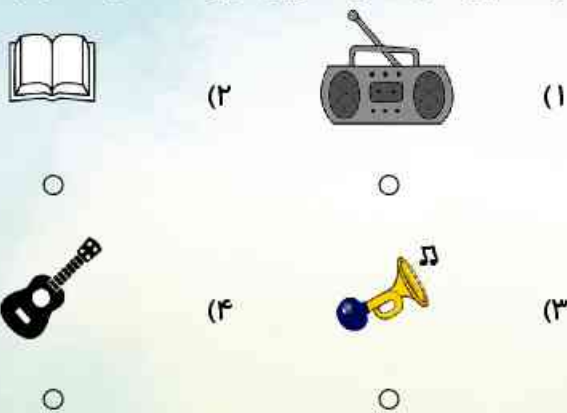


۱۱) خوراکی‌های مفید و غیرمفید را به تصویر مناسب وصل کنید.



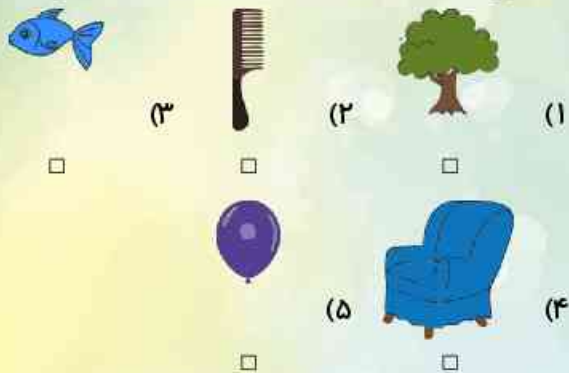
۱۴) دایره‌ی مواردی که به حس بینایی مربوط است را رنگ آبی

و آن‌هایی که به حس شنوایی مربوط است رنگ قرمز کنید.




۱۵) مواردی که برای زنده ماندن به آب نیاز دارند را با علامت ✓ و

آن‌هایی که به آب نیاز ندارند را با علامت ✗ مشخص کنید.



۱۲) جملات درست را با ✓ و جملات نادرست را با ✗ نشان دهید.

درست نادرست



الف) غذای شیر، است.

ب) حیوان گیاهخوار است.

پ) موجود زنده است.

ت) و هر دو دانه می‌خورند.

۱۹) مراحل تشکیل باران را شماره گذاری کنید و سپس مرحله‌ی آخر را نقاشی بکشید.

(ب)

(الف)



(ت)

(پ)



۲۰) کدام یک از وسایل زیر از سنگ ساخته شده است؟



(۳)



(۲)



(۱)



(۶)



(۵)



(۴)

۱۶) تصویر یک جانور مفید و یک جانور مضر که برای ما مشکل ایجاد می‌کند را بکشید.



۱۷) کدام وسیله زیر آب می‌رود؟ دور آن خط بکشید.



(۲)



(۱)

ب) کدام سازمان در هنگام آتش سوزی به ما کمک می‌کند؟



(۲)



(۱)

۱۸) خورشید را متناسب با سایه‌ی هر انسان نقاشی بکشید.



(۳)



(۲)



(۱)

