

نام خانوادگی:

نام:

شماره ملی:

شعبه: کلاس:

۳) گزینه‌ی صحیح را مشخص کنید.

الف) کدام چوب‌خط، عدد ۱۷ را نشان می‌دهد؟

(۱) 

(۲) 

ب) چوب‌خط داده شده چه عددی است؟

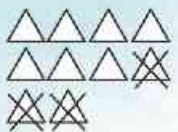



۱۹ (۱)



۱۸ (۲)

۴) پاسخ مناسب هر قسمت را بنویسید و سپس علامت مناسب

($\lt = \gt$) را انتخاب کنید.

الف)  $\lt = \gt$ 

..... = + =

ب)  $\lt = \gt$ 

..... + = + =

۱) عدد مربوط به انگشتان هر دست را با کمک انتقال دادن به

عدد مناسب وصل کنید.

الف) ۶  +  (۱)

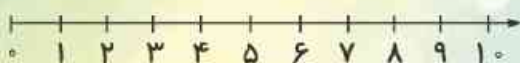
ب) ۹  +  (۲)

پ) ۸  +  (۳)

ت) ۴  +  (۴)


۵) سارا ۵ مداد داشت. مادرش ۴ مداد دیگر برایش خرید. سارا


چند مداد دارد؟ (با کمک شکل و محور)



۲) درستی یا نادرستی جملات داده شده را مشخص کنید.

درست نادرست

الف) در شکل  جواب ۵ می‌شود.

ب) در شکل  جواب ۷ می‌شود.

پ) در الگوی ۰، ۴، ۶، ۸، عدد بعدی ۱۰ می‌شود.

ت) در الگوی ۸-۴-۰ عدد بعدی ۱۳ می‌شود.