

طرح سنجش استعداد: مداد قرمز ۴ - توصیفی

هفته چهارم اردیبهشت

زمان: ۷۵ دقیقه

نام خانوادگی:

نام:

شماره ملی:

شعبه: کلاس:

۳) گزینه‌ی صحیح را مشخص کنید.
الف) کوچک‌ترین عدد سه رقمی که می‌توان با کارت‌های (۷, ۰, ۲) ساخت، کدام است؟

- ۲۰۷ (۲) ۲۷۰ (۱)
۷۰۲ (۴) ۷۲۰ (۳)

ب) خط تقارن کدام شکل درست کشیده شده است؟




پ) دهگان کدام یک از اعداد زیر یک عدد زوج نیست؟

- ۳۵۴ (۲) ۳۴۶ (۱)
۵۰۸ (۴) ۴۲۹ (۳)

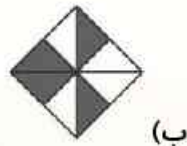
ت) ۲۰ سکه‌ی ده ریالی برابر با چند سکه‌ی ۱ ریالی است؟

- ۳۰ (۲) تا ۲۰ (۱) تا
۲۰۰ (۴) تا ۳۰۰ (۳) تا

۴) در هر شکل چه کسری رنگ شده است؟



..... قسمت از قسمت مساوی



..... قسمت از قسمت مساوی

۱) هر عبارت را به پاسخ صحیح آن وصل کنید.

- الف) ۷ سانتی‌متر و ۱۱ میلی‌متر
- ب) ۸۶ میلی‌متر
- پ) ۴ سانتی‌متر و ۵ میلی‌متر
- ت) ۹۰ میلی‌متر
- ۱) ۸ سانتی‌متر و ۶ میلی‌متر
- ۲) ۴۵ میلی‌متر
- ۳) ۹ سانتی‌متر
- ۴) ۸۱ میلی‌متر

۵) علی یک بسته مداد رنگی و یک دفتر خرید. اگر قیمت یک

بسته مداد رنگی ۲۰۰ ریال باشد و او به فروشنده ۵۶۰ ریال

پول داده باشد، قیمت هر دفتر چقدر است؟

۲) درستی یا نادرستی جمله‌های زیر را مشخص کنید.

درست نادرست



الف) ۳۰ دقیقه بعد از ساعت ۳:۴۵، ساعت ۴:۱۵ می‌شود.



ب) ۵ دسته‌ی ده‌تایی منهای ۲ دسته‌ی ده‌تایی، عدد ۴۰ می‌شود.

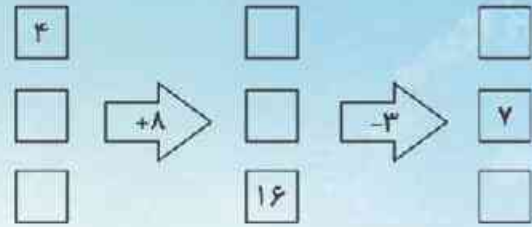


پ) تعداد خط تقارن دایره بیشتر از شش ضلعی است.



ت) در الگوی ۱۸، ۱۲، ۶ عدد بعدی ۲۴ است.


۶) جاهای خالی را با عددهای مناسب کامل کنید.



۹) الف) تعداد کتابهای یک کتابخانه در جدول زیر آمده است. تعداد تقریبی کتابها را بنویسید.

موضوع	داستانی	علمی	تخیلی	تاریخی	کودکانه	جغرافی
تعداد کتابها	۵۴	۴۷	۱۸	۳۲	۴۴	۲۱
تعداد تقریبی						

ب) اگر هر ۱۰ کتاب را با \bigcirc نشان دهیم نمودار را کامل کنید.



۷) جمع و تفریقهای زیر را با کلمات کامل کردن جاهای خالی حل کنید.

الف)
$$\begin{array}{r} ۷ \quad ۳ \quad ۴ \\ -۸ \quad ۱ \quad ۲ \\ \hline \square \quad \square \quad \square \end{array}$$

ب)
$$\begin{array}{r} ۴ \quad ۳ \quad ۳ \\ +۹ \quad ۶ \quad ۱ \\ \hline \square \quad \square \quad \square \end{array}$$

۱۰) پدر مریم یک کتاب ۱۳۵ صفحه‌ای به او داد. مریم روز اول ۷۵ صفحه و روز دوم ۵۲ صفحه از کتابش را خواند.

الف) مریم چند صفحه از کتابش را خواند؟

ب) او چند صفحه‌ی دیگر باید بخواند تا کتابش به پایان برسد؟

۸) با توجه به ساعت داده شده، پاسخ دهید.



الف) یک ربع بعد از ساعت داده شده چه ساعتی است؟ ساعت را رسم کنید.

ب) نیم ساعت بعد از ساعت داده شده چه ساعتی است؟ ساعت را رسم کنید.

