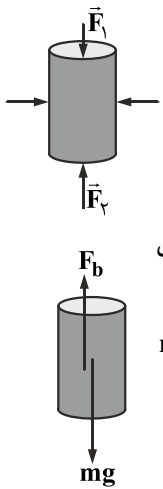


فیزیک ۱

۱- گزینه «۳» - با افزایش عمق، نیروی ناشی از فشار وارده بر جسم از طرف مایع، افزایش می‌یابد، پس باید اندازه نیرویی که به بالای جسم وارد می‌شود از اندازه دیگر نیروهای رسم شده کم‌تر باشد و اندازه نیرویی که به پایین جسم وارد می‌شود از اندازه دیگر نیروهای رسم شده بیش‌تر باشد که تنها گزینه «۳» این ویژگی را نشان می‌دهد. (طالب) (فصل دوم - شناوری) (متوسط)



۲- گزینه «۱» - نیروی شناوری، برآیند نیروهای وارد از طرف مایع به جسم است. مطابق شکل مقابل، برآیند نیروهای وارد بر سطح جانبی استوانه صفر است و نیروی شناوری برآیند نیروهای \vec{F}_1 و \vec{F}_2 است که اندازه آن 0.5 نیوتن است. با پایین رفتن استوانه اندازه‌ی نیروهای \vec{F}_1 و \vec{F}_2 افزایش می‌یابد، چون فشار مایع زیاد می‌شود، ولی برآیند آن‌ها تغییری نمی‌کند، چون به همان اندازه که \vec{F}_1 زیاد می‌شود، \vec{F}_2 نیز افزایش می‌یابد، پس اندازه نیروی شناوری وارد بر استوانه در حین سقوط ثابت می‌ماند.

مطابق شکل مقابل، در حین سقوط فقط دو نیروی شناوری و نیروی وزن به جسم وارد می‌شود که هر دو ثابت هستند و طبق قانون دوم نیوتن داریم:

$$mg - F_b = ma \Rightarrow 0.2 \times 10 - 0.5 = 0.2a \Rightarrow a = 7/5 \frac{m}{s^2}$$

(طالب) (فصل دوم - شناوری) (دشوار)

۳- گزینه «۴» -

$$\text{شاره} = A \times v = 100 \times 10^{-6} \text{ m}^2 \times 200 \times 10^{-2} \frac{m}{s} = 2 \times 10^{-4} \frac{m^3}{s}$$

(طالب) (فصل دوم - شاره در حرکت و اصل برنولی) (متوسط)

۴- گزینه «۲» -

$$\frac{k_2}{k_1} = \frac{m_2}{m_1} \times \left(\frac{V_2}{V_1}\right)^2 \Rightarrow \frac{8 \times 10^6}{2 \times 10^6} = 1 \times \left(\frac{V_1 + 10}{V_1}\right)^2 \Rightarrow 4 = \left(\frac{V_1 + 10}{V_1}\right)^2 \Rightarrow 2 = \frac{V_1 + 10}{V_1} \Rightarrow 2V_1 = V_1 + 10 \Rightarrow V_1 = 10 \frac{m}{s}$$

(طالب) (فصل سوم - انرژی جنبشی) (متوسط)

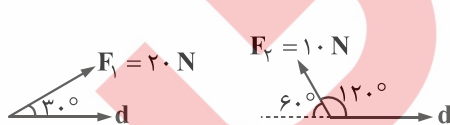
۵- گزینه «۳» -

$$k = \frac{1}{2} mV^2 \Rightarrow k = \frac{1}{2} \times 2 / 1 \times 10^4 \times (8 \times 10^2)^2 = 21 \times 32 \times 10^9 \text{ J}$$

$$\frac{\text{یک تن TNT}}{m} = \frac{4 / 2 \times 10^9 \text{ J}}{21 \times 32 \times 10^9} \Rightarrow m = \frac{21 \times 32 \times 10^9}{42 \times 10^8} = 160 \text{ تن}$$

(سراسری خارج از کشور ریاضی - ۱۴۰۰) (فصل سوم - انرژی جنبشی) (متوسط)

۶- گزینه «۳» -



$$\frac{W_{F_1}}{W_{F_2}} = \frac{20 \times d \times \cos 30^\circ}{10 \times d \times \cos 120^\circ} = 2 \times \frac{\frac{\sqrt{3}}{2}}{-\frac{1}{2}} = -2\sqrt{3}$$

(طالب) (فصل سوم - کار انجام شده توسط نیروی ثابت) (متوسط)

۷- گزینه «۴» - اگر نیروی $\vec{F} = F_x \vec{i} + F_y \vec{j}$ در جابه‌جایی $\vec{d} = d_x \vec{i} + d_y \vec{j}$ به جسمی وارد شود، داریم:

$$W_F = F_x d_x + F_y d_y \Rightarrow W_F = 3 \times 5 + (-4 \times 2) = 7 \text{ J}$$

(طالب) (فصل سوم - کار انجام شده توسط نیروی ثابت) (آسان)

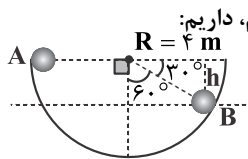
$$(1) \text{ جسم: } W_{t_1} = F_1 d \cos 37^\circ + F_2 d \cos 0 \xrightarrow{F_1=2F_2} W_{t_1} = 2F_2 d \times 0.8 + F_2 d = 3/4 F_2 d$$

$$(2) \text{ جسم: } W_{t_2} = F_1 d \cos 60^\circ + F_2 d \cos 180^\circ \xrightarrow{F_1=2F_2} W_{t_2} = 2F_2 d \times \frac{1}{2} - F_2 d = \frac{1}{2} F_2 d$$

$$\frac{W_{t_1}}{W_{t_2}} = \frac{3/4 F_2 d}{\frac{1}{2} F_2 d} = \frac{68}{10} = \frac{34}{5} \Rightarrow W_{t_1} = \frac{34}{5} W_{t_2}$$

(طالب) (فصل سوم - کار انجام شده توسط نیروی ثابت) (دشوار)

۹- گزینه «۱» - نیروهایی که روی جسم کار انجام می‌دهند، نیروی وزن و نیروی اصطکاک هستند. توجه کنید که کار نیروی اصطکاک به مسافتی



$$h = R \times \sin 30^\circ = 2 \text{ m}$$

$$L = \frac{1}{4} (\text{محیط دایره}) + \frac{1}{6} (\text{محیط دایره}) = \frac{5}{12} (\text{محیط دایره})$$

$$L = \frac{5}{12} \times (2\pi R) = \frac{5}{12} \times (2 \times 3.14 \times 4) = 10 \text{ m}$$

نیروی اصطکاک از A تا B در هر نقطه از مسیر حرکت، خلاف جهت حرکت جسم است و داریم:

$$W_{f_k} = f_k \times L \times \cos 180^\circ = -f_k L = -f_k \times 10$$

کار نیروی وزن به جابه‌جایی جسم در راستای قائم بستگی دارد و چون جسم به اندازه h در راستای قائم پایین آمده، داریم:

$$W_{mg} = +mgh = 5 \times 10 \times 2 = 100 \text{ J}$$

بنابراین خواهیم داشت:

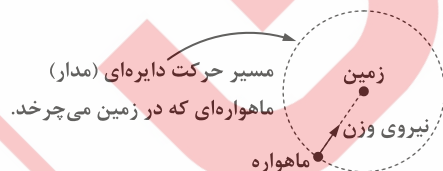
$$W_t = W_{mg} + W_{f_k} \Rightarrow 50 = 100 + (-f_k \times 10) \Rightarrow f_k = 5 \text{ N}$$

(طالب) (فصل سوم - کار انجام شده توسط نیروی ثابت) (دشوار)

۱۰- گزینه «۱» - وقتی تندی جسمی در یک مسیر ثابت بماند:

(۱) تغییر انرژی جنبشی آن (Δk) برابر صفر است و طبق قضیه کار و انرژی جنبشی ($W_t = \Delta k$)، کار کل انجام شده یا همان کار نیروی خالص برابر صفر است، پس مورد (الف) الزاماً درست است.

(۲) ممکن است نیروی خالص وارد بر جسم صفر باشد یا مانند شکل زیر که مربوط به تمرین ۹ صفحه ۷۹ کتاب درسی است، نیروی خالص صفر نباشد، ولی همواره بر مسیر حرکت عمود باشد، بنابراین باز هم کار نیروی خالص صفر است و تندی جسم طبق قضیه کار و انرژی جنبشی ثابت بماند، پس مورد (ب) الزاماً درست نیست.



(۳) ممکن است نیروی مقاوم به جسم وارد شده باشد، به طوری که، نیروی خالص وارد بر جسم صفر شود و کار نیروی خالص نیز صفر شود و طبق قضیه کار و انرژی جنبشی، تندی جسم ثابت بماند، ولی همان‌طور که در مورد (۲) نیز بیان شد می‌تواند نیروی مقاوم صفر باشد و نیروی خالص همواره عمود بر مسیر حرکت جسم باشد که همان نتیجه را می‌دهد، بنابراین مورد (پ) الزاماً درست نیست.

(طالب) (فصل سوم - کار و انرژی جنبشی) (متوسط)

۱۱- گزینه «۴» -

$$\frac{W_{tA}}{W_{tB}} = \frac{\frac{1}{2} m_A ((4V)^2 - V^2)}{\frac{1}{2} m_B ((4V)^2 - V^2)} = \frac{m_A}{m_B} \xrightarrow{m_A = \frac{1}{2} m_B} \frac{W_{tA}}{W_{tB}} = \frac{1}{2}$$

(کتاب همراه علوی) (فصل سوم - کار و انرژی جنبشی) (آسان)

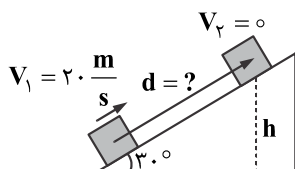
۱۲- گزینه «۴» -

$$W_t = k_2 - k_1 \Rightarrow W_{mg} + W_f = k_2 - k_1 \Rightarrow +mgh + W_f = \frac{1}{2} m (V_2^2 - V_1^2) \Rightarrow 100 \times 10 \times 500 + W_f = \frac{1}{2} \times 100 \times (4/5^2 - 1/5^2)$$

$$\Rightarrow 500000 + W_f = 50 \times (4/5 - 1/5)(4/5 + 1/5) \Rightarrow W_f = -499100 \text{ J} = -499.1 \text{ kJ}$$

(سراسری خارج از کشور - ۹۹) (فصل سوم - کار و انرژی جنبشی) (متوسط)

۱۳- گزینه «۳» - جسم تا جایی روی سطح شیب‌دار بالا می‌رود که تندی‌اش صفر شود:



$$W_t = k_2 - k_1 \Rightarrow W_{mg} + W_{fk} = 0 - k_1$$

$$\Rightarrow -mgh + f_k d \cos 18.0^\circ = -\frac{1}{2} m V_1^2$$

$$\Rightarrow -4 \times 10 \times \frac{d}{2} + 5 \times d \times (-1) = -\frac{1}{2} \times 4 \times 20^2 \Rightarrow d = 32 \text{ m}$$

$$h = d \times \sin 30^\circ = \frac{d}{2}$$

(طالب) (فصل سوم - کار و انرژی جنبشی) (متوسط)

۱۴- گزینه «۲» -

$$W_T = \Delta k, V = 7/2 \times \frac{10}{36} = 2 \frac{m}{s}$$

$$W_{mg} + W_{fk} = K_2 - K_1 \Rightarrow mgh + W_{fk} = K_2 - \frac{1}{2} m v_1^2$$

$$\frac{1}{10} \times 10 \times 10 - 4 = K_2 - \frac{1}{2} \times \frac{1}{10} \times (2)^2$$

$$10 - 4 = K_2 - 0.2 \Rightarrow 6 + 0.2 = K_2$$

(رجبی) (فصل سوم - کار و انرژی) (متوسط)

۱۵- گزینه «۲» -

$$V_1 = 72 \frac{km}{h} = 20 \frac{m}{s}$$

محاسبه می‌کنیم خودرو پس از طی چه مسافتی متوقف می‌شود:

$$W_t = k_2 - k_1 \Rightarrow f_k d \cos 18.0^\circ = 0 - \frac{1}{2} m V_1^2 \Rightarrow 4000 \times d \times \cos 18.0^\circ = -\frac{1}{2} \times 800 \times 20^2 \Rightarrow d = 40 \text{ m}$$

بنابراین خودرو در فاصله ۵ متری مانع متوقف می‌شود. (طالب) (فصل سوم - کار و انرژی جنبشی) (متوسط)