

## اقتصاد

۱- هر کدام از جملات زیر مربوط به کدام دوران تاریخی اقتصاد ایران است؟

الف) اقتصاد ایران به جای تکیه بر پایه‌های بومی و درون‌زای داخلی و ملی خود به بیرون از مرزها و قدرت‌های بزرگ متکی شد.

ب) در این دوران اقدامات محدود مذهبی و ملی صورت گرفت.

پ) در این زمان علاوه بر یکپارچگی سیاسی، اقتصاد یکپارچه و مستقلی شکل گرفت که با سایر لایه‌های دینی، اجتماعی و فرهنگی کشور هماهنگی داشت.

۱) الف) سلسله پهلوی / ب) قاجار / پ) نیمه اول حکومت صفویه

۲) الف) حکومت قاجار / ب) اواسط حکومت صفویه / پ) اواخر حکومت صفویه

۳) الف) حکومت رضاخان و تشکیل سلسله پهلوی / ب) قاجار / پ) اواسط حکومت صفویه

۴) الف) حکومت قاجار / ب) سلسله پهلوی / پ) اوایل حکومت صفویه

۲- کدام گزینه در ارتباط با مفهوم استقلال اقتصادی صحیح است؟

۱) یک کشور با استقلال اقتصادی در هیچ زمینه‌ای نیازمند تعامل با سایر کشورها نیست.

۲) استقلال اقتصادی یعنی تقویت اقتصاد داخلی کشور به طوری که بتواند بدون نیاز به واردات فقط صادرات داشته باشد.

۳) هر کشوری که برای پیشرفت با اقتدار و از روی تدبیر با سایر کشورها ارتباط ایجاد کند استقلال اقتصادی دارد.

۴) کشوری که در کل تولیدات به خودکفایی رسیده باشد و کشورش به توسعه و اقتدار دست یابد، بی‌نیاز به تعامل است و او استقلال اقتصادی دارد.

۳- کدام گزینه در مورد مفهوم رشد اقتصادی صحیح نیست؟

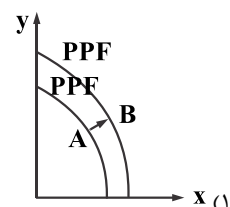
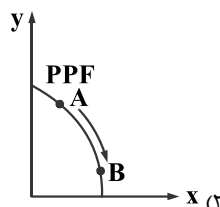
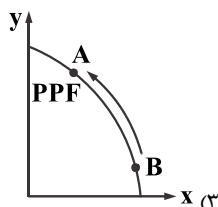
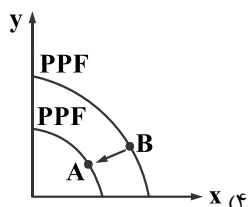
۱) رشد یک مفهوم کمی است و یک هدف است که کشور را قادر می‌سازد تولید بیشتری داشته باشد.

۲) در جامعه‌ای که میزان اسمی تولید در دوره‌ای معین نسبت به دوره قبل افزایش یابد، رشد داشته‌ایم.

۳) کشورها معمولاً با سرمایه‌گذاری بیشتر یا بکارگیری روش مناسب‌تر، موجب افزایش ظرفیت تولید، درآمد و شاخص رشد می‌شوند.

۴) یک منشاء رشد اقتصادی افزایش در منابع است و رشد به معنای افزایش تولید است.

۴- در کشوری فرضی برای برخی از تولیدات داخلی روش‌های بهتر و فناوری مناسب‌تری به کار گرفته‌اند؛ این تغییر در کدام گزینه نمایان است؟



۵- کدام گزینه در محاسبه GDP محاسبه می‌شود؟

۱) آقای سید تقیا انارهای شیرین و خوشمزه‌ای در باغ خود پرورش می‌دهد و شب یلدا به اقوام و دوستان خود انار درجه یک می‌دهد.

۲) خانم میرزاجانی از سایت دیوار برای دختر خود یک صندلی غذای تمیز در حد نو با قیمت مناسب خرید.

۳) آقای کویرپور لباس‌های ترک بسیار خوش جنس و زیبایی از ترکیه بدون مجوز واردات کالا به کشور وارد می‌کند.

۴) خانم ایوبی در منزل برای عید نوروز کوکی‌های زیبای خانگی درست می‌کند و سفارش‌گیری و فروش آن از بهمن ماه آغاز می‌شود.

۶- جدول مقابل مفروض است: (سال ۹۵، سال پایه)

سال ۹۷		سال ۹۶		سال ۹۵		
تعداد (کیلو)	قیمت (تومان)	تعداد (کیلو)	قیمت (تومان)	تعداد (کیلو)	قیمت (تومان)	کالا
۲۰۰	۱۳۰۰	۲۵۰	۱۱۰۰	۳۰۰	۱۰۰۰	الف
۸۰	۱۸۰	۱۲۰	۱۵۰۰	۱۰۰	۱۳۰۰	ب

الف) تولید ناخالص اسمی در سال ۹۶ چند است؟

ب) نرخ رشد اسمی در سال ۹۷ چقدر است؟

پ) GDP واقعی در سال ۹۷ چقدر است؟

۲) الف) ۴۵۵/۰۰۰ ب) ۱۱٪- پ) ۳۰۴/۰۰۰

۱) الف) ۴۰۶/۰۰۰ ب) ۶٪- پ) ۴۰۴/۰۰۰

۴) الف) ۴۵۵/۰۰۰ ب) ۶٪ پ) ۴۰۴/۰۰۰

۳) الف) ۴۰۶/۰۰۰ ب) ۱۱٪ پ) ۳۰۴/۰۰۰

۷- با توجه به جدول‌های مقابل:

کشور الف	کشور ب	کشور الف	کشور ب	کشور الف	کشور ب
۱۱	۱۳	سهم دهک هفتم	۲	۳	سهم دهک اول
۱۵	۱۱	سهم دهک هشتم	۳	۴	سهم دهک دوم
۱۷	۱۸	سهم دهک نهم	۵/۵	X	سهم دهک سوم
۲۱	۲۰	سهم دهک دهم	۸/۵	۷	سهم دهک چهارم
۱۰۰٪ درآمد ملی		۱۰۰٪ جمعیت کشور	۹	۸	سهم دهک پنجم
			۱۰	X	سهم دهک ششم

الف) توزیع درآمد در کدام جامعه

عادلانتر است؟

ب) اگر اختلاف دهک هفتم و سوم در کشور «الف» معادل ۶ باشد، دهک سوم چند است؟

پ) دهک ششم در کشور «الف» معادل چه عددی است؟

۲) الف) کشور الف / ب)  $X_3 = 5$  / پ)  $X_6 = 9$

۱) الف) کشور ب / ب)  $X_3 = 6$  / پ)  $X_6 = 9$

۴) الف) کشور ب / ب)  $X_3 = 5$  / پ)  $X_6 = 12$

۳) الف) کشور الف / ب)  $X_3 = 6$  / پ)  $X_6 = 12$

۸- با توجه به سؤالات زیر کدام گزینه صحیح است؟

الف) برای مدیریت بهتر موجودی پولتان بهتر است چه کنید؟

ب) اگر در مراحل بودجه‌ریزی ماهانه هزینه‌ها بیشتر از درآمد شود چه راهکاری پیشنهاد می‌دهید؟

پ) خمس را باید به چه کسانی پرداخت کنیم؟

۱) الف) دو شیفت کار کنید که درآمادتان بیشتر شود. / ب) مخارج غیرضروری را کم کنید و بازار خوبی برای کالاها فراهم کنید. / پ) مرجع تقلید یا نماینده آن‌ها

۲) الف) مخارج و درآمد را در جدولی ثبت کنید. / ب) از ریخت و پاش‌های اضافی جلوگیری کنید و بهره‌وری‌تان را بالا ببرید. / پ) امام و سادات

۳) الف) ابتدای ماه ۱۰٪ آن را پس‌انداز کنید. / ب) بازار فروش خوبی برای کالاها فراهم کنید / پ) امام یا سادات

۴) الف) همه مخارجی که در طول هفته دارید در جدولی ثبت کنید. / ب) مخارج غیر ضروری را کم کنید و راهی برای افزایش درآمد پیدا کنید. / پ) مرجع

تقلید یا نماینده آن

۹- درآمد سالیانه آقای بیگی معادل ۴۳ میلیون تومان است. ایشان از سال گذشته پس اندازی معادل ۴ میلیون تومان داشته اند، اگر مخارج ایشان

به شرح جدول زیر باشد:

نوع خرج	مقدار به میلیون تومان
اجاره	۱۱
خدمات رفاهی	۱/۵
قبوض	۲/۵
قسط وام	۳
بنزین	۱/۷۵
بیمه	۲/۲۵
پوشاک	۳/۲
غذا	۴/۸
سایر	۱

الف) با احتساب پس انداز، ایشان بیشتر از دخل خود خرج کرده اند یا کمتر؟

ب) خمس پرداختی ایشان در پایان سال چقدر است؟

۱) الف) ۱۶ میلیون تومان بیشتر از دخل خود خرج کرده / ب) ۱۲/۰۰۰/۰۰۰ تومان

۲) الف) ۱۶ میلیون تومان کمتر از دخل خود خرج کرده / ب) ۳/۲۰۰/۰۰۰ تومان

۳) الف) ۱۲ میلیون تومان مازاد درآمد دارد / ب) ۱/۲۰۰/۰۰۰ تومان

۴) الف) ۱۲ میلیون تومان بیشتر از دخل خود خرج کرده / ب) ۳/۲۰۰/۰۰۰ تومان

۱۰- مخارج شخصی که درآمدی معادل ۳۰ میلیون تومان دارد و خمسی معادل ۲ میلیون تومان

می پردازد؛ چقدر است؟

۴) بیست میلیون تومان

۳) ده میلیون تومان

۲) پنجاه میلیون تومان

۱) سی میلیون تومان