

طرح سنجش استعداد: گونیا - توصیفی
مدت پاسخگویی و انجام فعالیت: ۴۵ دقیقه

درس: استعداد فضایی دوم دبستان



زمان برگزاری: هفته دوم مهر

علوی

فعالیت‌های استعداد فضایی پایه‌ی دوم

فعالیت ۱

۱۶- هر یک از تصاویر زیر شبیه کدام یک از اشکال داده شده است؟ آن را بکشید.



طرح سنجش استعداد: گونیا - توصیفی
مدت پاسخگویی و انجام فعالیت: ۴۵ دقیقه

درس: استعداد فضایی دوم دبستان
زمان برگزاری: هفته دوم مهر

علوی

فعالیت ۲

۱۷- به نقشه‌ی زیر با دقت نگاه کنید و به سوالات پاسخ دهید.




راهنمای نقشه

 خانه	 جاده	 کوه	 مرکز خرید
 جنگل	 دریاچه	 مدرسه	 بیمارستان

الف) موارد داده شده در نقشه را به رنگ‌های زیر، رنگ نمایید.

- کوه ← قهوه‌ای
- جاده ← طوسی
- جنگل ← سبز
- بیمارستان ← قرمز
- دریاچه ← آبی
- خانه ← بنفش
- مدرسه ← نارنجی
- مرکز خرید ← زرد

ب) تصویر کوه در نقشه شبیه کدامیک از اشکال زیر است؟

- (۱) 
- (۲) 
- (۳) 
- (۴) 

پ) کدامیک از خانه‌های نقشه به مدرسه نزدیک‌تر هستند؟

- (۱) خانه‌ی شماره ۱
- (۲) خانه‌ی شماره ۲
- (۳) خانه‌ی شماره ۳
- (۴) خانه‌ی شماره ۴

طرح سنجش استعداد: گونیا - توصیفی
مدت پاسخگویی و انجام فعالیت: ۴۵ دقیقه

درس: استعداد فضایی دوم دبستان
زمان برگزاری: هفته دوم مهر

علوی

فعالیت ۳

۱۸- قطعات رنگی پازل در پایین صفحه را قیچی کنید و روی تصویر داده شده بچسبانید.

