

طرح سنجش استعداد: گونیا - تشخیصی  
مدت پاسخگویی و انجام فعالیت: ۴۵ دقیقه

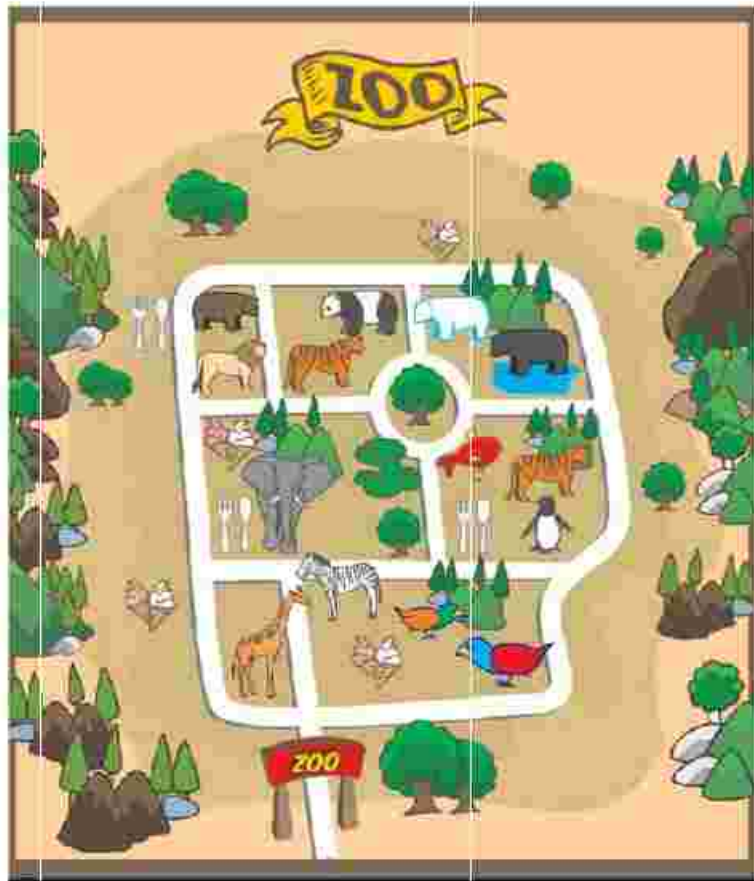
درس: استعداد فضایی سوم دبستان  
زمان برگزاری: هفته دوم مهر

علوی

فعالیت‌های استعداد فضایی پایه سوم

فعالیت ۱

۲۲- به نقشه‌ی باغ وحش توجه کرده و سپس به سؤالات پاسخ دهید.



الف) برای رسیدن به کدام حیوان باید از درب ورودی در مسیر طولانی‌تری راه بروید؟

۱) ماهی      ۲) فیل      ۳) خرس قطبی      ۴) شیر

ب) در این باغ وحش چند رستوران و چند بستنی‌فروشی وجود دارد؟



پ) محل نگهداری کدام حیوانات دور میدان درختی در باغ وحش است؟

.....


طرح سنجش استعداد: گونیا - تشخیصی  
مدت پاسخگویی و انجام فعالیت: ۴۵ دقیقه

درس: استعداد فضایی سوم دبستان  
زمان برگزاری: هفته دوم مهر

علوی

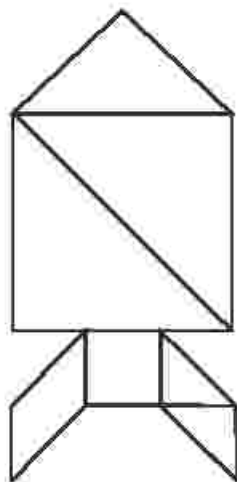
فعالیت ۲

۲۳- هر یک از اشکال زیر از چند  ساخته شده است؟



فعالیت ۳

۲۴- هر یک از اجزای داخل مربع تانگرام در صفحه ضمیمه را با قیچی از یکدیگر جدا کنید، سپس با توجه به شکل داده شده، قطعات را به همان ترتیب در پشت صفحه بچسبانید.



طرح سنجش استعداد: گونیا - تشخیصی  
مدت پاسخگویی و انجام فعالیت: ۴۵ دقیقه

درس: استعداد فضایی سوم دبستان  
زمان برگزاری: هفته دوم مهر

**علوی**

صفحه‌ی ضمیمه

