







به نام خدا





۱- برای هر دسته عدد مناسب و شکل بکش.

Activity 1: Matching shapes to numbers. Six ovals are shown, each containing a set of hearts. Below each oval is a square box for the number.

|   |   |   |   |   |   |
|---|---|---|---|---|---|
|  |  |  |  |  |  |
| <input type="text"/>  | ۷   | <input type="text"/>  | ۴   | <input type="text"/>  | ۶   |





۲- به هر شکل ۲ تا اضافه کن و عدد را بنویس.

Activity 2: Adding 2 to a set of hearts. Four ovals are shown, each containing a set of hearts. Below each oval is a square box for the number.

|  |  |   |  |
|--|--|---|--|
|  |  |  |  |
| <input type="text"/>   | <input type="text"/>   | <input type="text"/>  | <input type="text"/>   |

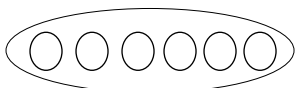
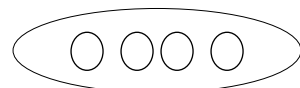
۳- از هر شکل ۳ تا کم کن و عدد را بنویس.

Activity 3: Subtracting 3 from a set of hearts. Four ovals are shown, each containing a set of hearts. Below each oval is a square box for the number.

|   |   |  |   |
|---|---|--|---|
|  |  |  |  |
| <input type="text"/>  | <input type="text"/>  | <input type="text"/>   | <input type="text"/>  |

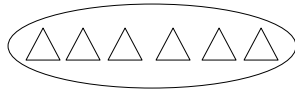
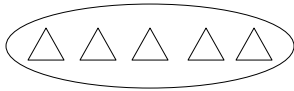
۴- در شکل دسته ی کمتر را رنگ کن و دو طرف علامت عدد مناسب بنویس.

Activity 4: Comparing two groups of circles. The first group has 6 circles, and the second group has 4 circles.

|   |   |
|---|---|
|  |  |
|---|---|

..... < .....

۵- در شکل دسته ی بیش تر را رنگ کن و دو طرف علامت عدد مناسب بنویس.



..... > .....

۶- الگو را به ترتیب ادامه بده.



..... + ..... = .....

۷- برای شکل جمع بنویس.

$6 + 2 = \dots\dots\dots$

۸- برای جمع شکل بکش.

..... - ۱۰ - ..... - ۷ - ..... - ..... - ۴ - ..... - ۱ - .....

۹- اعداد قبل و بعد را به ترتیب بنویس.

۱۰- همان قدر که ستاره مه بینی از گل ها جدا کن.



۱۱- جمع عدد ۳ را کامل بنویس.  $\dots\dots\dots + \dots\dots = 3$     $\dots\dots\dots + \dots\dots = 3$     $\dots\dots\dots + \dots\dots = 3$     $\dots\dots\dots + \dots\dots = 3$

۱۲- جدول شگفت انگیز را کامل کن.

|   |   |   |   |   |   |
|---|---|---|---|---|---|
| ۶ | ۵ |   | ۳ | ۲ | ۱ |
| ۵ |   | ۳ | ۲ | ۱ | ۶ |
| ۴ | ۳ | ۲ |   | ۶ | ۵ |
| ۳ | ۲ | ۱ |   | ۵ | ۴ |
| ۲ | ۱ | ۶ | ۵ |   |   |
| ۱ |   | ۵ | ۴ | ۳ | ۲ |