



۲ عددها را بخوان و برای آنها شکل بکش.



۱۲



۱۵

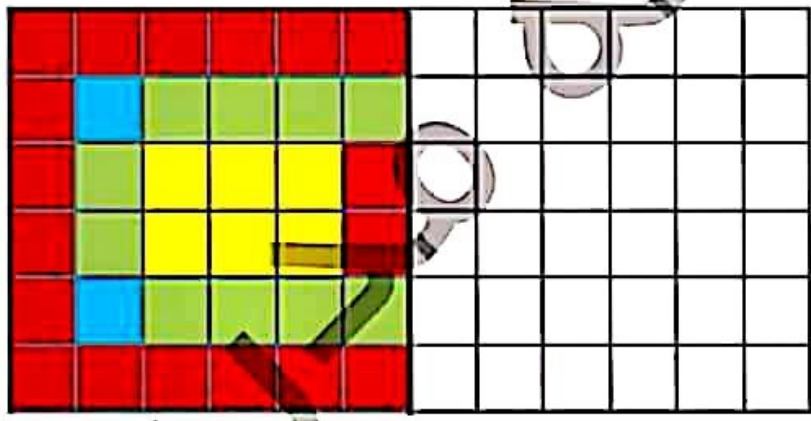


۱۸



۱۴

۴ نیمه‌ی سمت راست شکل را مانند سمت چپ رنگ بزن.



۵ عددهای روی ساعت را بنویس.



- دانش آموز بتواند با کشیدن شکل به مفهوم اعداد مسلط شود.
- دانش آموز بتواند ابروی شکل‌های ظریفی را کامل کند.
- دانش آموز با عددهای ساعت آشنا شود و به شناخت محور و صفحه‌ی ساعت توجه کند.

ریاضی اول دبستان



علوی

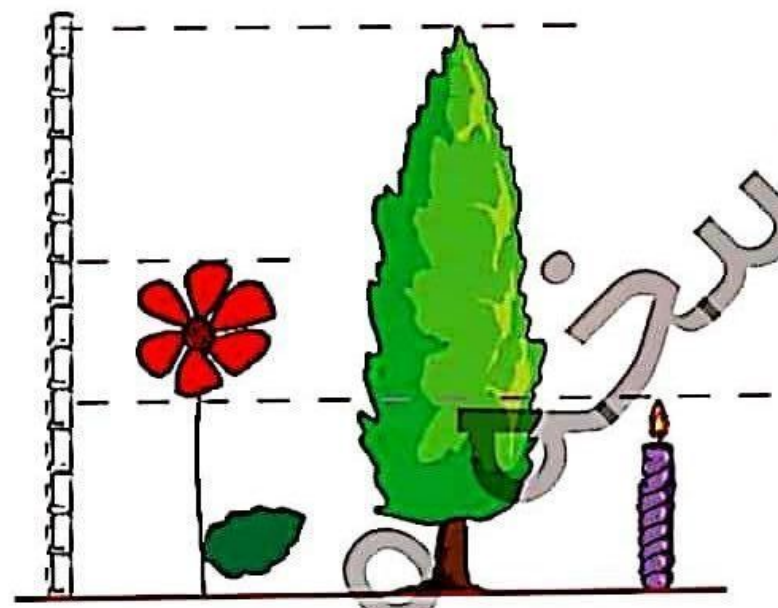
۸ از صفر تا ۱۹ به ترتیب و با عدد بنویس.

.....

۹ اندازه‌ی شمع از کوتاه‌تر است.

اندازه‌ی درخت از بلندتر است.

اندازه‌ی گل است.



۱۰ جدول شگفت‌انگیز زیر را کامل کن.

	۲		۳	۵	۶	۷	۸	۹
۴	۵	۷		۸		۲	۳	۶
۶	۸	۹	۲	۳	۷		۴	
		۵	۳	۶	۲	۹	۷	۳
۲	۷	۳		۹		۶	۵	۳
۳	۹	۶	۵	۷	۴	۸		
	۲		۶	۱	۸	۳	۹	۷
۷	۶	۱		۴		۵	۲	۸
۹	۳	۸	۷	۲	۵		۶	

- دانش آموز باید بتواند اعداد را به ترتیب متناوب و بنویسد.
- دانش آموز بتواند اندازه‌ی طول اجسام را نسبت به یک واحد مقایسه کند.
- دانش آموز باید بتواند جدول شگفت‌انگیز را به درستی انجام دهد.

