





نام و نام خانوادگی: _____ تاریخ: _____ موضوع: _____ هدف: _____



محور زیر را مانند یک خط کش شماره گذاری کن.



با توجه به شکل، جمع مناسب را بنویس و حاصل را پیدا کن.



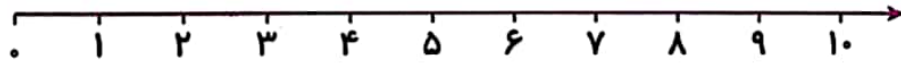
..... + + =



..... + + =

با کمک محور جمع های زیر را انجام بده.

$2 + 3 + 1 + 2 =$



$4 + 2 + 3 =$

