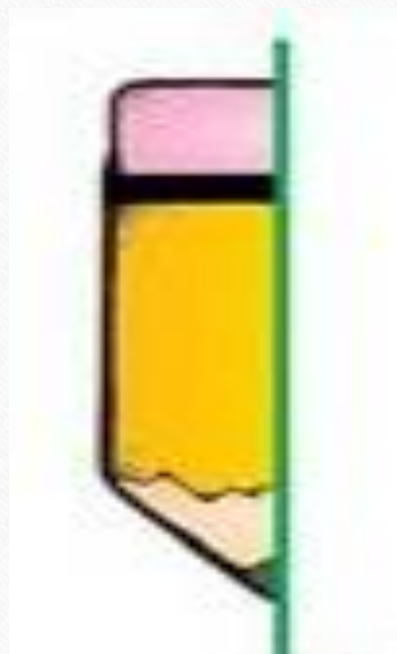
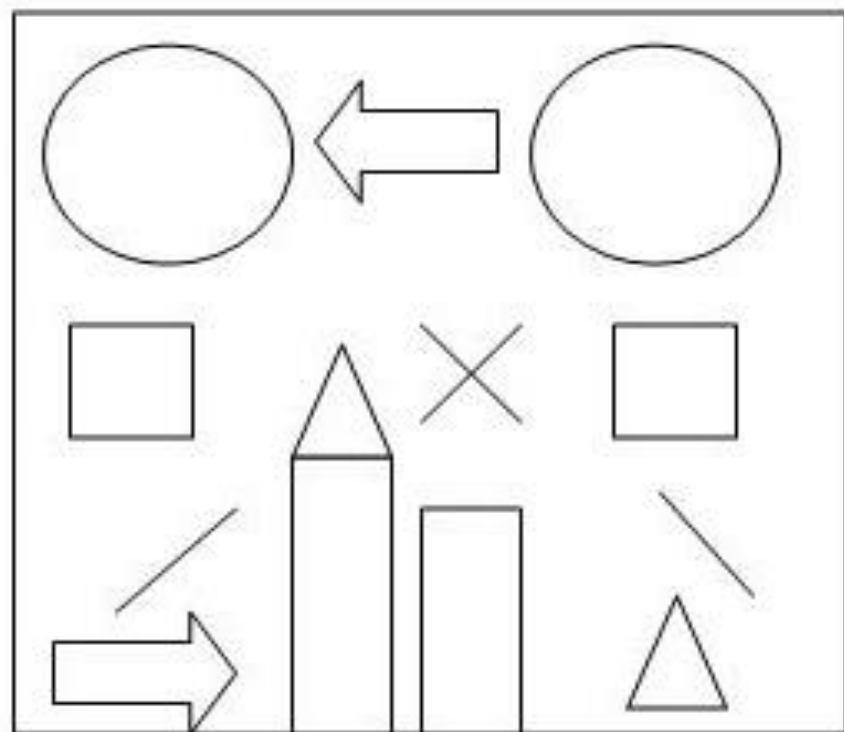


نیمه دیگر شکل های زیر را بکشید ، سپس رنگ آمیزی کنید .



۱- با توجه به شکل رو به رو ، موارد خواسته شده را انجام بده .



الف : گوشه های مربع سمت چپ را قرمز کن .

ب : داخل دایره ی سمت راست را آبی کن .

پ : داخل مستطیل بلند تر را سبز کن .

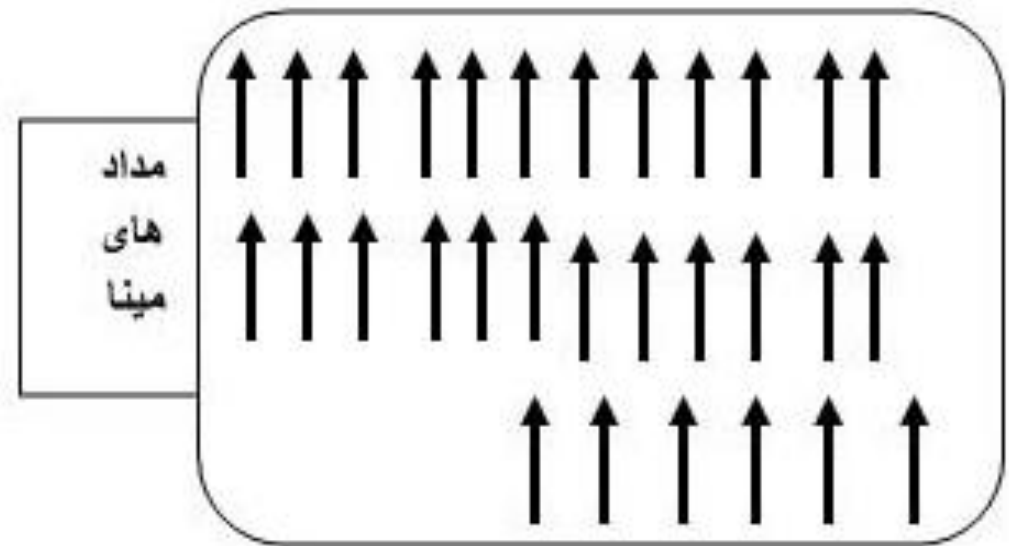
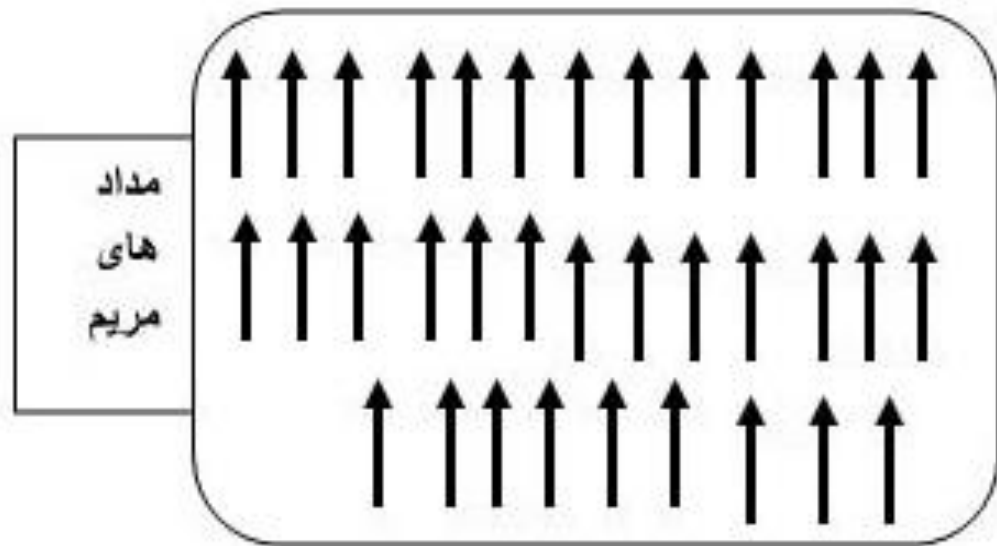
ت : گوشه های مثلث روی مستطیل را نارنجی کن .

ث : خط های راست را قهوه ای کن .

ج : داخل دایره ی سمت چپ به اندازه ی بزرگترین عدد یک رقمی چوب خط بکش .

چ : داخل فلشی که جهت حرکت به سمت راست را نشان می دهد ، کوچکترین عدد دو رقمی را بنویس .

۲- مدادهای مریم و مینا را با توجه به جدول یکی ده تایی ، دسته بندی کن .



یکی ده تایی | به عدد:

یکی ده تایی | به عدد:

به حروف:

به حروف:

روی میز ۹ کتاب بود. پروانه ۶ کتاب را برداشت. چند کتاب روی میز است؟

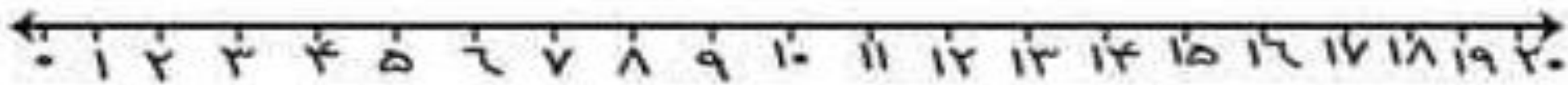
مادر آزاده آش پخته بود. آزاده در ۷ کاسه آش ریخت. او باید در چند کاسه ی دیگر آش بریزد تا در ۱۰ کاسه آش ریخته باشد؟

پروین در حیاط خانه شان در سه ردیف ۵ تایی گل کاشت.

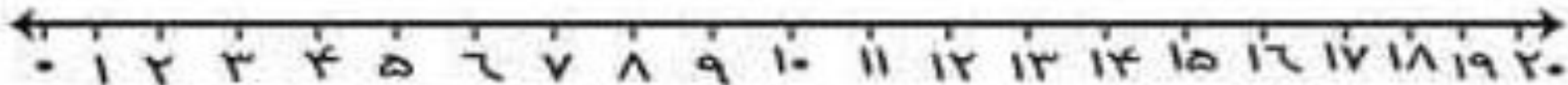
او چند گل کاشته است؟

امیر و جواد برادر هستند. آن ها هر کدام ۴ مداد خریدند. آن ها چند مداد خریده اند؟

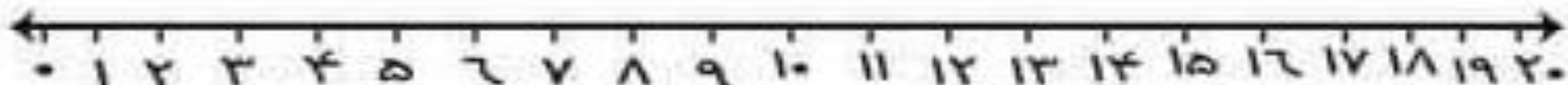
جمع و تفریق های زیر را روی محور نشان بده ، سپس جواب آنها را بنویس .



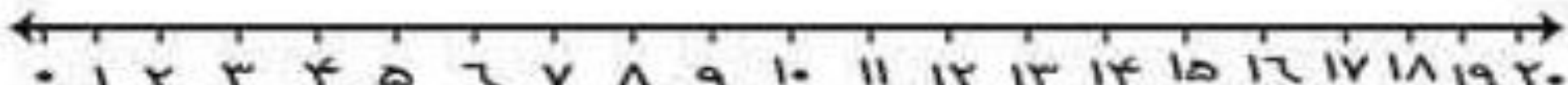
$9 + 7 =$



$3 + 5 =$



$10 - 4 =$

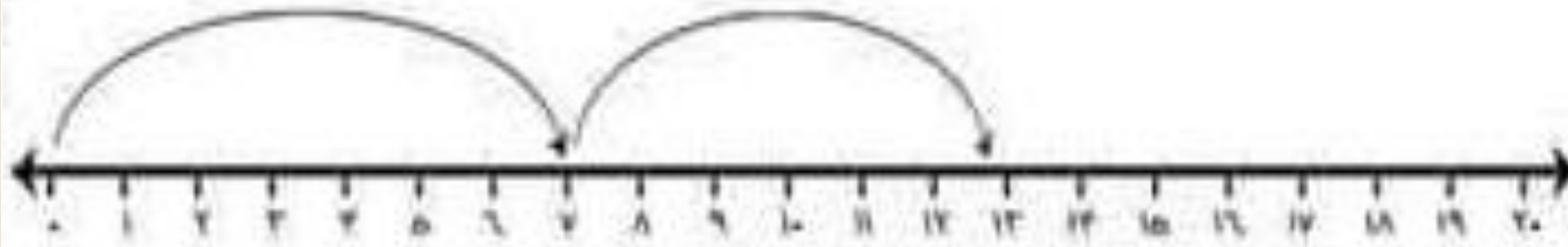


$15 - 1 =$

با کمک محور جمع و تفریق بنویس



Empty dashed rectangular box for writing the answer.



Empty dashed rectangular box for writing the answer.

جاهای خالی را با عدد مناسب کامل کن.

$$۵ + ۵ + ۵ + ۳ =$$

$$۵ - ۲۰ =$$

$$۲۰ + ۱۰ + ۵ =$$

$$۵ + ۱۰ + ۳۰ =$$

$$۱۰ + ۵ + ۳۰ =$$

$$۲۰ + ۵ + ۳ =$$

$$۵۰ + ۲۰ + ۵ + ۳ =$$

$$۱۰ + ۶ - ۳ =$$

• - ۸ - ۱۶ - ۲۴ -

- - -

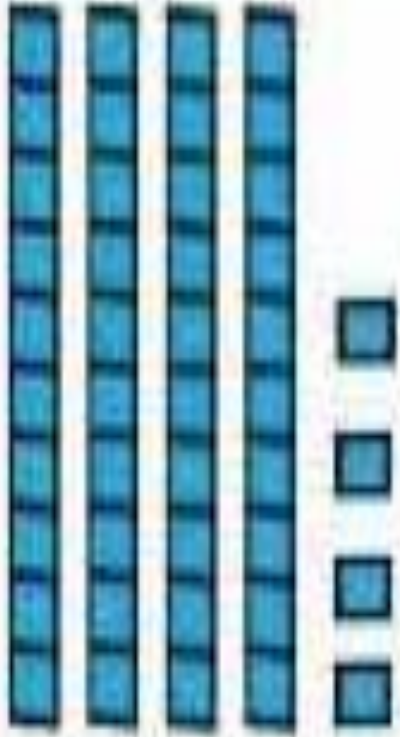
• - ۹ - ۱۸ - ۲۷ -

- - -

با چوب خط جمع بنویس.

$$۶ + ۵ + ۸ = \square$$


$$۳ + ۹ + ۴ = \square$$



یکی ده تایی

به عدد

به حروف



یکی ده تایی


به عدد

به حروف


جدول شگفت انگیز را کامل کنید ؟

۸	۲	۶	۹	۳		۱	۴	۷
	۱	۷	۶	۸	۲		۵	۳
۹	۵		۱	۷	۴	۸	۲	
۷	۹	۴	۸		۱	۶	۳	۵
۵		۸	۳	۴	۷	۲	۹	
	۳	۲	۵	۶		۴		۸
۳		۱	۲	۵	۸	۷	۶	۹
۲	۸	۵		۹	۶	۳	۱	۴
۶	۷	۹	۴	۱	۳	۵		۲


با توجه به عدد های نوشته شده شکل بکش و دسته بندی کن



۳ بسته ی ۴ تایی و ۰ یکی



۵ بسته ی ۲ تایی و ۱ یکی



۶ بسته ی ۳ تایی و ۲ یکی

اعداد را بخوان و وارد جدول کن ؟

سی و هشت

ده تایی	یکی

شانزده

ده تایی	یکی

پنجاه و شش

ده تایی	یکی

نود و یک

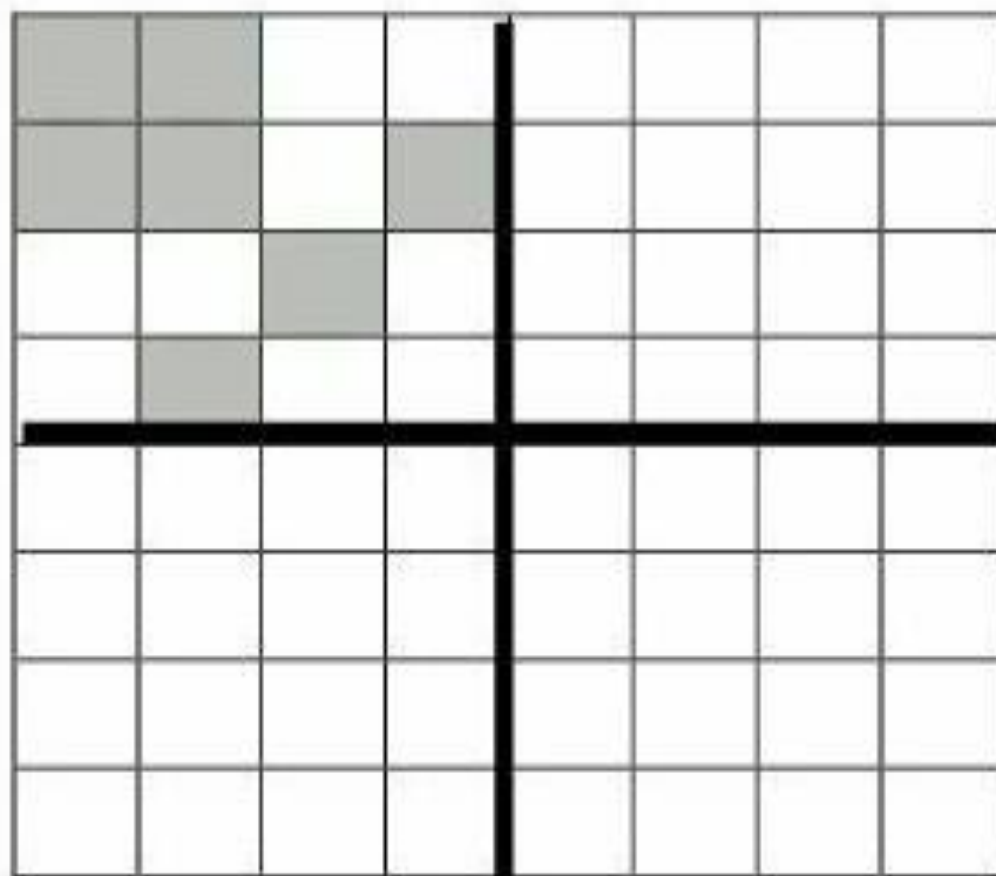
ده تایی	یکی

مادر معصومه خیاط است . او به هر مانتو ۶ دکمه می زند . برای دو مانتو چند

دکمه باید بخرد ؟

سارا ۵ بادبادک درست کرد . برادرش سامان ۶ بادبادک درست کرد .
دوستش ۷ تای دیگر درست کرد . این سه نفر چند بادبادک درست کردند ؟

با توجه به خط های تقارن سه قسمت را رنگ کن.



چند تا چند تا شمردن را ادامه بده

۸	۱۸	۵۳
۴	۱۲	۴۳

↑

هر عدد را به نامش وصل کن . از ۵ مدادرنگی کمک بگیر .

چهل و دو

۳۵

هشتاد و دو

۶۴

پنجاه و سه

۵۳

شصت و چهار

۴۲

سی و پنج

۸۲

در جاهای خالی اعدادی که جا مانده را به ترتیب بنویس . (شمارش رو به جلو)

The grid contains the following numbers in the following positions (row, column):

- Row 1: 1 (2), 4 (4), 5 (5), 9 (7), 12 (9)
- Row 2: 31 (1), 25 (5), 18 (9)
- Row 3: 39 (6), 44 (8)
- Row 4: 62 (2), 58 (4), 53 (7)
- Row 5: 69 (5), 78 (10)
- Row 6: 94 (2), 83 (9)

A red star is located in the 5th column of the 6th row.

در جاهای خالی اعدادی که جا مانده را به ترتیب بنویس . (شمارش رو به عقب یا معکوس)

99 96 95 91 88

70 78 81 82

64 61 54


42

35 26


10 18

5

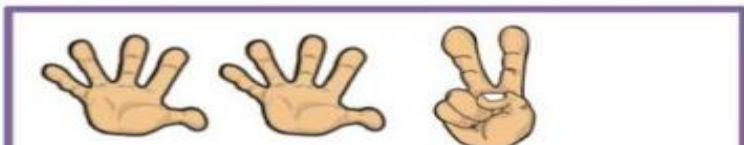
دسته ی ده تایی درست کن و دور عدد مناسب خط بکش.



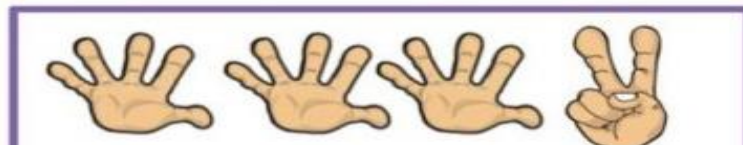
19 18 17



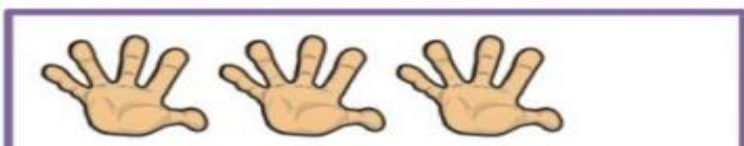
14 15 16




11 12 13



16 18 17



15 16 17



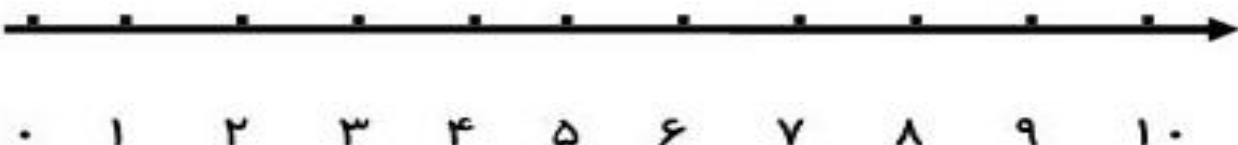
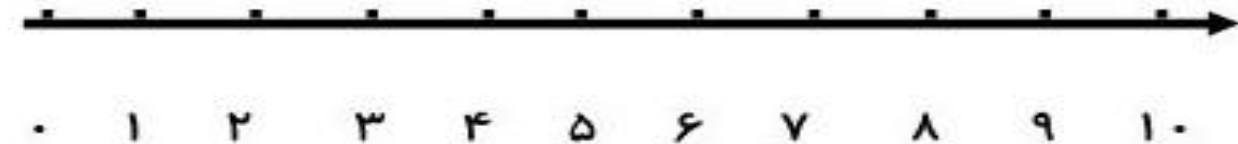
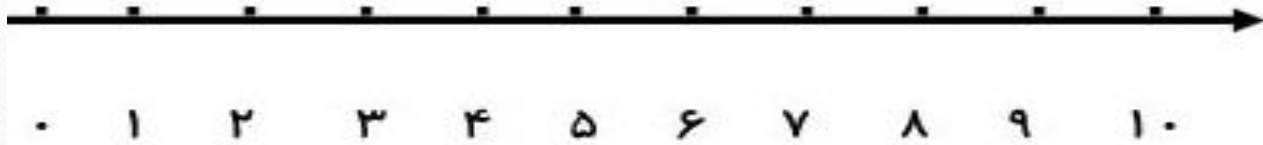
12 14 10

۱ - با محور اعداد ، جمع و تفریق کن .

$$۵ + ۳ = \square$$

$$۲ + ۳ + ۴ = \square$$

$$۹ - ۳ = \square$$



ژاله ۵ دسته ی ده تایی گل داشت . برادرش سامان ۳ دسته ی ده تایی دیگر گل به او داد . حالا ژاله چند دسته ی ده تایی گل دارد ؟

حامد ۸ دسته ی ده تایی حلزون داشت . ۲ دسته ی ده تایی حلزون را به حمید داد . حالا حامد چند حلزون دارد ؟