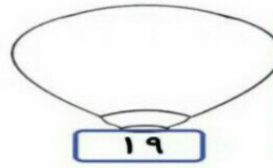
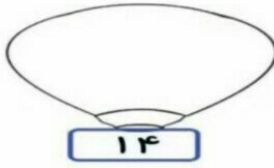
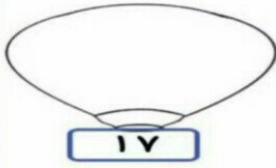


۱- برای عددهای زیر چوب خط بکش .



۲- پاسخ عبارات های زیر را بنویس .

$3+4=$

$9-4=$

$7+9=$

$6+5=$


$8+7=$

$8-5=$

۳- عددهایی که به حروف نوشته شده اند را به عدد و آن هایی که به عدد نوشته شده اند را به حروف بنویس.



۴- برای شکل های زیر جمع یا تفریق بنویس.



۵- برای عبارات های زیر شکل بکش .

$8+6=$

$8-4=$



با توجه به مربع های رنگ شده یا چوب خط ها جمع ها را بنویس و حاصل را پیدا کن.



$$\text{---} + \text{---} = \text{---}$$



$$\text{---} + \text{---} = \text{---}$$

مرحله به مرحله جمع کن و پیمایش حاصل چه عددی می شود.



به عدد و حروف بنویس.

۱۰		۸	۵		۴	۱
	صفر	هشت	پنج	سه		یک

در اعداد زیر دور ده تایی ها خط بکش.

۴۴ ۶۹ ۵۸ ۱۲ ۵۴ ۲۶

از عدد ۶۷ شروع کن و تا عدد ۷۵ بنویس.

.....
از عدد ۸۳ شروع کن و تا عدد ۹۱ بنویس.

به هر عدد ۵ تا اضافه کن و پیمایش چه عددی می رسی.

$$۴۶ \xrightarrow{+۵} \quad \quad \quad ۶۳ \xrightarrow{+۵}$$

$$۵۱ \xrightarrow{+۵} \quad \quad \quad ۳۷ \xrightarrow{+۵}$$



Handwriting practice lines with a dashed border.



علوی

بنام خانواده جان و سز

پایه:

موضوع:

تاریخ:

نام و نام خانوادگی:

هدف:

به حروف و عدد بنویس .

۱۸	۲۲	۳۷	۴۹
چهل و هفت	شصت	هشتاد و دو	بیست و هفت
۵۴	۶۶	۷۳	۸۹
نود و یک	سی و شش	چهل و پنج	نود و سه

$30 + 30 =$ $<$ $=$ $>$ $10 + 40 =$

$17 + 7 =$ $<$ $=$ $>$ $15 + 8 =$

$25 + 5 =$ $<$ $=$ $>$ $15 + 10 =$

