

موضوع:

تاریخ:

نام و نام خانوادگی:

هدف:

۶- آرزو در گلدان ۵ گل قرمز و ۳ گل سفید گذاشت.

آرزو در گلدان چند گل گذاشته است؟





۷- اعداد قبل و بعد را بنویس.

..... - - ۲۴ - -

..... - - ۷۱ - -




۸- دور دسته بیش تر خط بکش و دو طرف علامت عدد مناسب بنویس.



..... <



۹- برای شکل دو جمع مناسب بنویس.



..... + = + =




۱۰- ۹ شمع روی کیک تولد آزاده بود. آزاده ۶ تای آن ها را خاموش کرد . چند شمع روشن مانده

است؟



۱۱- مربع را آبی و مثلث را سبز و دایره را در خط بسته بگذار.



Blank writing area with horizontal lines.

