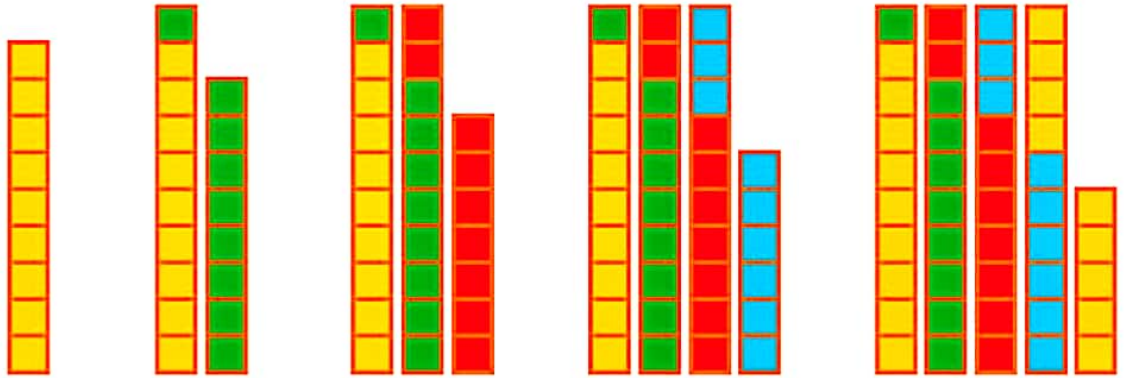


مسئله حل کن

ابتدا با کمک شکل‌ها جاهای خالی را پر کن.  
سپس مسئله‌ها را با استفاده از شکل حل کن.



۰

۹



در کلاس اول ۲۹ دانش‌آموز نشسته بودند. ۹ نفر از آنها از کلاس بیرون رفتند. چند نفر در کلاس ماندند؟



در کلاس ماندند.

کلاس دوم ۲۷ دانش‌آموز دارد. ۹ نفر آنها برای بازی فوتبال رفتند. اگر ۹ نفر دیگر هم برای طناب زدن بروند، چند نفر در کلاس باقی مانده‌اند؟



در کلاس ماندند.

کار و هفتاد و سه ۱۷۳

دانش‌آموزان برای حل مسئله‌ها می‌توانند از رسم شکل یا چوب خط استفاده کنند. همچنین تشخیص زیر مسئله‌ها اهمیت دارد.

می‌توانید مانند بالا به فرزندتان مسئله بدهید و بخواهید با رسم شکل حل کند.



اگر اطلاعات مسئله کافی است آن را حل کن.  
عقربه‌های ساعت آخر را با توجه به الگوی آن بکش.

مسئله  
حل کن



۱) یک اتوبوس ۴۰ صندلی دارد. ۲۴ مسافر در اتوبوس بودند که به ایستگاه امام خمینی رسید. ۴ نفر از اتوبوس پیاده شدند. اتوبوس چند صندلی دارد؟



۲) سعیده یک کتابخانه‌ی ۲ طبقه دارد. در طبقه‌ی اول ۱۲ کتاب و در طبقه‌ی دوم ۱۳ کتاب دارد. او ۴ کتاب از طبقه‌ی اول برداشت و در طبقه‌ی دوم قرار داد. او روی هم چند کتاب در این کتابخانه دارد؟



۳) ۲ تاکسی از ابتدای خط شروع به حرکت کردند. در یک تاکسی ۴ مسافر و در تاکسی دیگر ۳ مسافر نشسته بودند. در بین راه چند نفر پیاده و چند نفر دیگر سوار شدند. در انتهای این مسیر چند مسافر از تاکسی‌ها پیاده شدند؟



هدف این صفحه، تشخیص اطلاعات اضافی یا اطلاعات کم هر مسئله است.

فرزند شما در فعالیت پایین صفحه علاوه بر نوشتن ساعت‌ها، الگو را تشخیص می‌دهد و عقربه‌های ساعت را می‌کشد.



صد و هفتاد و چهار

۱۷۴

۸ مسئله‌ها را با رسم چوب‌خط حل کن.


الف) سارا ۶ مداد آبی، ۳ مداد قرمز و ۸ مداد زرد دارد. او چند مداد دارد؟



ب) روی میز معلم، ۷ کتاب فارسی، ۵ کتاب نگارش و ۹ کتاب علوم بود. روی میز معلم چند کتاب وجود داشت؟




پ) ۶ سیب زرد، ۹ سیب قرمز و ۴ سیب سبز در سینی است. روی هم چند سیب در سینی است؟



ت) ۷ لاک‌پشت در آب شنا می‌کردند. ۶ اردک و ۸ قورباغه هم در آب رفتند. حالا چند حیوان در آب شنا می‌کنند؟



ث) در سالن نهارخوری مدرسه ۱۵ لامپ روشن بود. آموزگار ۵ تا از لامپ‌ها را خاموش کرد. حالا چند لامپ در سالن روشن است؟

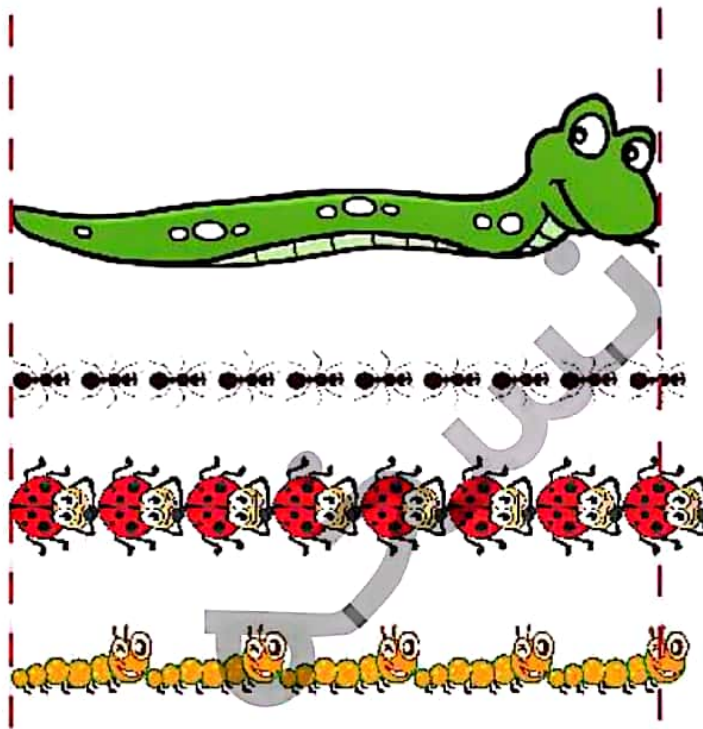


□ دانش‌نویز بتواند با درک و فهم مسئله آن را با استفاده از چوب‌خط حل کند.



ریاضی اول دبستان





اندازه‌ی مار بین ..... تا ..... مورچه است.

اندازه‌ی مار بین ..... تا ..... کفشدوزک است.

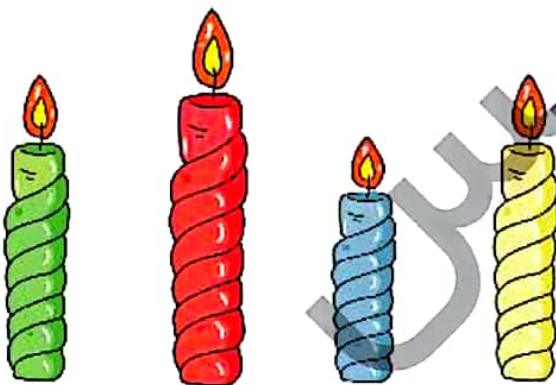
اندازه‌ی مار بین ..... تا ..... کرم است.

۱۰ جمله‌های زیر را با کلمه‌های «هم اندازه»، «بلندترین»، یا «کوتاه‌ترین» کامل کن.

شمع آبی ..... است.

شمع زرد با شمع سبز ..... است.

شمع قرمز ..... است.



- دانش آموز بتواند اشکال را به صورت تقریبی اندازه‌گیری کند.
- دانش آموز بتواند اندازه‌ی اشیا را با هم مقایسه و توصیف کند.

