



به نام خدا



# علوی

برای هر شکل یک مسئله بنویس و آنها را حل کن.



.....

.....

.....

.....

.....

.....


.....

.....

نستند

ب


برای هر شکل یک مسئله بنویس و آنها را حل کن.



علی ۹ بستنی خرید او ۴ بستنی را  
خورد. چند بستنی برایش باقی  
مانده است؟

$$9 - 4 = 5$$

۵ بستنی باقی مانده است.

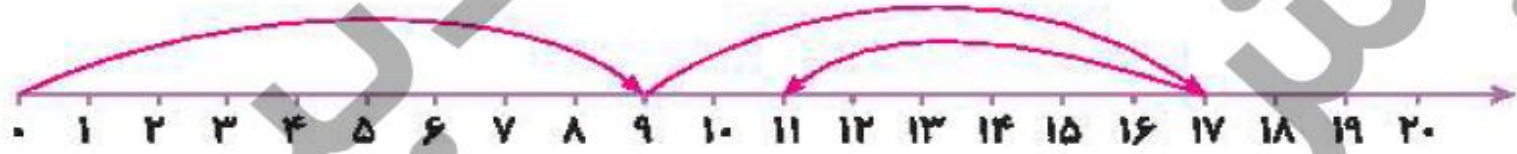


زهرا ۶ شاخه گل داشت. مادرش  
نیز ۷ شاخه گل به او هدیه داد. حالا  
زهرا چند شاخه گل دارد؟

$$6 + 7 = 13$$

۱۳ شاخه گل دارد.

برای محور زیر یک مسئله بنویس و آن را حل کن.



.....

.....

.....

.....

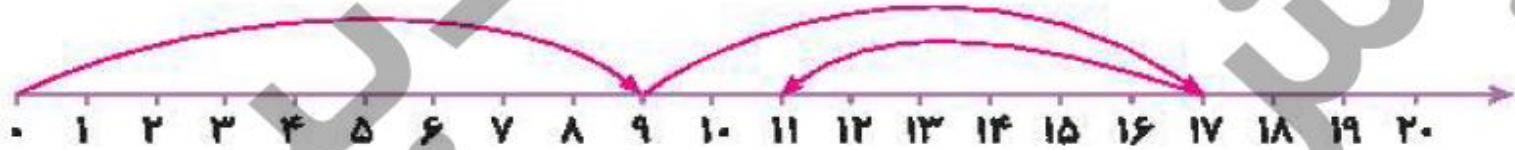
.....

.....

.....

□ دانش آموز بتواند با توجه به شکل‌ها و محور مسئله بنویسد و آن‌ها را حل کند.





در یک اتوبوس ۹ مسافر نشسته بود. در ایستگاه اول ۸ نفر دیگر سوار شدند و در ایستگاه بعدی ۶ نفر پیاده شدند. چند مسافر در اتوبوس باقی مانده است؟

$$۹ + ۸ - ۶ = ۱۱$$

**۱۱ مسافر باقی مانده است.**



۷ اگر اطلاعات مسئله کافی است آن را حل کن.

الف) علی دو ظرف میوه برای مهمان‌ها آماده کرده بود. در ظرف اول ۲ موز و ۴ سیب بود و در ظرف دوم ۶ موز و ۴ سیب بود. او از ظرف دوم ۲ موز برداشت و آن‌ها را در ظرف اول گذاشت. او روی هم چند موز در ظرف‌ها دارد؟



۷

۷ اگر اطلاعات مسئله کافی است آن را حل کن.

الف) علی دو ظرف میوه برای مهمان‌ها آماده کرده بود. در ظرف اول ۲ موز و ۴ سیب بود و در ظرف دوم ۶ موز و ۴ سیب بود. ~~اگر از ظرف دوم ۲ موز برداشت و آن‌ها را در ظرف اول گذاشت، او روی هم چند موز در ظرف‌ها دارد؟~~




$$2 + 6 = 8$$

۸ موز در ظرف‌ها دارد.

ب) اصغر ۳۰ بادکنک به رنگ‌های مختلف داشت. با آمدن باد، چندتا از بادکنک‌ها به هوارفتند. حالا اصغر چند بادکنک

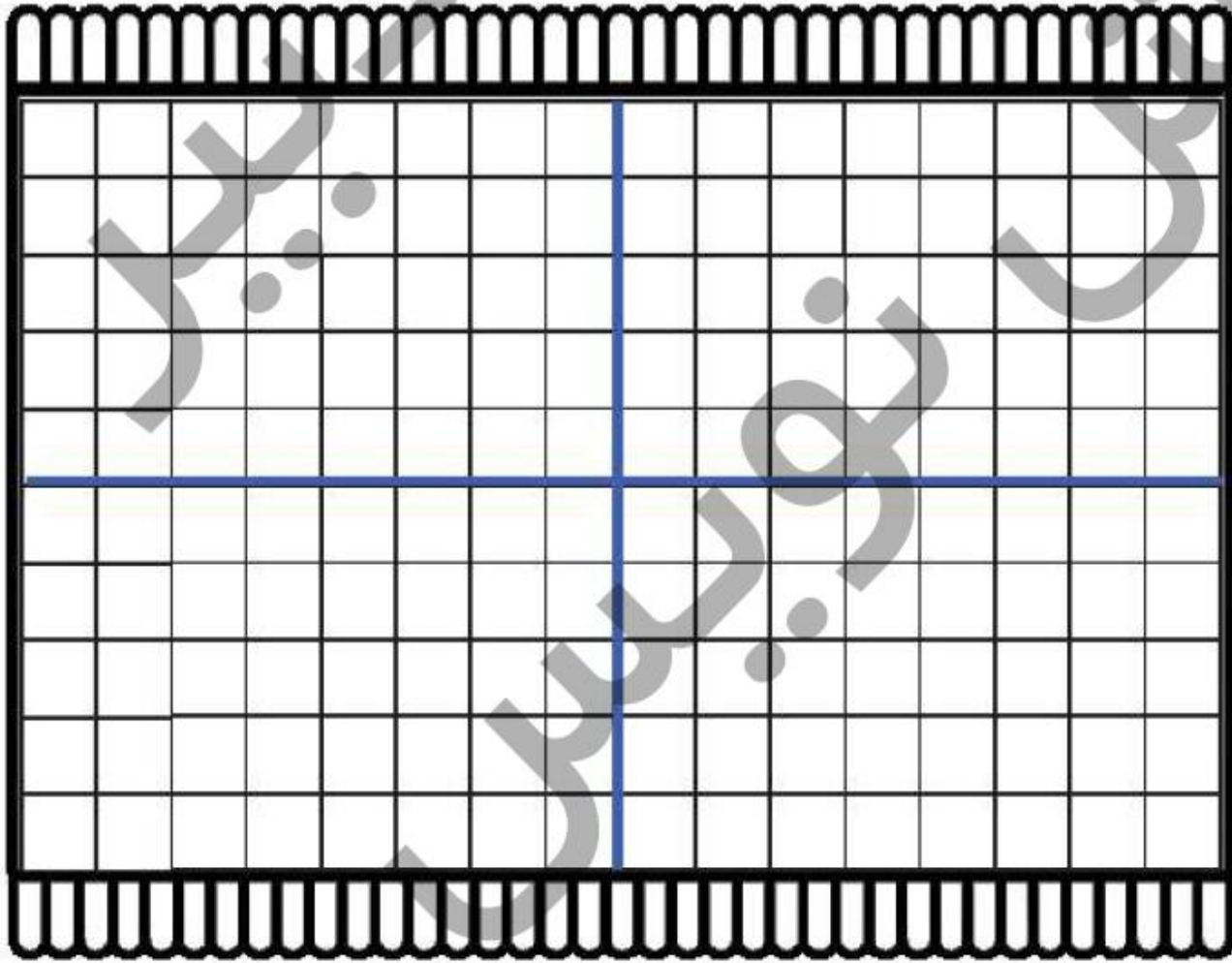
دارد؟



اطلاعات مسئله کافی نیست.

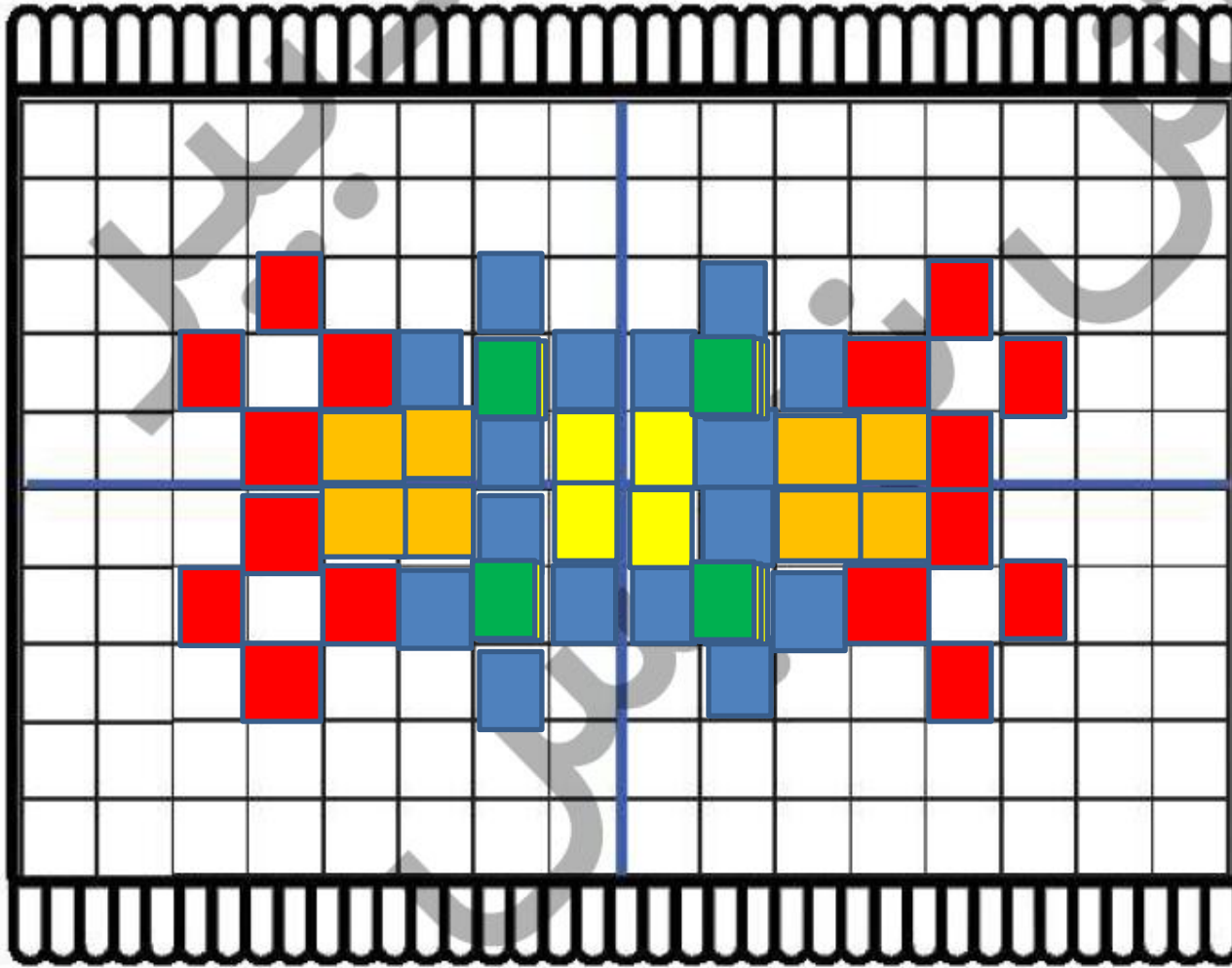
با شابلون، خط کش و مداد رنگی یک فرش زیبا طراحی کن.

۸



با شابلون، خط کش و مداد رنگی یک فرش زیبا طراحی کن.

۸





خسته نباشید