

عددهای مثل هم را با خط کش و با رنگ مناسب به هم وصل کن تا شکل سمت چپ به دست آید.



۱

۲

۳

۴

۱

۲

۳

۴

۴

۳

۲

۱



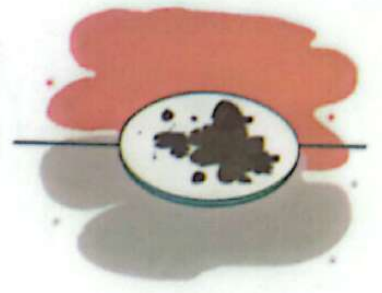
۴

۳

۲


۱

درباره‌ی شکل‌های زیر، یک داستان بگو.




نیمه‌ی دیگر این شکل‌ها را بکش.




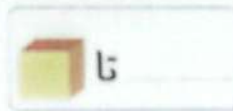




چوب خطهای سمت چپ را به تعداد مساوی آنها در سمت راست با خط کش وصل کن.


۱۰



طول هر شکل چند تا چینه است؟



۴ از چینه‌ها به تعداد شکل‌های سمت چپ، زرد و به تعداد شکل‌های سمت راست، سبز کن.



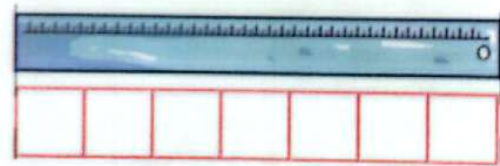

    
    
    
    

حالا عدد ۷ را بنویس و در خط دوم یک بار از صفر تا ۷ بنویس.

۷ ۷

۵ با چوب‌خط و عدد نشان بده اندازه‌ی هر شکل چند چینه است؟



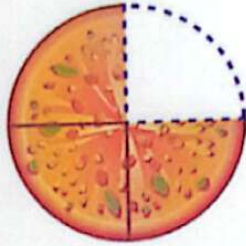
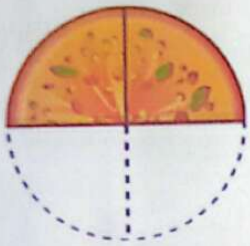
چوب‌خط

عدد



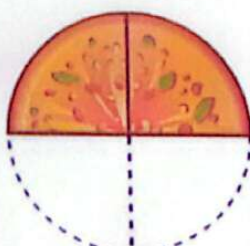
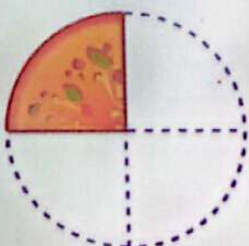
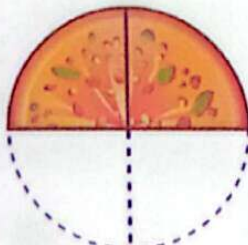
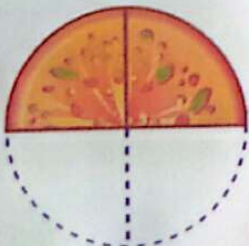
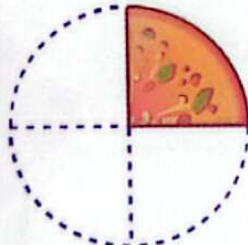
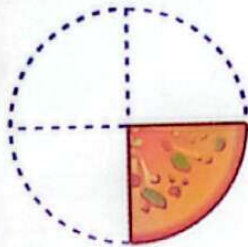
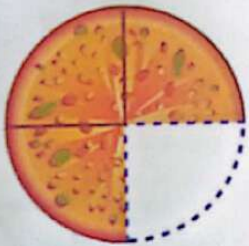


این بچه‌ها مشغول خوردن پیتزا هستند. از پیتزاهای این دو نفر روی هم چند تکه برداشته شده و چند تکه پیتزا باقی مانده است؟ با چوب‌خط نشان بده.


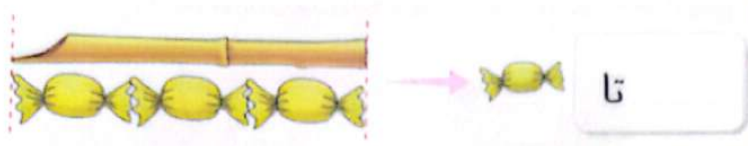


برداشته شده است

مانده است



طول هر شکل چند تا شکل کوچک است؟ کنار آن بنویس.



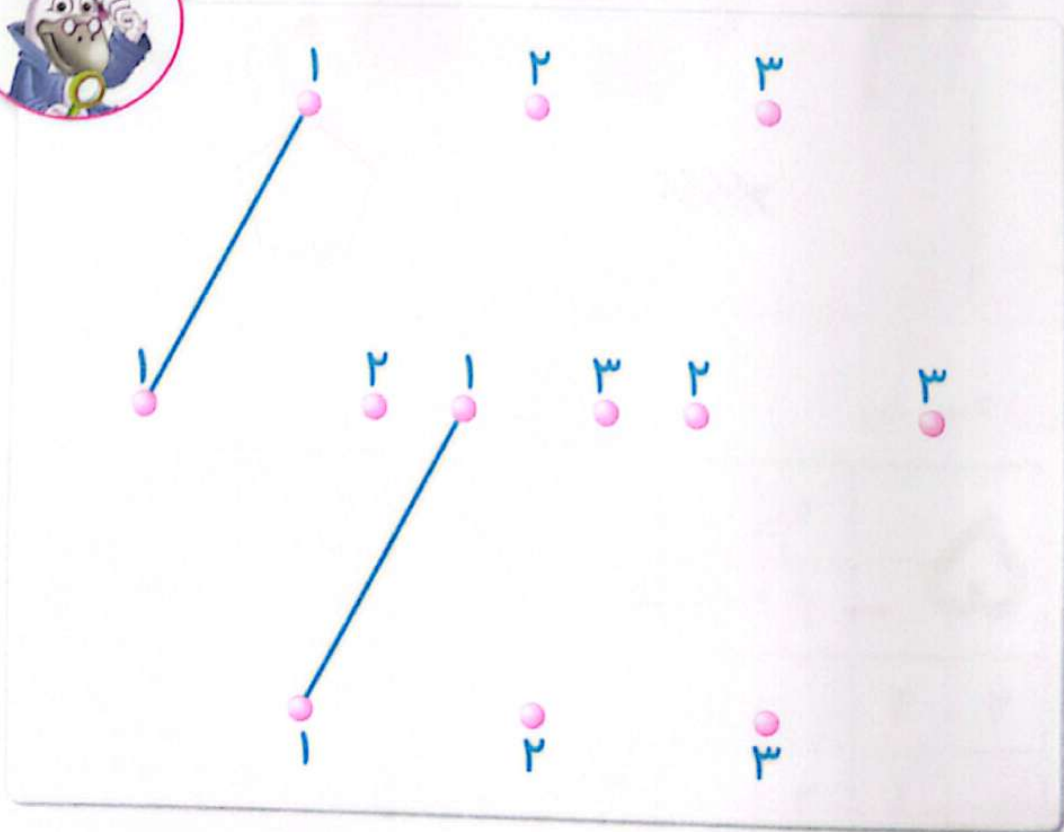
جدولها را کامل کن.

۳		۴	۲
۲	۴	۱	۳
	۲	۳	۴
۴	۳	۲	

۳	۴	۱	۲
۲	۳	۴	۱
۴	۱	۲	۳

۴	۳	۲	
۲	۱		۳
	۴	۱	۲
	۲	۳	

خطکش خود را بردار و مانند نمونه، عددهای مثل هم را به هم وصل کن.



۸ یکی بعد و یکی قبل از عدد شکل‌های هر دسته را بنویس.



۳ به اندازه‌ی چوب‌خط‌ها از شکل‌ها خط بزن. به تعداد باقی مانده از چینه‌ها رنگ بزن.

