

ق  
ا  
ن



فصل ۲

جمع و تفریق  
اعداد دو رقمی



آیا می‌دانید؟ در یک تیم فوتبال ۱۱ نفر در زمین مسابقه بازی می‌کنند و هر تیم می‌تواند ۷ نفر یار ذخیره داشته باشد. به این ترتیب برای هر مسابقه یک تیم می‌تواند چند نفر را معزفی کند؟

به نام خداوند بخشنده و مهربان

دبستان و پیش دبستان علوی

ریاضی صفحه ی ۲۷

آموزگار: خانم اسدزاده



برای رنگ کردن مثلث از رنگ‌های آبی یا قرمز و برای رنگ کردن مربع از رنگ‌های قهوه‌ای، سبز و زرد استفاده کنید. به چند روش می‌توانید شکل رو به رو را رنگ کنید؟

رنگ کردن شکل‌ها را به صورت منظم ادامه دهید.

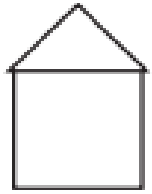


روش اول




روش دوم

نظم روش اول و دوم چه تفاوتی با هم دارد؟

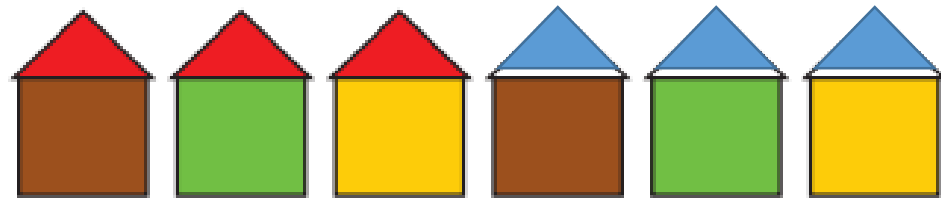


برای رنگ کردن مثلث از رنگ‌های آبی یا قرمز و برای رنگ کردن مربع از رنگ‌های قهوه‌ای، سبز و زرد استفاده کنید. به چند روش می‌توانید شکل رو به رو را رنگ کنید؟

رنگ کردن شکل‌ها را به صورت منظم ادامه دهید.



روش اول



روش دوم

نظم روش اول و دوم چه تفاوتی با هم دارد؟

در روش اول، رنگ مربع‌ها را ثابت نگه می‌داریم و رنگ مثلث به ترتیب تغییر می‌کند (قرمز-آبی-قرمز-آبی-قرمز-آبی).. اما در روش دوم رنگ مثلث‌ها را ثابت داریم و رنگ مربع به ترتیب تغییر می‌کند. (قهوه‌ای - سبز - زرد-..)

عددهای ساعت روبه‌رو را بنویسید و بگویید چه ساعتی را نشان می‌دهد؟



در شکل روبه‌رو عقربه‌ی بزرگ ساعت حرکت کرده است. روی این قسمت ساعت ذره‌بین گذاشته‌ایم تا معلوم شود این عقربه چقدر جلو رفته است.



هر قسمت کوچک یک دقیقه است. این عقربه چند دقیقه جلو رفته است؟



عددهای ساعت روبه‌رو را بنویسید و بگویید چه ساعتی را نشان می‌دهد؟

در ساعت مقابل عقربه‌ی کوچک ساعت روی عدد ۹ است.



در شکل روبه‌رو عقربه‌ی بزرگ ساعت حرکت کرده است. روی این قسمت ساعت ذره‌بین گذاشته‌ایم تا معلوم شود این عقربه چقدر جلو رفته است.



هر قسمت کوچک یک دقیقه است.

این عقربه چند دقیقه جلو رفته است؟

۷ دقیقه

