

نام:

نام خانوادگی:


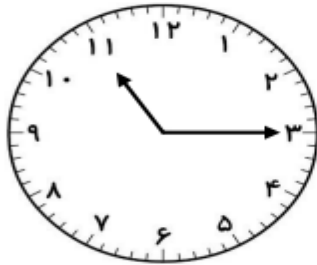
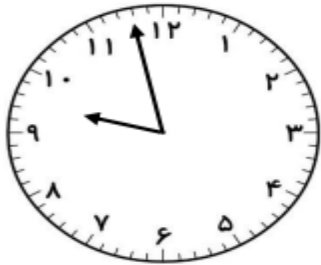
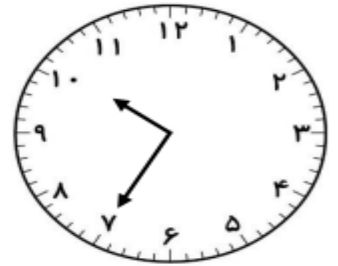

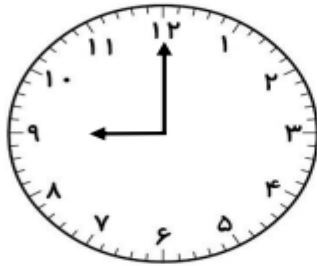
به نام خدای مهربان

علوی

مدارس هزاره سوم



* زمان هر ساعت را بنویس .

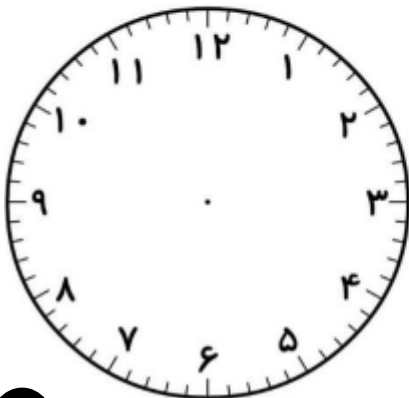


* عقربه های داده شده را بکشید.



دو و چهل دقیقه

هفت و سی و پنج دقیقه




۱۵ : ۲۵

۰۵ : ۲۸



*عددهایی که یکی های آن ها ۵ است روی محور نشان دهید.



*عددهای ۱۸، ۲۶، ۵۳، ۸۹، ۲۳ را روی محور نشان دهید.



*حاصل جمع و تفریق های زیر را به دست آورید.

$$۴۰+۳۰+۱۵+۳=$$

$$۷۰+۶۰+۳+۱۰+۵=$$

*حاصل جمع و تفریق های زیر را بر روی محور دست آورید.

$$۱۸+۵-۱۰=$$

$$۱۵-۶+۴=$$

*عدد دورقمی بنویسید که یکان آن ۵۳ و دهگان آن ۸۶ باشد.