




به نام خدا



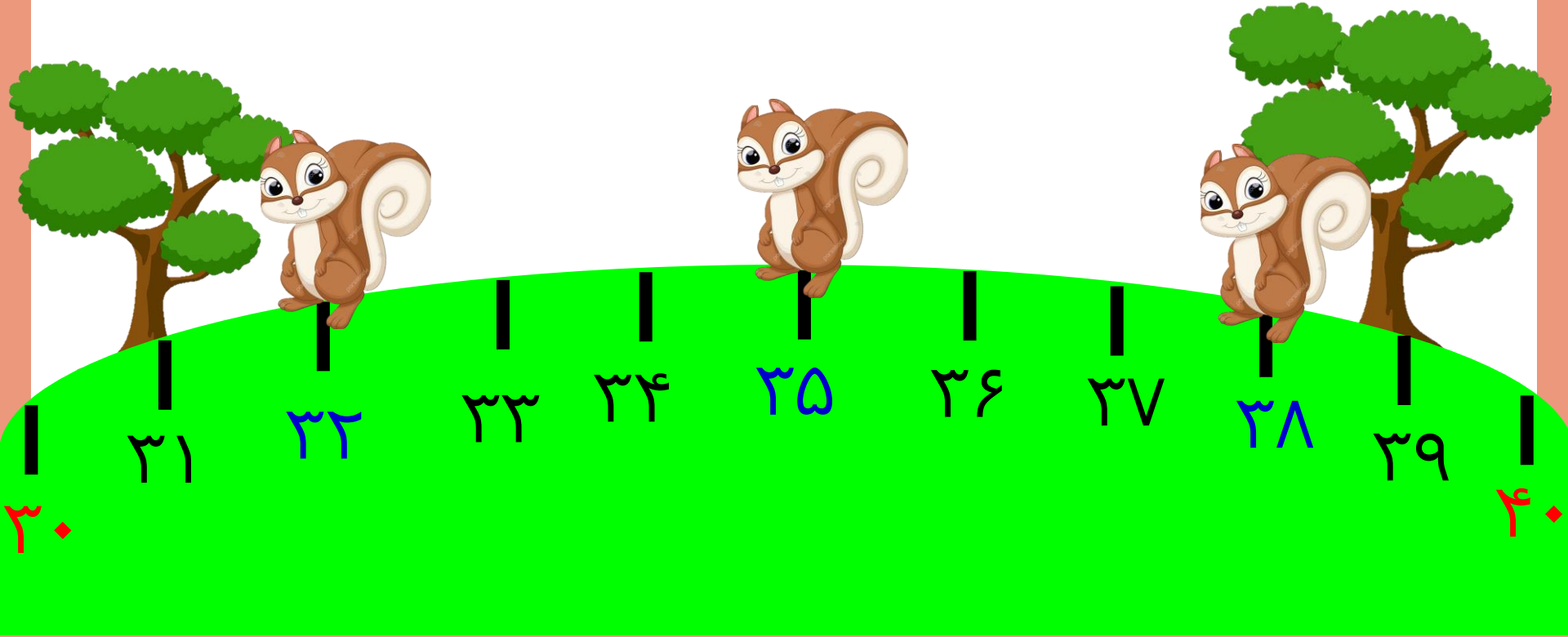
ریاضی دوم دبستان




آموزگار : طیبه ریاضی







تقريب بزن










$$\begin{array}{r} ۳۲ \longrightarrow \\ + ۱۵ \longrightarrow \\ \hline \end{array}$$



تقریب بزن









٦٨ →

-٣٥ →



تقریب بزن



تقریب بزن

۱- ۴۷ به چه عددی نزدیک تر است؟ ۴۰ یا ۵۰؟

۲- ۲۱ به چه عددی نزدیک تر است؟ ۲۰ یا ۳۰؟

۳- مانند نمونه جواب جمع و تفریق‌های زیر را به صورت تقریبی به دست آورید.

$$\begin{array}{r} 47 \rightarrow 50 \\ + 21 \rightarrow + 20 \\ \hline \end{array}$$

$$\begin{array}{r} 71 \rightarrow \dots \\ + 24 \rightarrow + \dots \\ \hline \end{array}$$

$$\begin{array}{r} 39 \rightarrow \dots \\ + 25 \rightarrow + \dots \\ \hline \end{array}$$

$$\begin{array}{r} 81 \rightarrow 80 \\ - 28 \rightarrow - 30 \\ \hline \end{array}$$

$$\begin{array}{r} 89 \rightarrow \dots \\ - 51 \rightarrow - \dots \\ \hline \end{array}$$

$$\begin{array}{r} 52 \rightarrow \dots \\ - 25 \rightarrow - \dots \\ \hline \end{array}$$

تقریب بزن

۱- ۴۷ به چه عددی نزدیک تر است؟ ۴۰ یا ۵۰؟

۲- ۲۱ به چه عددی نزدیک تر است؟ ۲۰ یا ۳۰؟

۳- مانند نمونه جواب جمع و تفریق‌های زیر را به صورت تقریبی به دست آورید.

$$\begin{array}{r} 47 \rightarrow 50 \\ + 21 \rightarrow + 20 \\ \hline 70 \end{array}$$

$$\begin{array}{r} 71 \rightarrow 70 \\ + 24 \rightarrow + 20 \\ \hline 90 \end{array}$$

$$\begin{array}{r} 39 \rightarrow 40 \\ + 25 \rightarrow + 30 \\ \hline 70 \end{array}$$

$$\begin{array}{r} 81 \rightarrow 80 \\ - 28 \rightarrow - 30 \\ \hline 50 \end{array}$$

$$\begin{array}{r} 89 \rightarrow 90 \\ - 51 \rightarrow - 50 \\ \hline 40 \end{array}$$

$$\begin{array}{r} 52 \rightarrow 50 \\ - 25 \rightarrow - 30 \\ \hline 40 \end{array}$$

۱- حاصل جمع و تفریقها را به دست آورید.

$$\begin{array}{r} ۲۳ \\ + ۵۷ \\ \hline \end{array}$$

$$\begin{array}{r} ۶۰ \\ - ۱۴ \\ \hline \end{array}$$

$$\begin{array}{r} ۵۴ \\ - ۲۱ \\ \hline \end{array}$$

$$\begin{array}{r} ۵۹ \\ + ۲۷ \\ \hline \end{array}$$



۱- حاصل جمع و تفریقها را به دست آورید.

$$\begin{array}{r} ۲۳ \\ + ۵۷ \\ \hline ۷۳ \\ + ۷ \\ \hline ۸۰ \end{array}$$

$$\begin{array}{r} ۶۰ \\ - ۱۴ \\ \hline ۵۰ \\ - ۴ \\ \hline ۴۶ \end{array}$$

$$\begin{array}{r} ۵۴ \\ - ۲۱ \\ \hline ۳۴ \\ - ۱ \\ \hline ۳۳ \end{array}$$

$$\begin{array}{r} ۵۹ \\ + ۲۷ \\ \hline ۷۹ \\ + ۷ \\ \hline ۸۶ \end{array}$$



۲- مهدی ۲۶ دقیقه به نوار قرآن گوش داد و سپس ۱۷ دقیقه روان خوانی آن آیات را تمرین کرد. مهدی چند دقیقه برای یادگیری قرآن وقت گذاشته است؟



۳- تکالیف ریاضی و علوم مهدیه ۵۵ دقیقه طول کشید. اگر تکالیف علوم او ۲۹ دقیقه زمان برده باشد، مهدیه در چند دقیقه تکالیف ریاضی نوشته است؟



۲- مهدی ۲۶ دقیقه به نوار قرآن گوش داد و سپس ۱۷ دقیقه روان خوانی آن آیات را تمرین کرد. مهدی چند دقیقه برای یادگیری قرآن وقت گذاشته است؟



$$\begin{array}{r} 26 \\ + 17 \\ \hline 36 \\ + 7 \\ \hline 43 \end{array}$$

مهدی ۴۳ دقیقه برای خواندن قرآن وقت گذاشته است.

۳- تکالیف ریاضی و علوم مهدیه ۵۵ دقیقه طول کشید. اگر تکالیف علوم او ۲۹ دقیقه زمان برده باشد، مهدیه در چند دقیقه تکالیف ریاضی نوشته است؟

$$\begin{array}{r} 55 \\ - 29 \\ \hline 26 \\ - 9 \\ \hline 26 \end{array}$$

مهدیه در ۲۶ دقیقه تکالیف ریاضی نوشته است.

