



موضوع: ریاضی ( فصل دوم )

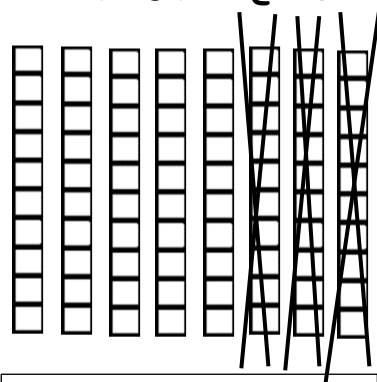
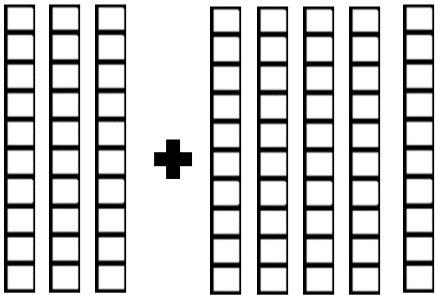
پایه دوم

نام و نام خانوادگی:

هدف: تکرار و تمرین

آموزگار: خانم کاشانی

۱- با توجه به شکل ، حاصل جمع و تفریق را به دست آورید.



$$\dots + \dots = \dots$$

$$\dots - \dots = \dots$$

۲- جاهای خالی را کامل کنید.

\* ۱ بسته ده تایی به اضافه ۷ بسته ده تایی می شود ..... بسته ده تایی. یعنی  $10 + 70 = \dots$

\* ۶ بسته ده تایی منهای ۳ بسته ده تایی می شود ..... بسته ده تایی. یعنی  $60 - 30 = \dots$

۳- همهی عددهای دو رقمی را بنویسید که رقمهای دهگان آنها ۸ و ۹ و رقمهای یکان آنها ۰ و ۱ باشد.

.....

.....

۴- همهی عددهای دو رقمی را بنویسید که رقمهای دهگان آنها ۶ و ۷ و رقمهای یکان آنها ۵ و ۰ باشد.

.....

.....

۵- جمع و تفریق‌های زیر را به روش فرآیندی حل کنید.

$$\begin{array}{r} 19 \\ + \\ 40 \\ \hline \end{array}$$

$$\begin{array}{r} 49 \\ - \\ 22 \\ \hline \end{array}$$

$$\begin{array}{r} 89 \\ - \\ 56 \\ \hline \end{array}$$

$$\begin{array}{r} 47 \\ - \\ 15 \\ \hline \end{array}$$

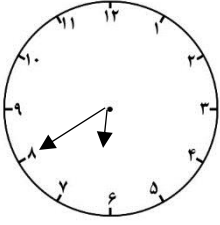
$$\begin{array}{r} 19 \\ + \\ 75 \\ \hline \end{array}$$

$$\begin{array}{r} 83 \\ - \\ 48 \\ \hline \end{array}$$

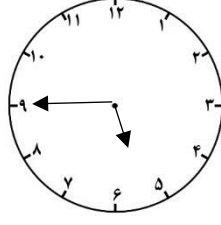
$$\begin{array}{r} 64 \\ - \\ 26 \\ \hline \end{array}$$

$$\begin{array}{r} 70 \\ - \\ 54 \\ \hline \end{array}$$

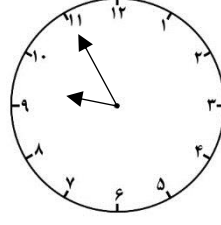
۶- ساعت چند است؟



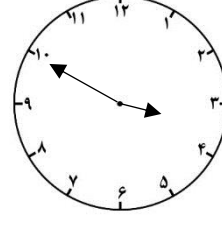
.....



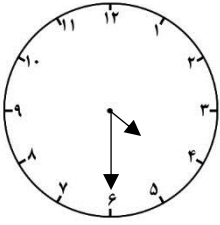
.....



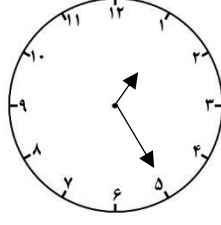
.....



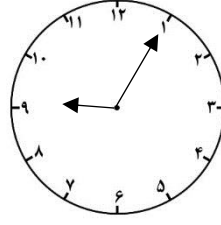
.....



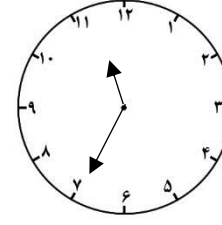
.....



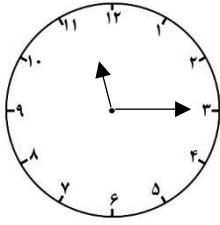
.....



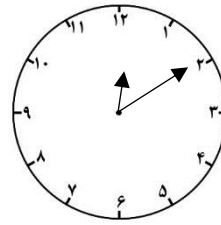
.....



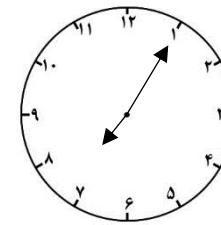
.....



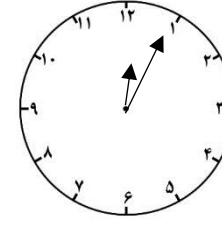
.....



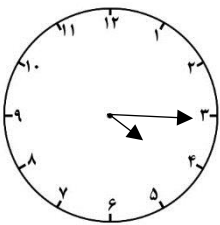
.....



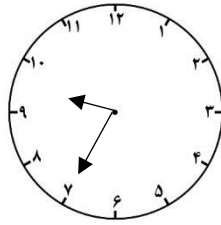
.....



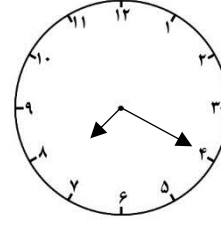
.....



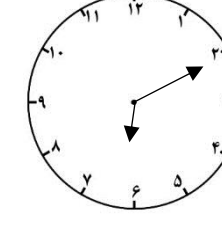
.....



.....

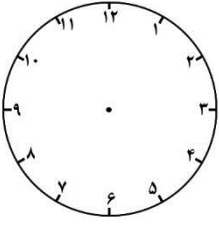
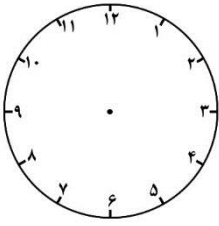
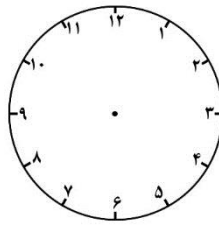
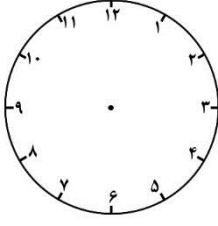
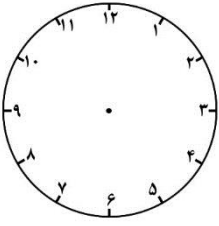
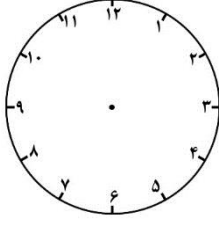
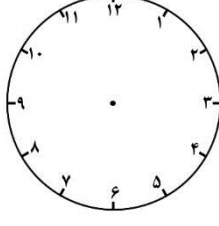
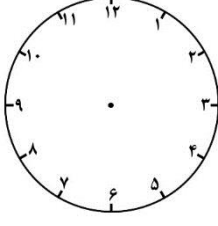


.....



.....

۱۱- زمان خواسته شده را نشان دهید.

			
۹:۱۵	۶:۵۰	۱۰:۳۰	۲:۴۰
			
۸:۵۵	۷:۴۵	۴:۲۵	۱:۳۵

۱۳- تقریب بزنید.

۶۶ =	۸۵ =	۷۳ =	۵۴ =	۱۶ =	۴۳ =
۲۱ =	۸۲ =	۱۳ =	۳۴ =	۴۵ =	۹۶ =
۱۷ =	۶۸ =	۳۹ =	۸۱ =	۴۲ =	۲۳ =

۱۴- جواب جمع و تفریق‌های زیر را به صورت تقریبی به دست آورید.

$\begin{array}{r} 58 \longrightarrow \dots\dots \\ + 25 \longrightarrow + \dots\dots \\ \hline \end{array}$	$\begin{array}{r} 19 \longrightarrow \dots\dots \\ + 43 \longrightarrow + \dots\dots \\ \hline \end{array}$
---	---

$$\begin{array}{r} 83 \longrightarrow \dots\dots\dots \\ - 37 \longrightarrow \dots\dots\dots \\ \hline \end{array}$$

$$\begin{array}{r} 91 \longrightarrow \dots\dots\dots \\ - 24 \longrightarrow \dots\dots\dots \\ \hline \end{array}$$

۱۵- سارا در کتابخانه‌ی خود ۳۵ کتاب داستان و ۲۳ کتاب علمی دارد. سارا روی هم چند کتاب دارد؟ ( به روش فرآیندی حل کنید. )

۱۶- مریم از گل فروشی ۴۹ شاخه گل رز و گل لاله خریده است. ۲۶ تا از آنها گل رز است. مریم چند شاخه گل لاله خریده است؟ ( به روش فرآیندی حل کنید. )

۱۷- علی در مرحله‌ی اول یک مسابقه ۵۲ امتیاز گرفت و در مرحله‌ی دوم هم ۱۹ امتیاز دیگر گرفت. حالا علی چند امتیاز دارد؟ ( به روش فرآیندی حل کنید. )

۱۸- امیر یک کتاب ۸۰ صفحه‌ای دارد. او ۶۳ صفحه از کتابش را خوانده است. امیر چند صفحه از کتاب خود را نخوانده است؟ ( به روش فرآیندی حل کنید. )

۱۹- الگو را ادامه دهید.

۵، ۱۰، ۱۵، .....، .....، .....، .....، .....، .....، .....، .....، .....، .....، .....

.....، .....، .....، .....، .....، .....، .....

