

نام و نام خانوادگی:

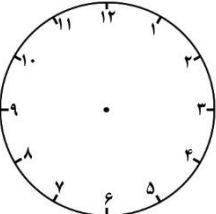
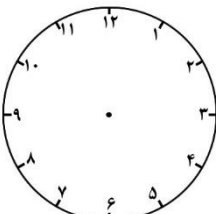
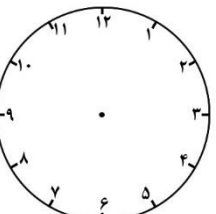
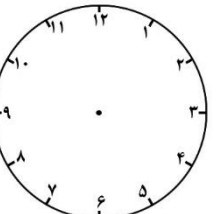
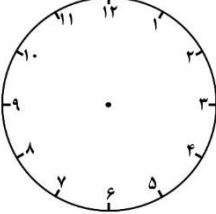
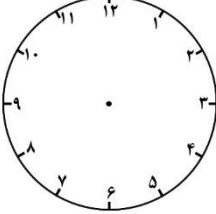
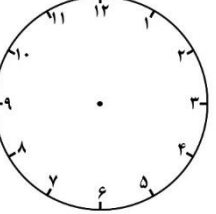
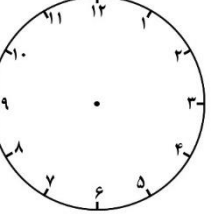
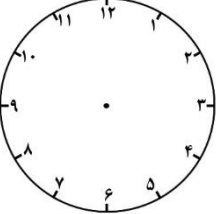
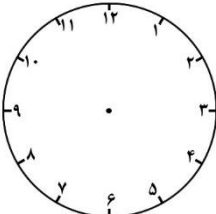
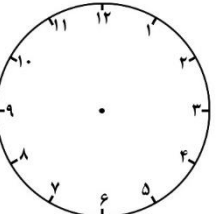
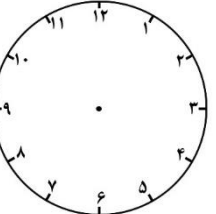
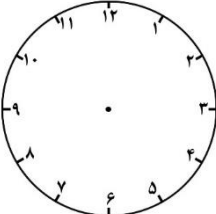
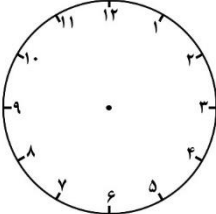
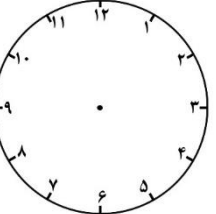
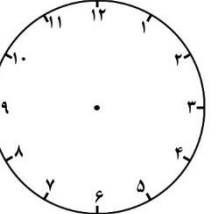
موضوع:

پایه:

تاریخ:

هدف:



 <p>یک ربع از ساعت ۴ گذشته ساعت است.</p>	 <p>یک ربع به ساعت ۶ مانده ساعت است.</p>	 <p>ده دقیقه از ساعت ۲ گذشته ساعت است.</p>	 <p>۳ دقیقه گذشته از ۸ ساعت است.</p>
 <p>۲۵ دقیقه از ساعت ۵ گذشته ساعت است.</p>	 <p>یک ربع به ساعت ۹ مانده ساعت است.</p>	 <p>نیم ساعت از ۱ گذشته ساعت است.</p>	 <p>۲۰ دقیقه به ۳ مانده ساعت است.</p>
 <p>۱۰ دقیقه از ساعت ۷ گذشته ساعت است.</p>	 <p>۱۰ دقیقه به ساعت ۱۱ مانده ساعت است.</p>	 <p>۲۰ دقیقه از ساعت ۶ گذشته ساعت است.</p>	 <p>۲۱ دقیقه به ساعت ۱۲ مانده ساعت است.</p>
 <p>۵ دقیقه از ساعت ۱۰ گذشته ساعت است.</p>	 <p>۵ دقیقه به ساعت ۸ مانده ساعت است.</p>	 <p>۱۵ دقیقه از ساعت ۲ گذشته ساعت است.</p>	 <p>۲۰ دقیقه به ساعت ۴ مانده ساعت است.</p>



