



۱- به حروف بنویسید.

سیصد و چهل و نه ۳۴۹ پانصد و هشت ۵۰۸

چهارصد و بیست ۴۲۰ سیصد ۳۰۰

۲- به رقم بنویسید.

۴۰۹ چهارصد و نه

۲۵۰ دویست و پنجاه

۸۷۵ هشتصد و هفتاد و پنج


۶۰۰ ششصد

۳- سگهی زیر را با چند تا سگهی ۱۰۰ ریالی و چند تا سگهی ۱۰ ریالی می توان عوض کرد؟

۲ سگهی ۱۰۰ ریالی و ۵ سگهی ۱۰ ریالی



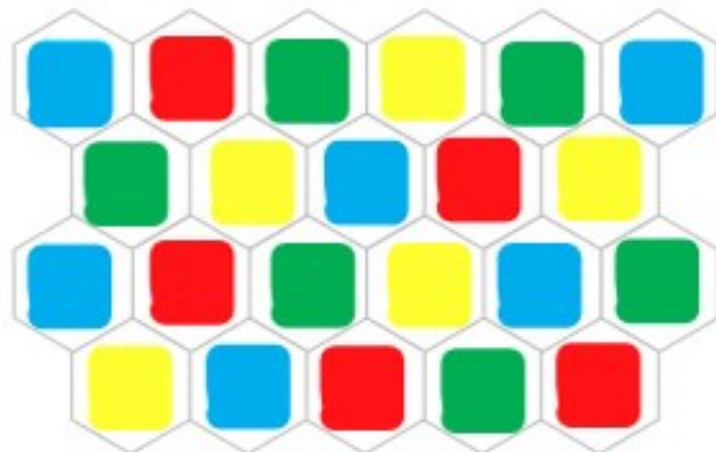
۴- پدر علی سگه های زیر را به او داده است. علی چند ریال دارد؟ ۵۶۴ ریال



۵- دبستان شما حدوداً چند دانش آموز دارد؟

به عدد: ۲۳۰ به حروف: دویست و سی

خلاق باش



یک دیوار با کاشی هایی به شکل روبه رو کاشی کاری شده است. شما ۴ رنگ انتخاب کنید. فقط با استفاده از این ۴ رنگ تمام کاشی ها را رنگ کنید. طوری که هیچ دو کاشی کنار یک دیگر، هم رنگ نباشند.



کار در کلاس



۱. جاهای خالی را با کلمات و اعداد مناسب پر کن.

(الف) یک بسته ۱۰۰ تایی = ۱۰ ده تایی = ۱۰۰ یکی (پ) ۳۰ سکه‌ی ۱ ریالی = ۳ سکه ۱۰ ریالی

(ب) ۵۰ سکه‌ی ۱ ریالی = ۵ سکه‌ی ۱۰ ریالی (ت) ۱۰۰ سکه‌ی ۱ ریالی = ۲ سکه‌ی ۵۰ ریالی
۲. پاسخ صحیح را به گزینه‌های سمت راست وصل کن.

۲۰ دقیقه بعد از ساعت ۳:۱۰ دقیقه	☺	☺	۱۰ بسته‌ی ده تایی
۳۰ + ۷۰	☺	☺	۳:۳۰ دقیقه
۳۰ دقیقه بعد از ساعت ۷	☺	☺	۷:۳۰ دقیقه
۱۰ سکه‌ی ۱۰ ریالی	☺	☺	۱۰۰ ریال

۳. به اندازه‌ی زمان خواسته شده، عقربه‌های ساعت را تغییر بده و در ساعت (۲) عقربه بکش. سپس زمان را زیر آن بنویس.



۱۰ دقیقه بعد





۱۲ : ۳۰

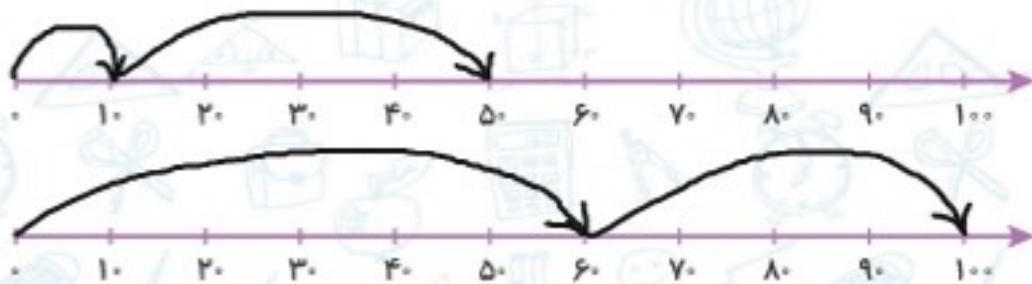
(۱)

۱۲ : ۴۰

(۲)

۴. در هر قسمت با استفاده از محور در جای خالی عدد مناسب بنویس.

$۱۰ + \boxed{۴۰} = ۵۰$



$۶۰ + \boxed{۴۰} = ۱۰۰$



نادرست



درست



۱. درست یا نادرست بودن جمله‌ها را مشخص کن.

الف) در شمارش اعداد به ترتیب عدد قبل از ۹۸، ۹۹ و عدد بعد از آن ۱۰۰ می‌باشد.

ب) در شمارش ۱۰ تا ۱۰۰، عدد بعد از ۹۰، ۱۰۰ است.

پ) حاصل جمع $۷۰ + ۱۰$ با حاصل تفریق $۹۰ - ۲۰$ برابر است.

۲. زمان را تغییر بده و برای ساعت (۲) عقربه بکش، سپس زمان آن را بنویس.



۱ : ۵۰

۱ : ۵۵



۸ : ۲۰

۹ : ۰۰

۳. یک ربع طول می‌کشد که درنا نصف راه خانه تا مدرسه را برود. چقدر طول می‌کشد که او از مدرسه به خانه برسد؟

..... نیم ساعت طول می‌کشد. دقیقه $۱۵ + ۱۵ = ۳۰$

۴. من کدام عدد هستم؟ یکانم کوچک‌ترین عدد یک رقمی، دهگانم ۵ تا بیشتر از یکانم و صدگانم ۲ تا بیشتر از دهگانم است.

ص	د	ی
۷	۵	۰

۷۵۰





۵. قیمت هر اسباب‌بازی در کنار آن نوشته شده است. هر کدام را با کدام سکه‌ها می‌توان خرید؟

(پ)

(پ)

(ب)

(ب)

(الف)

(الف)

۳۲۲ ریال

۴۰۳ ریال

۳۲۵ ریال



۶. از انتهای کتاب کار علوی دسته‌های ۱۰ تایی را باقیچی جدا کن و یک دسته‌ی صدتایی درست کن.

برای ساختن آن چند دسته‌ی ۱۰ تایی را کنار هم قرار دادی؟ ۱۰ تا

