

۱. حاصل جمع و تفریق‌ها را از راه گسترده‌نویسی به دست بیاور و بنویس.

$$\begin{array}{r} 272 \\ + 525 \\ \hline 797 \\ + 25 \\ \hline 792 \\ + 5 \\ \hline 797 \end{array}$$

$$\begin{array}{r} 704 \\ + 140 \\ \hline 844 \\ + 40 \\ \hline 844 \end{array}$$

$$\begin{array}{r} 660 \\ - 320 \\ \hline 340 \\ - 20 \\ \hline 340 \end{array}$$

$$\begin{array}{r} 835 \\ - 512 \\ \hline 323 \\ - 12 \\ \hline 323 \end{array}$$

۲. با حل جمع و تفریق‌ها، در عدد مناسب بنویس.

$$\begin{array}{r} 457 \\ + 132 \\ \hline \boxed{5} \quad 57 \\ + \quad \quad 22 \\ \hline \boxed{5} \quad \boxed{8} \quad 7 \\ + \quad \quad \quad 2 \\ \hline \boxed{5} \quad \boxed{8} \quad \boxed{9} \end{array}$$

$$\begin{array}{r} 457 \\ - 132 \\ \hline \boxed{3} \quad 57 \\ - \quad \quad 22 \\ \hline \boxed{3} \quad \boxed{2} \quad 7 \\ - \quad \quad \quad 2 \\ \hline \boxed{3} \quad \boxed{2} \quad \boxed{5} \end{array}$$

۳. پاسخ جمع و تفریق‌ها را به صورت ذهنی بنویس.

$$400 + 230 = \boxed{630}$$

$$770 - 520 = \boxed{250}$$

۴. برنا ۹ ساله است. خواهرش ۸ سال از او بزرگ‌تر است. مجموع سن این دو خواهر روی هم چند سال است؟

$$8 + 9 = 17$$

خواهر برنا ۱۷ سال دارد.

$$9 + 17 = 26$$

مجموع سن



۵. فاصله‌ی خانه‌ی درنا و برنا تا پارک ۳۳۰ متر و فاصله‌ی پارک تا مدرسه ۲۵۰ متر است. فاصله‌ی خانه‌ی درنا







$$\begin{array}{r} 330 \\ + 250 \\ \hline 580 \\ + 50 \\ \hline 580 \end{array}$$



و برنا تا مدرسه چقدر است؟



۵۸۰ متر از خانه تا مدرسه فاصله است.



نادرست  درست 

۱. پاسخ صحیح را مشخص کن.

(الف) حاصل جمع $450 + 110$ برابر با 460 است.

(ب) دو سگه‌ی 250 ریالی برابر با 5 سگه‌ی 100 ریالی است.

(پ) حاصل تفریق $837 - 200$ عدد 637 می‌شود.

۲. الگوها را ادامه بده.

— $8:00$ — $7:50$ — $7:40$ — $7:30$ — $7:20$ — $7:10$ (الف)

— $9:45$ — $9:40$ — $9:35$ — $9:30$ — $9:25$ — $9:20$ (ب)

۳. حاصل جمع و تفریق‌ها را از راه گسترده‌نویسی به دست بیاور و بنویس.

$$\begin{array}{r} 156 \\ + 302 \\ \hline 456 \\ + 02 \\ \hline 456 \\ + 2 \\ \hline 458 \end{array}$$

$$\begin{array}{r} 444 \\ + 222 \\ \hline 666 \\ + 22 \\ \hline 664 \\ + 2 \\ \hline 666 \end{array}$$

$$\begin{array}{r} 397 \\ - 155 \\ \hline 242 \\ - 55 \\ \hline 187 \\ - 5 \\ \hline 182 \end{array}$$

$$\begin{array}{r} 488 \\ - 232 \\ \hline 256 \\ - 32 \\ \hline 224 \\ - 2 \\ \hline 222 \end{array}$$

۴. پدر برنا به او ۷۵۰ تومان پول داد. او یک مداد به قیمت ۴۳۰ تومان و یک پاک‌کن به قیمت ۲۵۰ تومان

خرید. چند ریال برای برنا باقی مانده است؟

$$\begin{array}{r} 430 \\ + 250 \\ \hline 680 \\ + 50 \\ \hline 730 \end{array}$$

برنا ۶۸۰ پول دارد

$$\begin{array}{r} 750 \\ - 680 \\ \hline 70 \\ - 80 \\ \hline -10 \end{array}$$

۷۰ ریال پول باقی ماند.

