

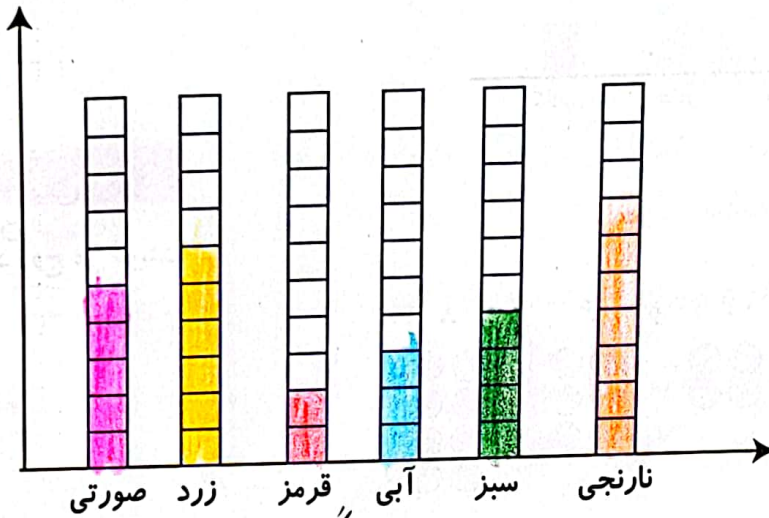


کار در کلاس



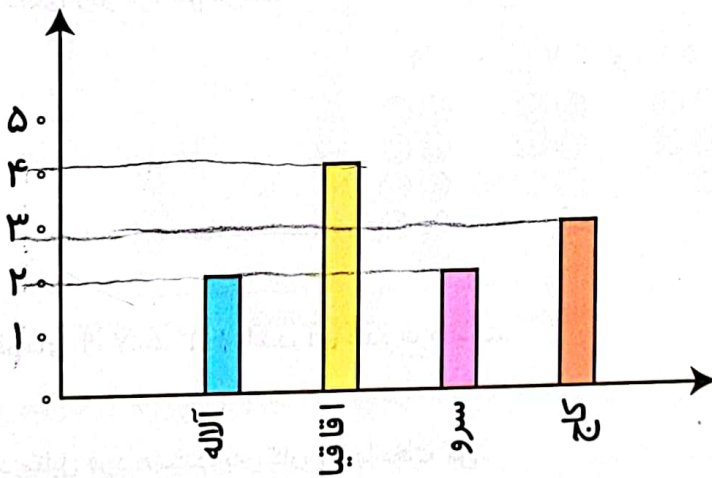
۱. در جدول زیر تعداد دفعاتی را که درنا از یک رنگ در نقاشی‌هایش استفاده کرده نشان داده شده است. آن‌ها را در نمودار ستونی زیر نشان بده و سپس دو پرسش بساز و خودت پاسخ بده.

نام رنگ	سبز	آبی	قرمز	نارنجی	صورتی	زرد
تعداد دفعات استفاده شده	۴	۳	۲	۷	۵	۶



الف) رنگی که بیشتر از همه استفاده نشده، چه رنگی است؟ نارنجی  
 ب) رنگ سبز چند بار استفاده شده است؟ ۴ بار  
 ۲. به نمودار زیر توجه کن، سپس جاهای خالی را کامل کن.

۱۷۲



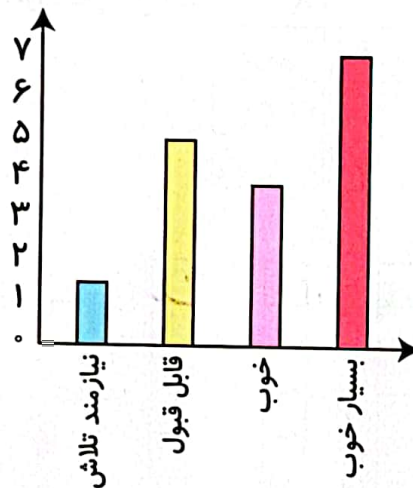
شهرداری یک شهرستان یک سرشماری بر روی تعداد خانه‌های چند کوچه در یک محله انجام داده است و پس از آن نمودار آن را رسم کرده است. از این نمودار می‌توان فهمید که تعداد خانه‌های کوچه ... اقاقیا ... از همه کوچه‌ها بیشتر است. تعداد خانه‌های کوچه ... سر ... و ... با هم برابر است. تعداد خانه‌های کوچه کاج از تعداد خانه‌های کوچه آلاله ... بیشتر ... است.

۳. اعداد زوج را رنگ کن.



تمرین

۱. با توجه به نمودار زیر پاسخ صحیح را علامت بزن.



نادرست		درست	
<input checked="" type="checkbox"/>	<input type="checkbox"/>	<input type="checkbox"/>	<input checked="" type="checkbox"/>
<input type="checkbox"/>	<input type="checkbox"/>	<input type="checkbox"/>	<input type="checkbox"/>
<input checked="" type="checkbox"/>	<input type="checkbox"/>	<input type="checkbox"/>	<input type="checkbox"/>

الف) تمام دانش‌آموزان کلاس نمرات بدی کسب کرده‌اند.

ب) بیشتر دانش‌آموزان نمره‌ی بسیار خوب کسب کرده‌اند.

پ) تعداد دانش‌آموزانی که بسیار خوب دریافت کرده‌اند کمتر از تعداد دانش‌آموزانی است که قابل قبول کسب کرده‌اند.

د) دانش‌آموزانی که قابل قبول کسب کرده‌اند.






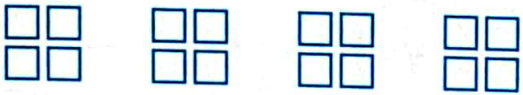
۲. با توجه به شکل‌ها، در جای خالی عدد مناسب بنویس.



الف) ..... دسته ۳ تایی می‌شود ..... تا ۹.



ب) ..... دسته ۵ تایی می‌شود ..... تا ۱۰.



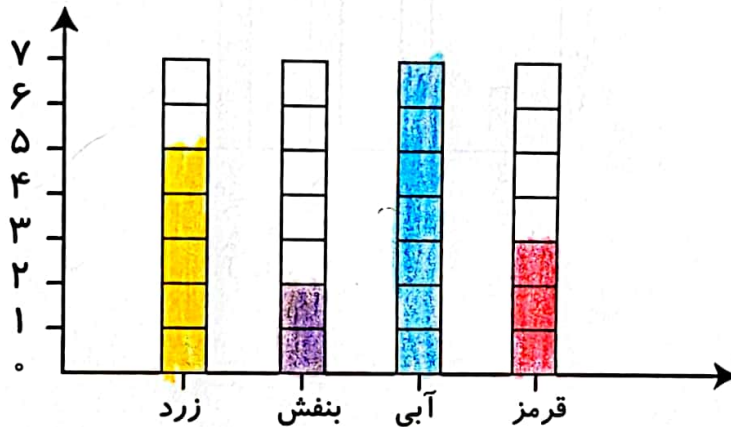
پ) ..... دسته ۴ تایی می‌شود ..... تا ۱۶.

۳. تمام عددهای ۱۷، ۸۱، ۶۷، ۵۵ ..... هستند، چون رقم یکان آن‌ها ..... است.

تمام عددهای ۸۰، ۹۲، ۳۴، ۴۶ ..... هستند، چون رقم یکان آن‌ها ..... است.

۴. رنگ‌های جدول روبه‌رو، رنگ‌های مورد علاقه دانش‌آموزان کلاس دوم هستند. نمودار ستونی مربوط به جدول را رنگ و کامل کن، سپس به سؤالات پاسخ بده.

رنگ	زرد	بنفش	آبی	قرمز
تعداد (نفر)	۵	۲	۷	۳
چوب‌خط				



$2 + 7 = 9$

الف) مجموع تعداد افرادی که رنگ مورد علاقه آنان بنفش و آبی است چند نفر هستند؟ ۹ نفر

ب) بیشترین افراد، چه رنگی را دوست دارند؟ آبی

پ) کمترین افراد، چه رنگی را دوست دارند؟ بنفش

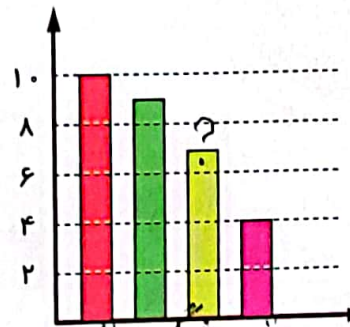
ت) تعداد کل دانش‌آموزان چند نفر است؟ ۱۷ نفر



۵. یک معلم از ۳۰ دانش آموز کلاس خود پرسید چه نوع بستنی را بیشتر دوست دارند. او پاسخ‌های دانش آموزان را در جدول زیر ثبت کرده است.

در نمودار میله‌ای زیر، میله‌ای که با؟ مشخص شده، نشان دهنده کدام نوع بستنی است؟

تعداد دانش آموزان	بستنی مورد علاقه
۴	موزی
۱۰	شکلاتی
۹	توت فرنگی
۷	زعفرانی



(۱) موزی

(۲) شکلاتی

(۳) توت فرنگی

(۴) زعفرانی

موزی - زعفرانی - توت فرنگی - شکلاتی

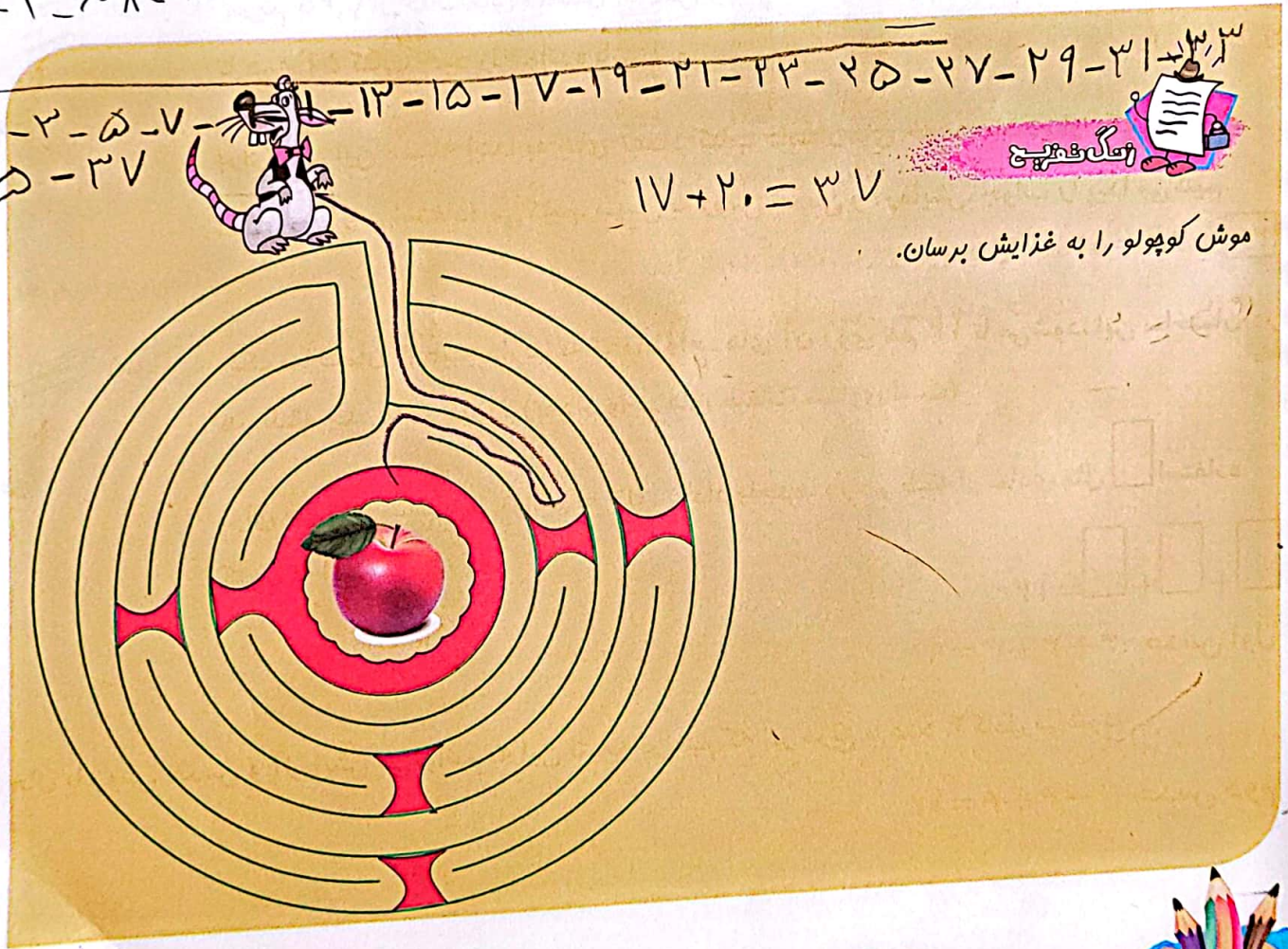
۶. در یک خیابان خانه‌های یک سمت با اعداد فرد متوالی، ۱ تا ۳۹ شماره گذاری شده‌اند و خانه‌های سمت دیگر با اعداد زوج متوالی ۲ تا ۳۴ شماره گذاری شده‌اند. چند خانه در این خیابان وجود دارد؟

۳۷ (۱)  
 ۳۸ (۲)  
 ۲۸ (۳)  
 ۷۳ (۵)  
 ۳۶ (۴)

زوج = ۲ - ۴ - ۶ - ۸ - ۱۰ - ۱۲ - ۱۴ - ۱۶ - ۱۸ - ۲۰ - ۲۲ - ۲۴ - ۲۶ - ۲۸ - ۳۰ - ۳۲ - ۳۴

فرد = ۱ - ۳ - ۵ - ۷ - ۹ - ۱۱ - ۱۳ - ۱۵ - ۱۷ - ۱۹ - ۲۱ - ۲۳ - ۲۵ - ۲۷ - ۲۹ - ۳۱ - ۳۳ - ۳۵ - ۳۷

$17 + 20 = 37$



موش کوپولو را به غذایش برسان.

