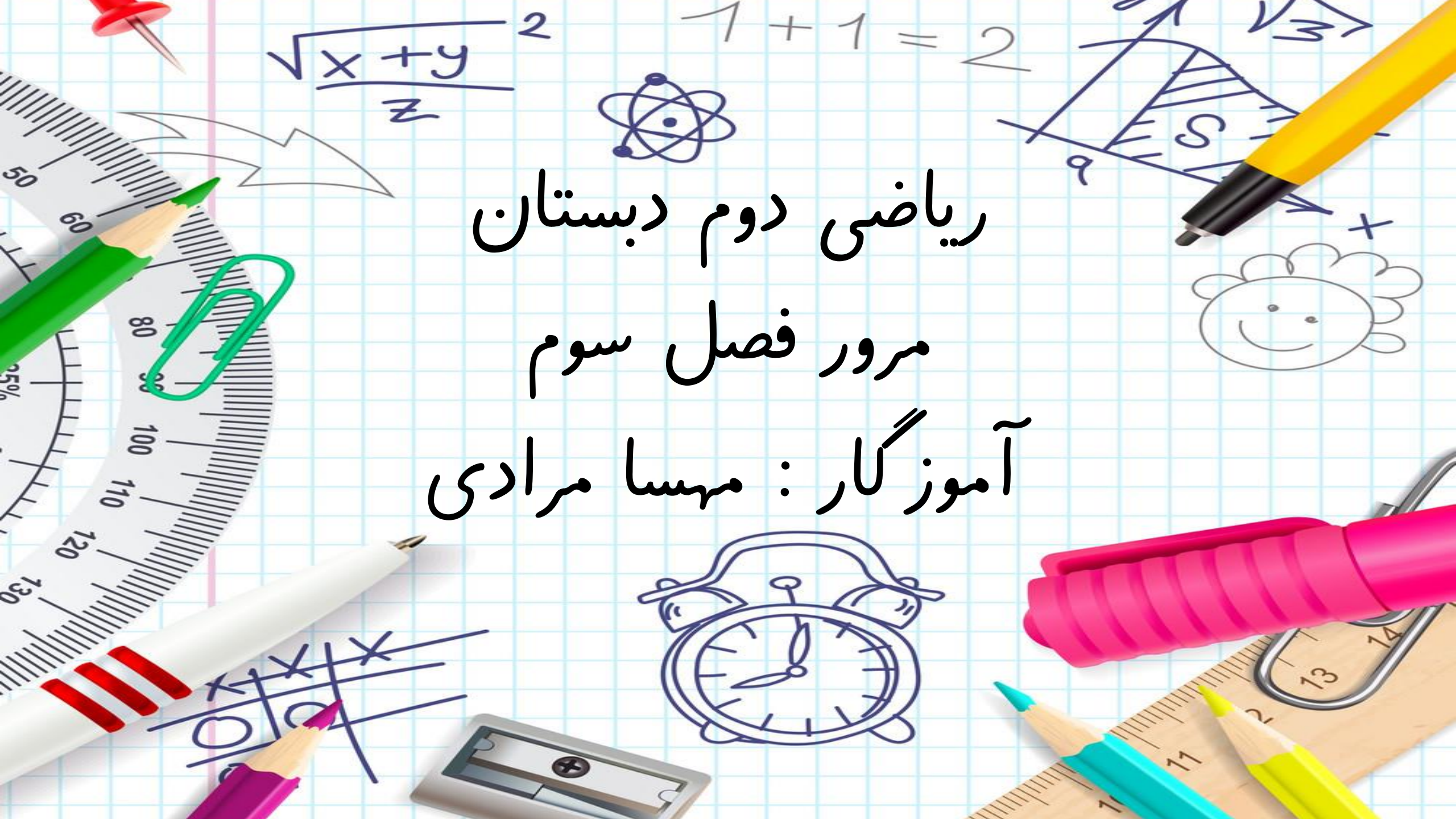


ریاضی دوم دبستان  
مرور فصل سوم  
آموزگار: مهسا مرادی



## « فصل ۳ : اشکال هندسی »



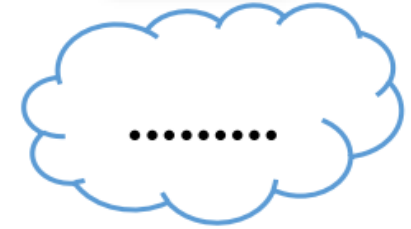

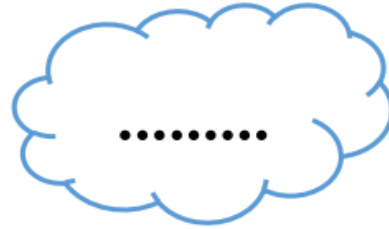

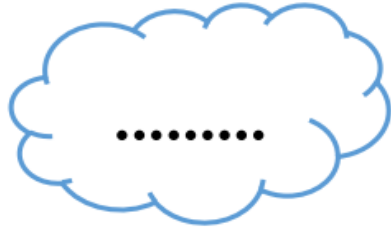

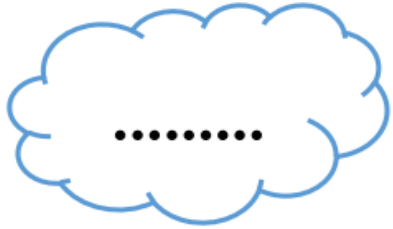
- ضلع و گوشه
- تفاوت و شباهت شکل ها
- راهبرد الگویابی
- تقارن دو قسمتی و چهار قسمتی
- نیم و ربع در ساعت
- مانده و گذشته در ساعت



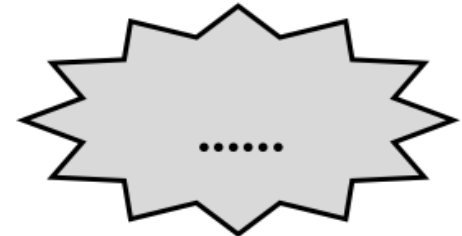
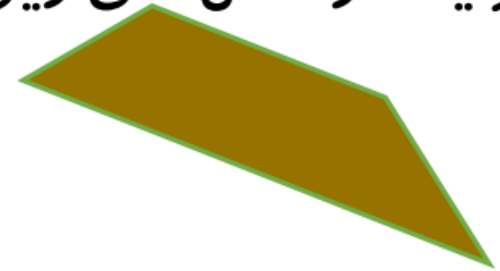


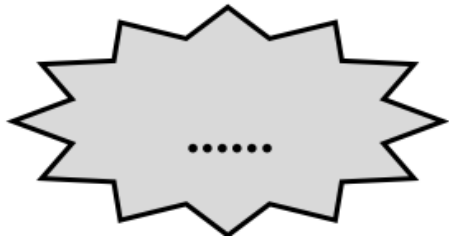

# نمونه سوال




عزیز توانا: نام شکل های زیر را بنویس.



هر یک از شکل های زیر چند گوشه دارد؟



ضلع های شکل های زیر را با مداد مشخص کن و بنویس چند ضلع و چند گوشه دارد؟





حالا جمله ی زیر را کامل کن:

در چند ضلعی ها تعداد ..... و ..... با هم ..... است.



گل قشنگم، با دقت به شکل های زیر نگاه کن و تفاوت و شباهت آن ها را بنویس.



شباهت


تفاوت



آیا می توانی بگویی هر یک از اجسام زیر چه شکل هندسی است؟



یک برش از کیک



بشقاب غذا



پنجره اتاق



پسرم : هر ساعت چه زمانی را نشان می دهد؟



عزیزم: اگر شکل‌ها را به همین ترتیب ادامه دهی، شکل پنجم از چند مربع تشکیل شده است؟



شکل ۱



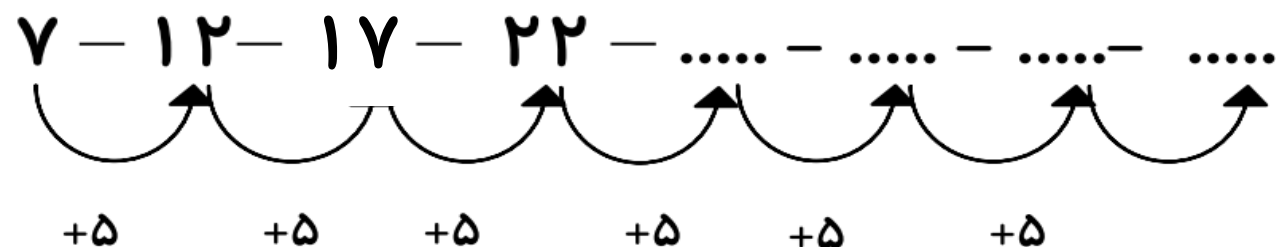
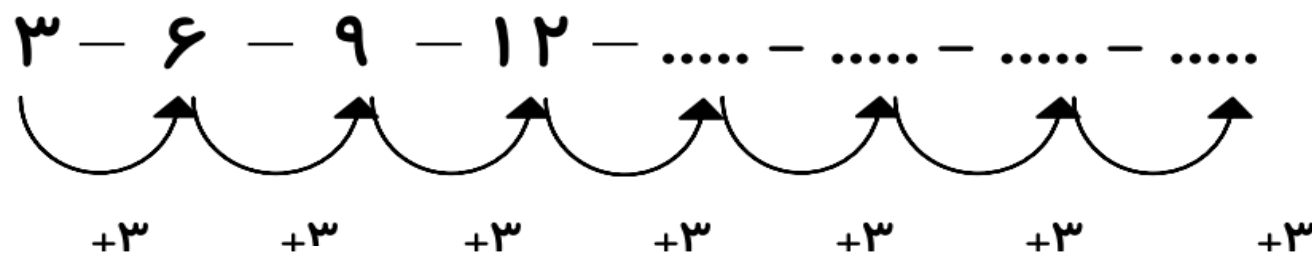
شکل ۳



شکل ۴



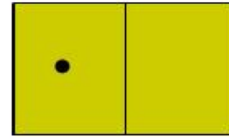
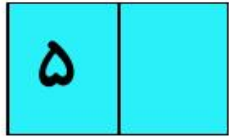
شکل ۵

ریاضی دان کوچکم: الگوها را ادامه بده.





عزیزم : در مقابل اعداد نوشته شده ، اعداد دیجیتالی آن را بنویس.



پسر گلم : هر ساعت چه زمانی را نشان می دهد؟ ( به صورت دیجیتالی بنویس )



..... : .....




..... : .....



..... : .....

عزیزم : به وسیله ی خط کش تقارن شکل های زیر را رسم کن.



با دقت شکل بالای خط را در پایین خط طوری رسم کن که اگر از روی خط تا بزنی شکل های دو

طرف روی هم قرار بگیرد.





گل قشنگم : ساعت مقابل ، ساعت پنج و ربع را نشان می دهد، چهار ساعت بعد ساعت چند می

شود؟ ( آن را در ساعت رو به رو نشان بده.)

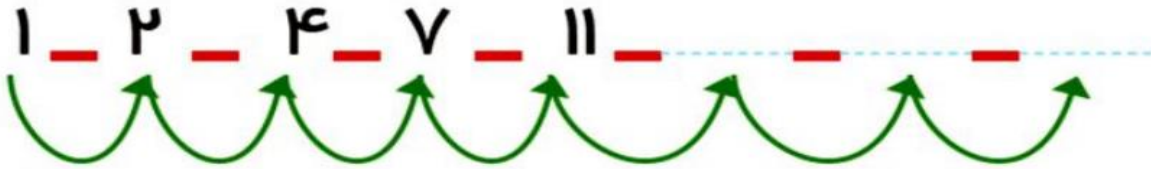
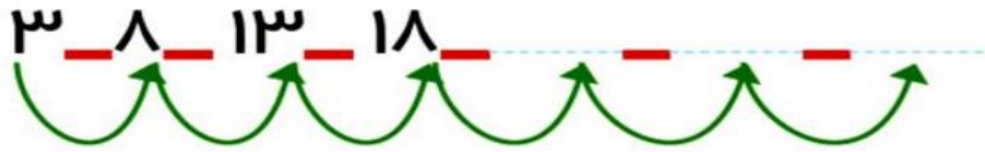


پسر گلم ، با رسم ۲ خط ، شکل های زیر را به ۴ قسمت مساوی تقسیم کن.






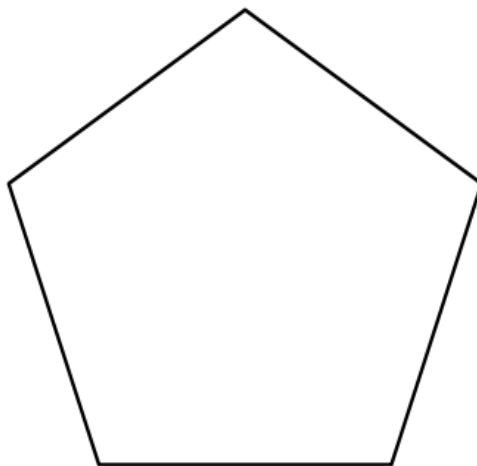
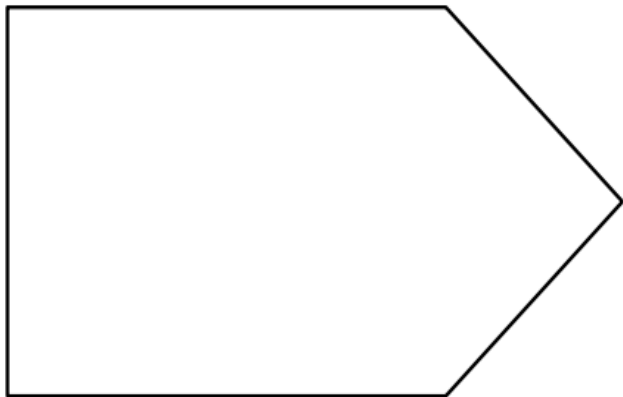
۳ عدد بعدی را بنویسید.



زمانی را که هر ساعت نشان می دهد،

به دو صورت بنویسید. (ربع و نیم)

دو شکل زیر چه تفاوت و شباهت هایی دارند؟ 



شباهت ( شبیه هم ) :

تفاوت ( فرق ) :

موفق و پیروز باشید