

نام و نام خانوادگی:

آموزگار: خانم کاشانی

موضوع:

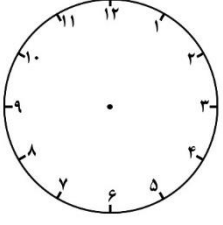
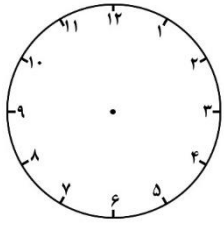
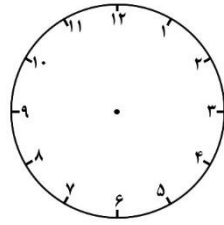
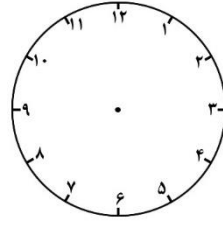
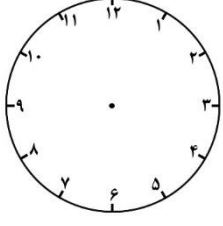
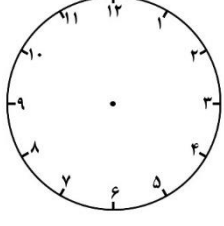
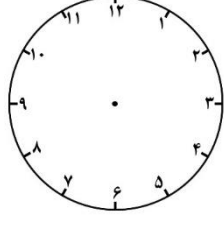
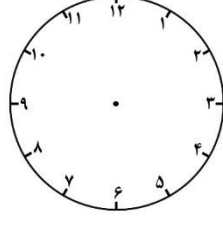
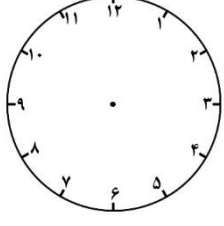
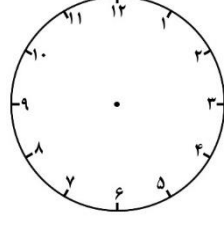
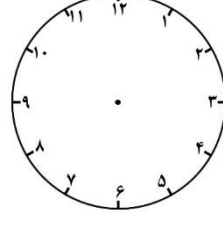
پایه:

تاریخ:

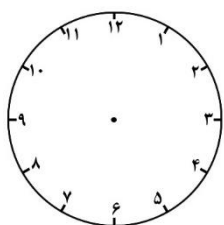
هدف:



۱- زمان‌های خواسته شده را نشان بدهید.

 <p>یک ربع از ساعت ۴ گذشته ساعت است.</p>	 <p>یک ربع به ساعت ۶ مانده ساعت است.</p>	 <p>ده دقیقه از ساعت ۲ گذشته ساعت است.</p>	 <p>نیم ساعت به ساعت ۸ مانده ساعت است.</p>
 <p>یک ربع از ساعت ۵ گذشته ساعت است.</p>	 <p>یک ربع به ساعت ۹ مانده ساعت است.</p>	 <p>نیم ساعت از ۱ گذشته ساعت است.</p>	 <p>۲۰ دقیقه به ۳ مانده ساعت است.</p>
 <p>۱۰ دقیقه از ساعت ۷ گذشته ساعت است.</p>	 <p>۱۰ دقیقه به ساعت ۱۱ مانده ساعت است.</p>	 <p>۲۰ دقیقه از ساعت ۶ گذشته ساعت است.</p>	 <p>۲۰ دقیقه به ساعت ۱۲ مانده ساعت است.</p>

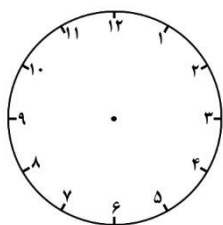




۵ دقیقه از ساعت ۱۰

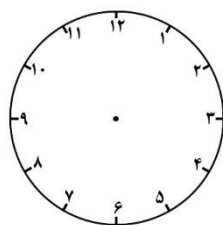
گذشته

ساعت است.



۵ دقیقه به ساعت ۸ مانده

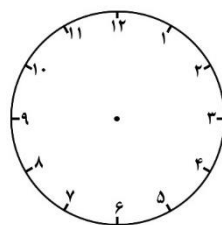
ساعت است.



۱۵ دقیقه از ساعت ۲

گذشته

ساعت است.



۲۰ دقیقه به ساعت ۴

مانده

ساعت است.

۲- الگوها را ادامه دهید.

۴۳ ، ۴۵ ، ۴۹ ، ، ، ،

۵۵ ، ۵۶ ، ۵۸ ، ، ، ،

۳۳ ، ۳۶ ، ۴۲ ، ، ، ، ، ،

۰ ، ۲ ، ۶ ، ، ، ،

