

فرهنگ نوشتن در مشق

در این فصل درس‌های مربوط به عدد که در کلاس اول یاد گرفته بودم، یادآوری شد.

یادم آمد که:



تمرین

۱- با رقم‌های ۷ و ۸ چند عدد ۲ رقمی می‌توان نوشت؟ آن‌ها را بنویسید.

۷۷ - ۸۸ - ۷۸ - ۸۷ -

۲- با رقم‌های ۶ و ۰ و ۱ هر چند تا عدد ۲ رقمی که می‌توانید، بنویسید.


۱۱ - ۶۶ - ۱۰ - ۶۱ - ۱۶ - ۶۰ -

۳- حاصل جمع و تفریق را با هر روشی که می‌خواهید، پیدا کنید.

$8 + 9 = 17$



$17 - 8 = 9$



۴- جمع‌ها را کامل کنید.

$0 + 5 = 5$

$2 + 3 = 5$

$4 + 1 = 5$

$1 + 4 = 5$

$3 + 2 = 5$

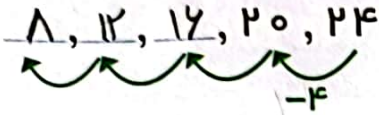
$5 + 0 = 5$

۵- ۲ دسته‌ی ده‌تایی مداد با ۴ دسته‌ی ده‌تایی را روی هم ریخته‌ایم. به آن‌ها ۷ تا یکی اضافه کرده‌ایم. حالا جدول را کامل کرده و بنویسید ~~چند~~ تا مداد داریم؟ تا مداد داریم.

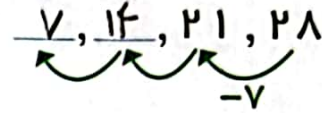
ده‌تایی	یکی
۲	۷

$$۲۰ + ۴۰ = ۶۰$$

$$۶۰ + ۷ = ۶۷$$



۶- الگوهای شمارش رو به عقب را کامل کنید.



۷- حاصل جمع‌های زیر را پیدا کنید.

$$۸ + ۸ + ۸ = ۲۴$$


$$۹ + ۹ + ۹ = ۲۷$$

۸- مسئله‌های زیر را حل کنید.

۸ دانش‌آموز در کلاس بودند. ۶ دانش‌آموز دیگر به کلاس آمدند ولی ۳ نفر از کلاس رفتند. حالا ~~چند~~ نفر در کلاس هستند؟ ۱۱ نفر در کلاس هستند.

$$۸ + ۶ - ۳ = ۱۱$$

احمد ۳ بسته مداد رنگی ۶ تایی به رنگ‌های زرد، سبز، آبی، قرمز، قهوه‌ای و سیاه داشت. او رنگ‌های سبز و زرد هر ۳ بسته را برداشت. حالا چند مداد رنگی برایش باقی مانده است؟ (این مسئله را با رسم شکل هم می‌توانید حل کنید). حالا ۱۲ مداد رنگی برایش باقی مانده است.



### الگویابی کن

عقربه‌های کوچک را با توجه به الگوی ساعت‌ها رسم کنید.

