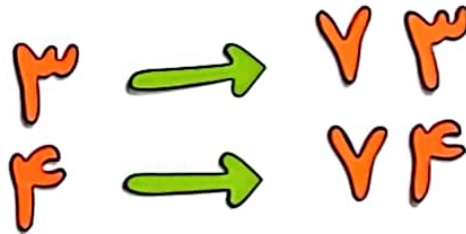
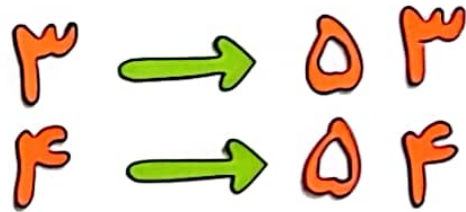


هنگام

۷ ۵

پس از

۴ ۳



فصل ۲
جمع و تفریق
اعداد دو رقمی



به نام خداوند بخشنده و مهربان

ریاضی صفحه ۲۶

دبستان و پیش دبستان علوی

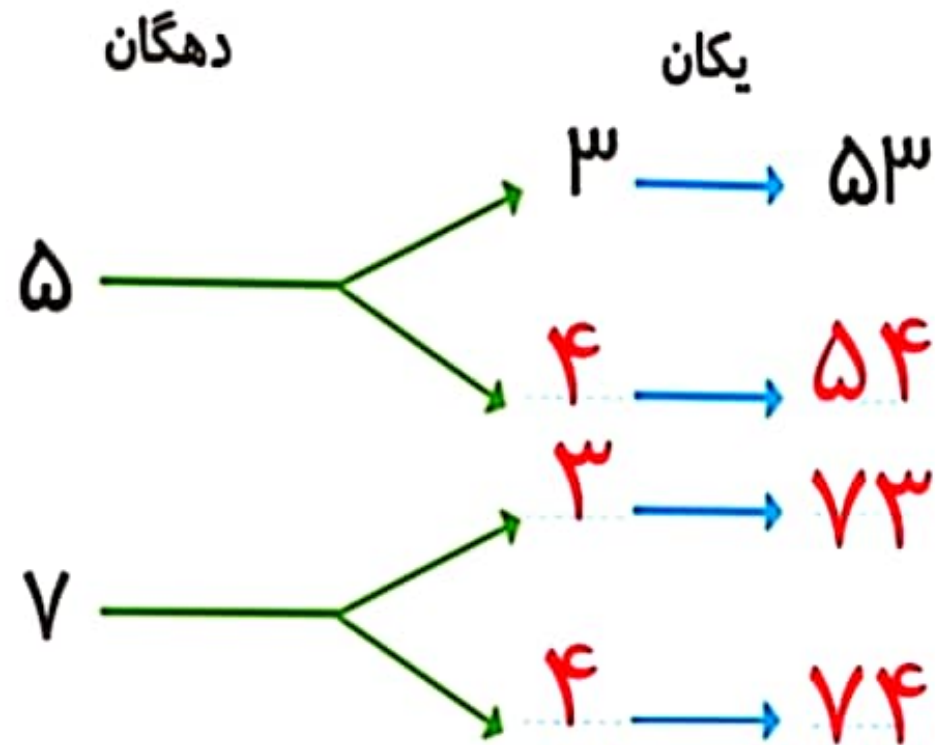


آموزگار: خانم خاکسار



۱- همهی عددهای دو رقمی را بنویسید که رقمهای یکان آن ۳ و ۴ و رقم دهگان آن ۵ و ۷ باشد.

دهگان	یکان	
۵	۳	→ ۵۳
۵	۴	→ ۵۴
۷	۳	→ ۷۳
۷	۴	→ ۷۴



۲- حاصل جمع‌های زیر ۶ می‌شود. مانند نمونه جمع‌هایی را بنویسید که حاصل جمع برابر ۶ شود.

$$0 + 6 = 6 \quad 4 + 2 = 6 \quad 2 + 4 = 6 \quad 3 + 3 = 6$$

$$6 + 0 = 6 \quad 1 + 5 = 6 \quad 5 + 1 = 6$$

۳- این جمع‌ها را با یک نظم مشخص در جدول زیر بنویسید.

	۰	۱	۲	۳	۴	۵	۶
+	۶	۵	۴	۳	۲	۱	۰

الگوهای عددی زیر را ادامه دهید.

۷۱_۷۲_۷۳_۷۴_۷۵_۷۶_۷۷_۷۸_۷۹_۸۰_۸۱_۸۲

۲_۴_۶_۸_۱۰_۱۲_۱۴_۱۶_۱۸_۲۰_۲۲_۲۴_۲۶_۲۸

$+2$ $+2$ $+2$

۳_۶_۹_۱۲_۱۵_۱۸_۲۱_۲۴_۲۷_۳۰_۳۳_۳۶_۳۹_۴۲

$+3$ $+3$ $+3$

برای پیدا کردن تمامی حالت‌هایی که در یک مسئله اتفاق می‌افتد، می‌توان آن‌ها را به‌طور منظم نوشت تا مطمئن شویم چیزی جا نیفتاده است.