
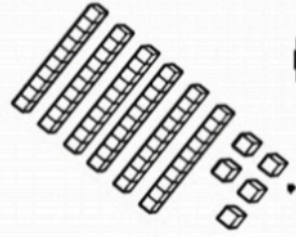


به نام خدا

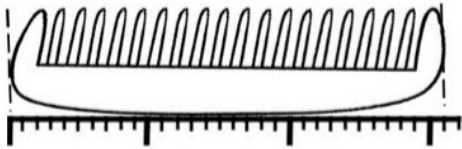
پایه دوم دبستان

نام و نام خانوادگی

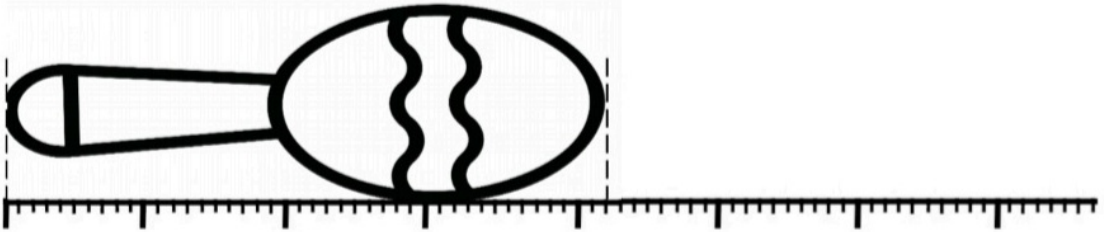


به نام خدا
نمونه سوالات فصل هفتم ریاضی پایه دوم دبستان

۱- اندازه ی شکل های زیر را با کامل کردن جاهای خالی کامل کن.

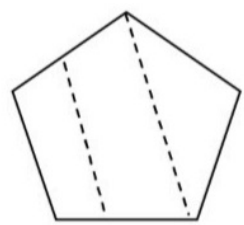
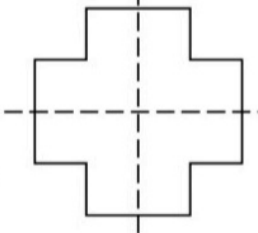
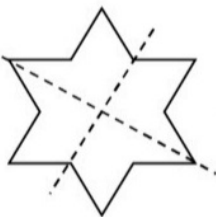
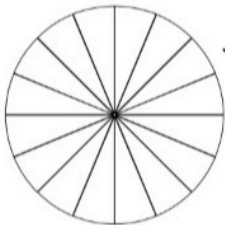


اندازه ی شانه کمتر از سانتی متر است.
اندازه ی شانه بین و سانتی متر است.
اندازه ی شانه میلی متر است.
اندازه ی شانه سانتی متر و میلی متر است.




اندازه ی جغجه کمتر از سانتی متر است.
اندازه ی جغجه بین و سانتی متر است.
اندازه ی جغجه میلی متر است.
اندازه ی جغجه سانتی متر و میلی متر است.

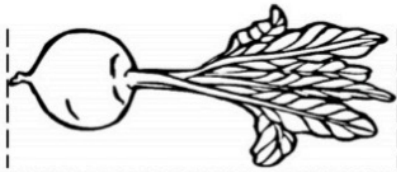
۲- کدام شکل به قسمت های مساوی تقسیم نشده است؟




۳- اندازه ی شکل های زیر را با کامل کردن جاهای خالی مشخص کن.



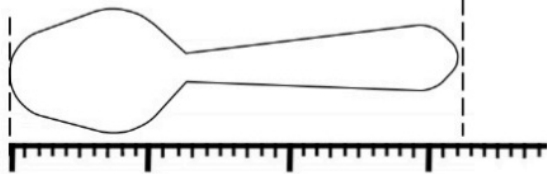
اندازه ی بادمجان سانتی متر و قسمت از ۱۰ قسمت کوچک است.
اندازه ی بادمجان سانتی متر و میلی متر است.



اندازه ی تربچه سانتی متر و
قسمت از ۱۰ قسمت کوچک است.



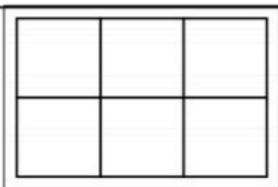
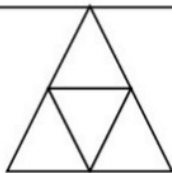

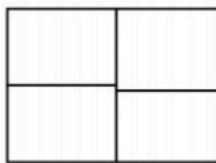

اندازه ی تربچه سانتی متر و میلی متر
است.



اندازه ی قاشق سانتی متر و قسمت از
۱۰ قسمت کوچک است.

اندازه ی قاشق سانتی متر و میلی متر است.

۴- کدام یک از شکل های به قسمت های مساوی تقسیم شده است؟



۵- کامل کن.

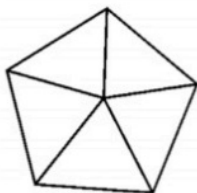
..... قسمت مساوی

..... قسمت مساوی

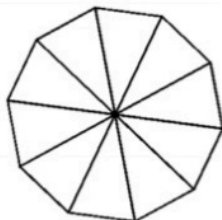
..... قسمت مساوی

..... قسمت مساوی

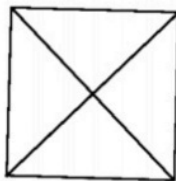
۶- رنگ کن.



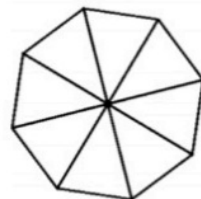
۲ قسمت از
قسمت مساوی



۵ قسمت از
قسمت مساوی

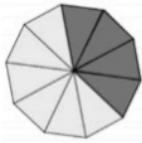


۱ قسمت از
قسمت مساوی



۵ قسمت از ۸
قسمت مساوی



۷- جاهای خالی را کامل کن و یک خط روی محور به اندازه ی قسمت رنگ شده بکش.



..... قسمت از مساوی رنگ شده است.



..... قسمت از مساوی رنگ شده است.



..... قسمت از مساوی رنگ شده است.

-۸

اندازه ی خط سانتی متر و قسمت از ۱۰ قسمت مساوی است.

اندازه ی خط سانتی متر و قسمت از ۱۰ قسمت مساوی است.

اندازه ی خط سانتی متر و قسمت از ۱۰ قسمت مساوی است.

اندازه ی خط سانتی متر و قسمت از ۱۰ قسمت مساوی است.

اندازه ی خط سانتی متر و قسمت از ۱۰ قسمت مساوی است.

۹- کامل کن.




در این محور هر واحد به قسمت مساوی تقسیم شده است.


نقطه ی مشخص شده واحد و قسمت از قسمت مساوی را نشان می دهد.



در این محور هر واحد به قسمت مساوی تقسیم شده است.
نقطه ی مشخص شده واحد و قسمت از قسمت مساوی را نشان می دهد.




در این محور هر واحد به قسمت مساوی تقسیم شده است.
نقطه ی مشخص شده واحد و قسمت از قسمت مساوی را نشان می دهد.

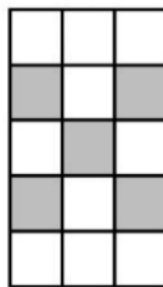


۱۰-
۳۷ یعنی ده تایی و قسمت از ۱۰ قسمت مساوی
۹۶ یعنی ده تایی و قسمت از ۱۰ قسمت مساوی
۵۳ یعنی ده تایی و قسمت از ۱۰ قسمت مساوی
۸۴ یعنی ده تایی و قسمت از ۱۰ قسمت مساوی

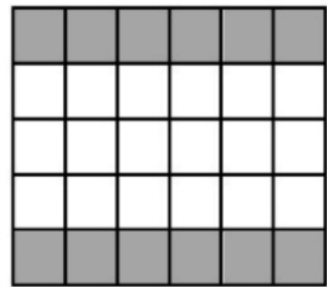
۱۱- کامل کن.



..... قسمت از قسمت
مساوی رنگ شده است.



..... قسمت از قسمت
مساوی رنگ شده است.



..... قسمت از قسمت
مساوی رنگ شده است.

ماه	دانه	کاه	ساده	تازه	کوه
چاله	ستاره	نماینده	خانه	کتابخانه	لانه
شاهنامه	چاه	روزنامه	ماده	راه	جاده

۱۲- خانه هایی که صدای آخرشان (ه) است را رنگ بزن.

حالا قسمت از قسمت مساوی رنگ شده است.