



موضوع:

تاریخ

نام و نام خانوادگی

هدف:

اعدادی که دهگان ۹ دارند را به هم وصل کنید و نام شکلی را که به وجود می آید بنویسید .

۵۹۰ ۹۸۰ ۹۹۰ ۳۹۰

نام شکل :

۹۱۰ ۲۹۰ ۶۹۰ ۹۳۰

۴۹۰ ۹۶۰ ۹۰۰ ۹۱۰

با توجه به خصوصیتی که از شکل های هندسی نوشته شده است ، نام هر شکل هندسی را حدس بزنید و بنویسید .

الف (۴ گوشه و ۴ ضلع مساوی دارد


ب (۳ گوشه و ۳ ضلع مساوی دارد

ج (گوشه و ضلع ندارد

د (۴ گوشه و ۲ ضلع دو به دو مساوی دارد

با استفاده از شابلون یک مربع و یک مستطیل بکشید و شباهت و تفاوت های این دو شکل را

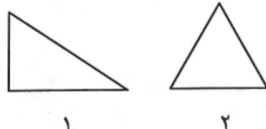
بنویسید .



شباهت :

تفاوت :

تفاوت و شباهت شکل های زیر را بنویسید .

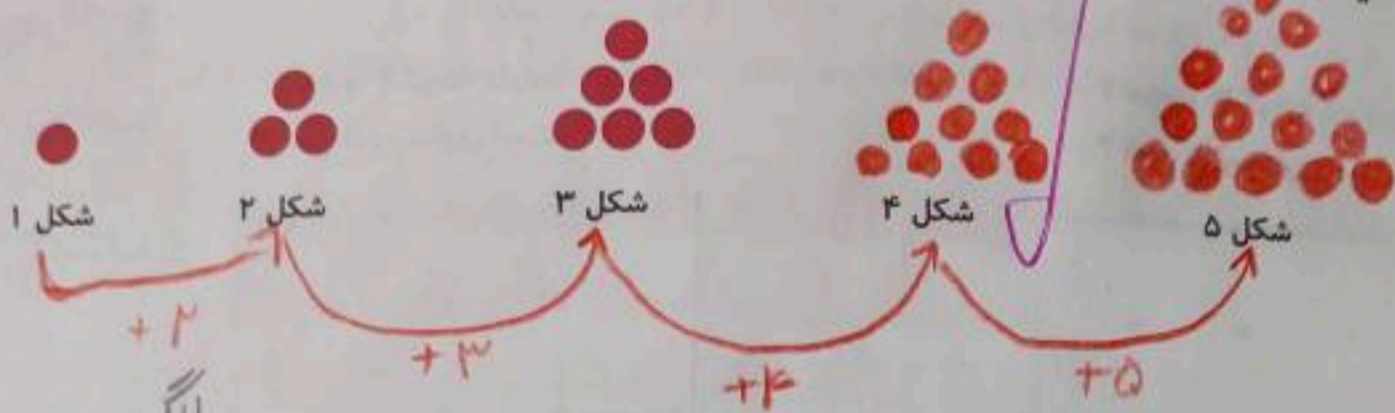


شباهت :

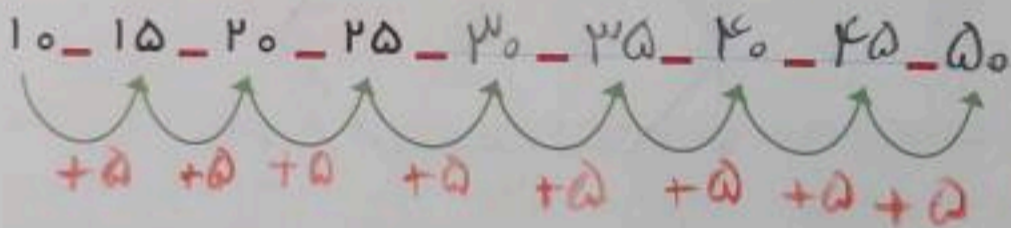
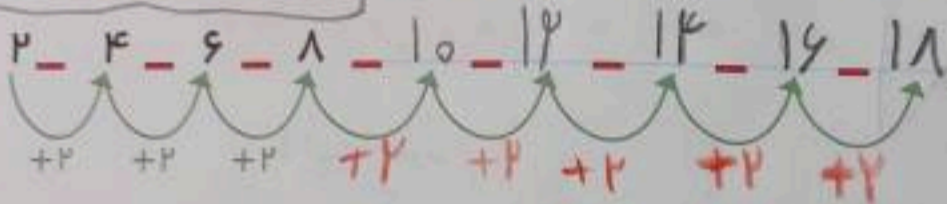
تفاوت :

۲۴ / ۱۸ / ۱۲ / ۶

۱- اگر کشیدن شکل‌ها را به همین ترتیب ادامه دهیم، شکل پنجم چند دایره خواهد داشت؟



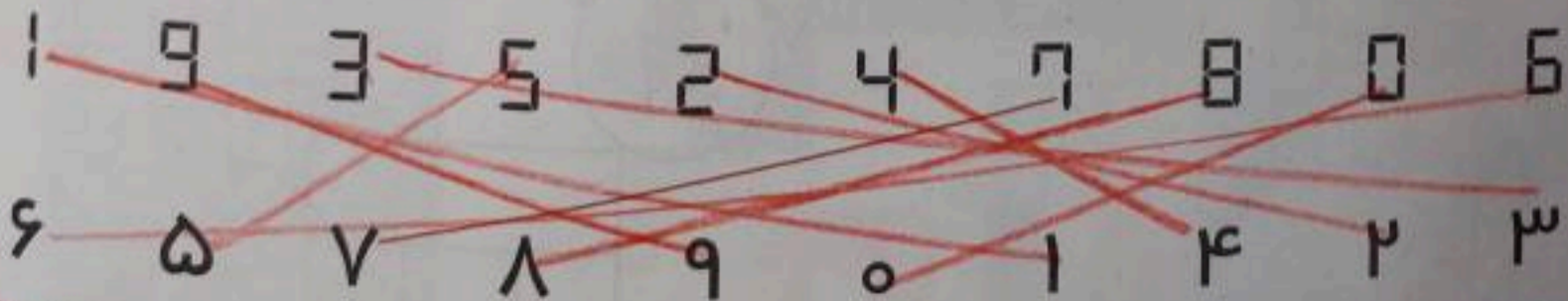
۲- الگوها را ادامه دهید.



کامل کن



جواد ساعت روبه‌رو را برای تولدش هدیه گرفت. ولی نمی‌توانست عددها را بخواند. مانند نمونه به او کمک کنید تا عددها را تشخیص دهد.



می‌توان رابطه‌هایی را که بین شکل‌ها یا عددها وجود دارند، کشف کرد و الگو را ادامه داد. با الگویابی می‌توان پاسخ مسئله را پیدا کرد.