

بہ نام خدا

مرور


ریاضی دوم دبستان

آموزگار: منیرہ صدیقی

فصل ۸

آمار و نمودار

۱- تعداد گل های زیر را با کشیدن چوب خط شمارش کن و در جدول بنویس سپس به سوالات پاسخ مناسب بده.



تعداد	چوب خط	گل
		
		
		
		

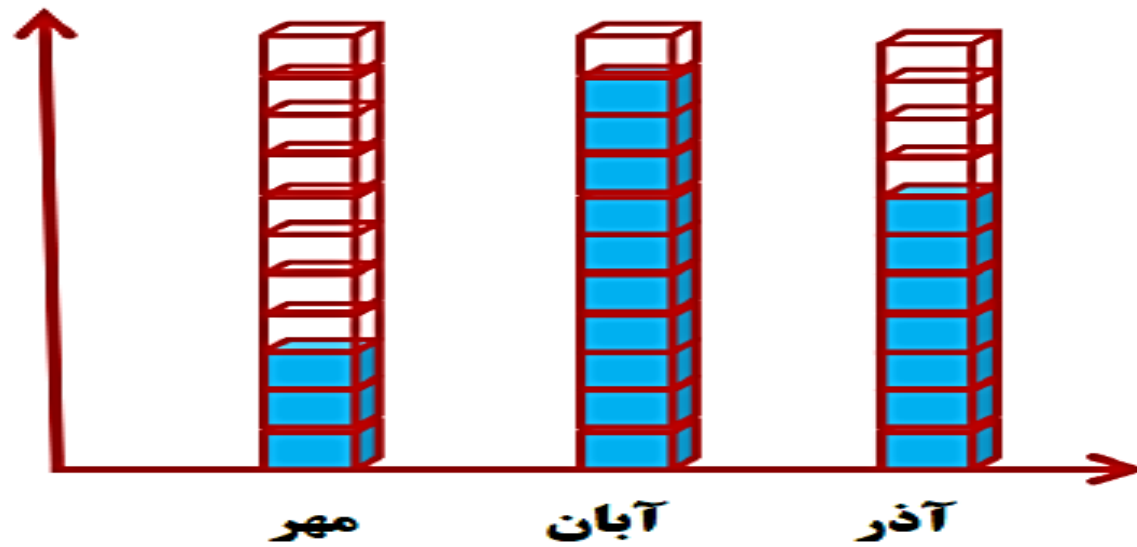
تعداد کدام گل از بقیه بیشتر است؟ شکل آن را بکش.....

تعداد کدام گل از بقیه کمتر است؟ شکل آن را بکش.....

تعداد کل گلها روی هم چقدر است؟.....

به گل  چقدر اضافه کنیم تا با گل  هم اندازه شود؟.....

۲- نمودار زیر مربوط به بارش باران در فصل پاییز است. با توجه به نمودار به سوالات پاسخ بده.



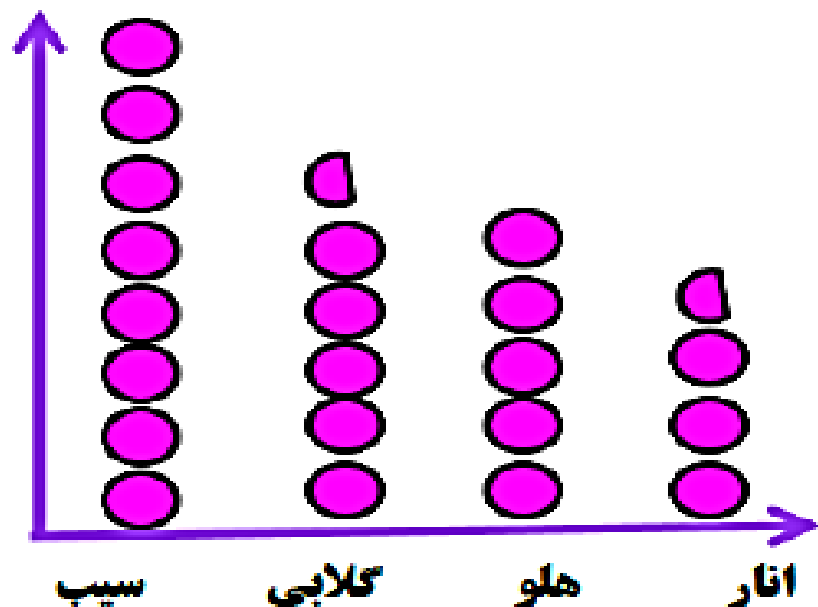
بیشترین بارش باران مربوط به کدام ماه است؟.....

در این فصل روی هم چندبار باران باریده است؟.....

اختلاف بارش باران در ماه های آبان و آذر چندبار بوده است؟.....

۳- نمودار تصویری زیر تعداد تقریبی میوه های یک میوه فروشی را نشان می دهد. با

توجه به این نمودار به سوالات پاسخ بده. هر ۱۰ میوه با  نشان داده شده است



تعداد کدام میوه از همه بیشتر است و چند تا است؟.....



تعداد کدام میوه از همه کمتر است و چند تا است؟.....

تعداد کل میوه ها چند تا است؟.....

به غیر از میوه ی انار و سیب چند میوه ی دیگر در این میوه فروشی است؟.....

اختلاف بیشترین میوه و کمترین میوه چقدر است؟.....

۴- برای هر شکل دو جمله بنویس.



....تاتایی می شود.....تا

....تاتایی می شود.....تا

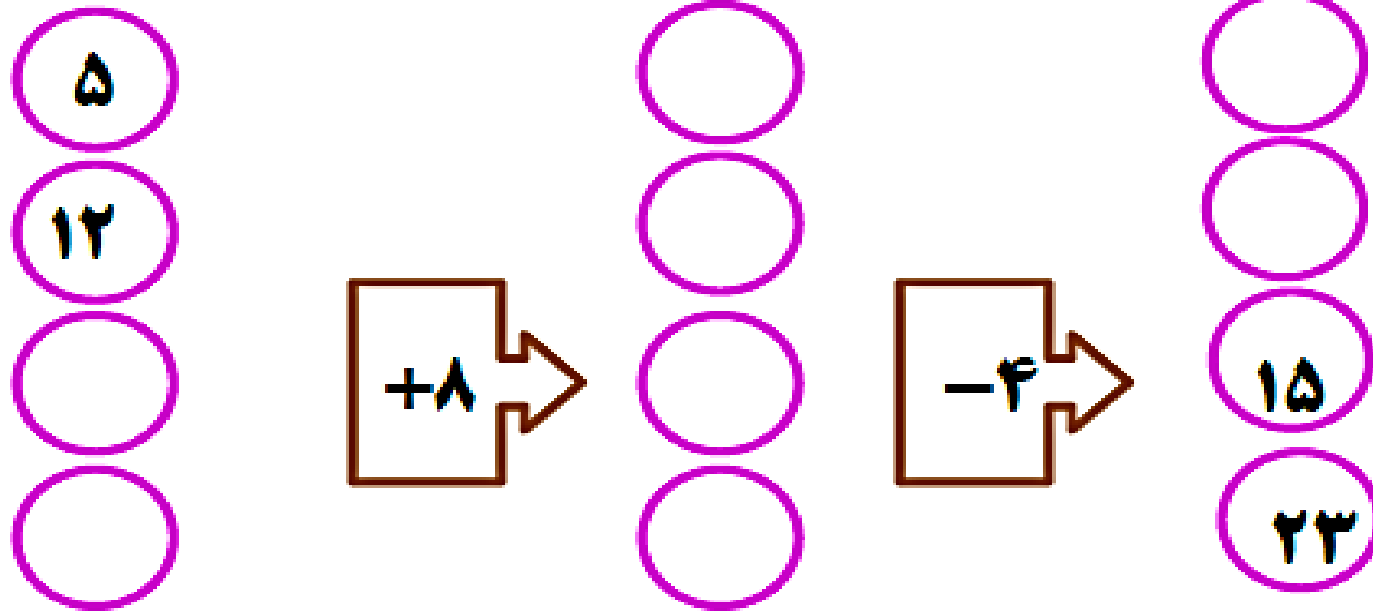
....تاتایی می شود.....تا

....تاتایی می شود.....تا

۵- عددی را پیدا کن که اگر از ۴۷ کم کنیم پاسخ ۱۶ می شود. (راهبرد نمادین)

۶- قیمت یک مداد و خط کش روی هم ۹۳ تومان می شود. اگر قیمت خط کش ۲۶ تومان باشد قیمت مداد چند تومان است؟

۷- در جاهای خالی عدد مناسب بگذار.



۸- قیمت یک پیراهن و کفش روی هم ۹۸۰ تومان می باشد اگر قیمت پیراهن ۵۳۰ تومان باشد قیمت کفش چند تومان است؟

۹- در جاهای خالی عدد مناسب بگذار. (حدس و آزمایش)


$$\square + ۴۳ = ۶۹$$

$$۷۳ - \square = ۲۹$$


$$\square + ۳۸ = ۸۴$$

$$۶۱ - \square = ۳۶$$

۱۰- شکل های زیر را دسته بندی کن و عدد مربوط به هر شکل را بنویس . کدام شکل ها عدد زوج را نشان می دهند؟ چرا؟




.....



.....



.....



.....



قهرمان های کوچولو
همیشه پیروز و موفق باشید.