



موضوع:

تاریخ

نام و نام خانوادگی

هدف:

۱. خط تقارن شکل‌های زیر را رسم کن و تعداد خط تقارن‌های آن‌ها را بنویس.



۲. پریسا ساعت ۷ و ربع به مدرسه رفت. او ۵ ساعت و ۴۰ دقیقه بعد به خانه برگشت. پریسا چه ساعتی به خانه برگشته است؟ روی ساعت نشان بده.



۳. آقا مجتبی برای میز کارش می‌خواهد یک رومیزی سنتی بخرد. او به فروشنده گفت میز من گوشه ندارد. به نظر شما میز او چه شکلی است؟ شکل آن را بکش.




۴. تفاوت و شباهت شکل‌های زیر را بنویس.



تفاوت:

شباهت:

۵. الگوها را ادامه بده.





موضوع:

تاریخ

نام و نام خانوادگی

هدف:

۱- عبارت های زیر را کامل کن.

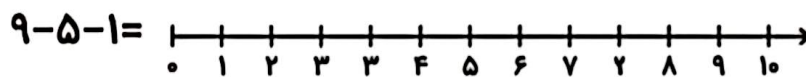
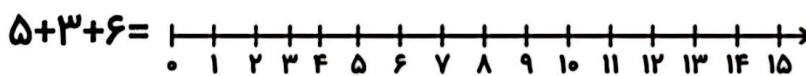
$$\dots + \dots = 9$$

$$7 + 3 + 5 + 2 =$$

$$\dots + \dots = 5$$

$$10 + 20 + 5 + 3 =$$

۲- حاصل عبارت ها را روی محور نشان بده.



۳- دسته های ده تایی درست کن، و تعداد شکل ها را بنویس.

عدد:

حروف:

۴- ۳ عدد بنویس که یکان آن ها ۴ باشد.



۵- کاوه به فروشگاه رفت و یک بستنی ۳۷ ریالی و دو آدامس ۲۲ ریالی و یک مارشمالو ۴۵ ریالی خرید. کاوه چند ریال به فروشنده بپردازد؟



۶- قبل و بعد هر عدد را بنویس.

