

موضوع: تمرینات دوره ای

تاریخ

نام و نام خانوادگی

هدف: مرور آموخته ها

۱- کتاب مریم ۸۳۴ صفحه دارد. او یک روز ۱۴۲ صفحه و روز دیگر ۲۸۹ صفحه خوانده است. چند صفحه از کتاب او باقی مانده است؟

۲- سن علی و پدرش روی هم ۶۷ سال است. اگر علی ۱۳ ساله باشد، پدرش چند ساله است؟

۳- ساعت های زیر را بکشید.
ساعت ۶ و ۱۰ دقیقه
ساعت ۹ و نیم
یک ربع قبل از ساعت ۵

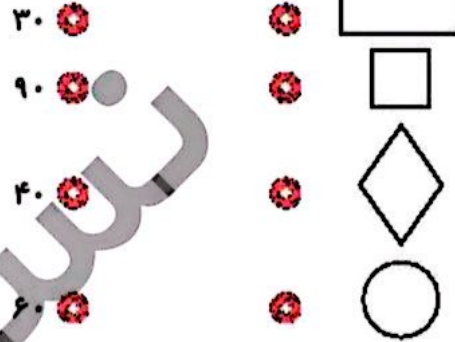
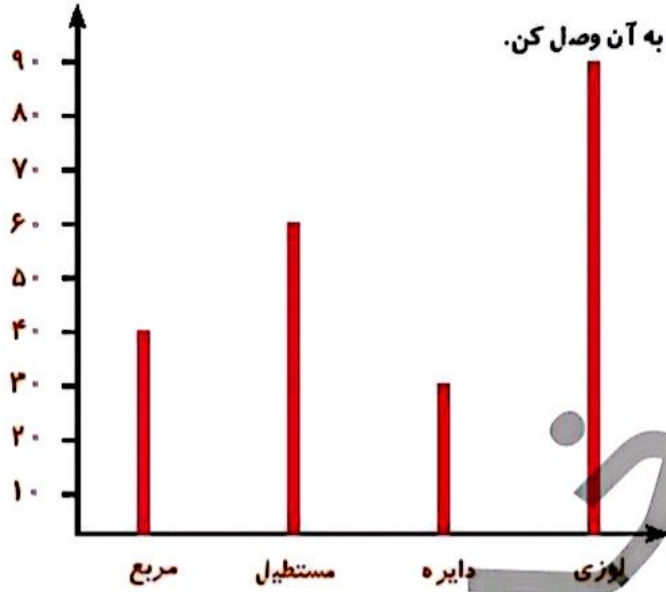


عزیزانم موفق باشید ❤️

تمرین



۱ با توجه به نمودار ستونی، هر شکل را به عدد مربوط به آن وصل کن.



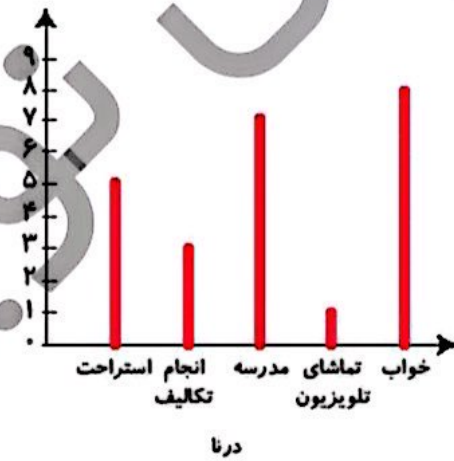
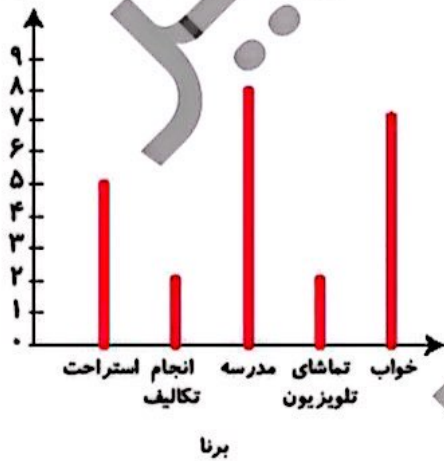
۲ درستی و نادرستی هر عبارت را مشخص کن.

الف: نمودار ستونی برای نمایش اطلاعات بهتر از نمودار تصویری است.

ب: یک سکه را ۲۰ بار پرتاب می‌کنیم. احتمال پشت یا رو آمدن سکه در پرتاب یکسان است.

پ: اگر به عدد ۲۸ یک دسته‌ی ۱۰۰ تایی اضافه کنیم عدد بدست آمده یک عدد فرد است.

۳ نمودار کارهای روزانه‌ی درنا و برنا را در یک شبانه روز رسم کرده‌ایم. با توجه به نمودارهای پرسش‌های زیر پاسخ بده.



الف: کدام یک مدت زمان بیشتری را برای انجام تکالیف خود اختصاص می‌دهند؟

ب: کدام یک بیش‌تر در مدرسه می‌ماند؟

پ: کدام یک مدت‌زمان بیشتری را صرف تماشای تلویزیون می‌کند؟

ت: مجموع استراحت و انجام تکالیف کدام یک کم‌تر است؟

