



موضوع: دوره فصل اول ریاضی

تاریخ

نام و نام خانوادگی

هدف:

۱- با خط کش عددهای مثل هم به یکدیگر وصل کنید.

9 3 8 1 4 5 2 6 7
8 7 2 4 5 6 9 1 3

۲- مانند نمونه به عدد یا حروف بنویسید.

۴۸		۵۱		۳۱		۶۳	
	دوازده		هشتاد و دو		پنجاه و چهار		نود و هفت

۳- با رقم های ۶ و ۸ چهار عدد دو رقمی بنویسید.

□ □ □ □

۴- جاهای خالی را به طور مناسب کامل کنید.



ساعت به مانده است.



ساعت از گذشته است.



ساعت به مانده است.

۵- جدول ارزش مکانی را کامل کنید.

دهگان	یکان

۳۷

دهگان	یکان

۲۹

۶- عددهای دو رقمی خواسته شده را به عدد حروف بنویسید.

رقم یکان ۵ و رقم دهگان ۸ :

رقم یکان ۷ و رقم دهگان ۳ :

رقم یکان ۴ و رقم دهگان ۶ :



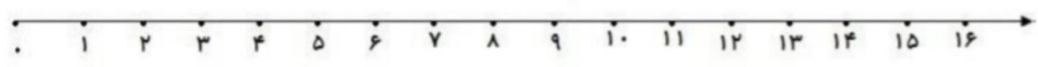
موضوع: دوره فصل اول ریاضی

تاریخ

نام و نام خانوادگی

هدف:

۷- امروز روز هفتم ماه هست. ۹ روز دیگر روز چندم ماه می شود؟ روز ماه است.



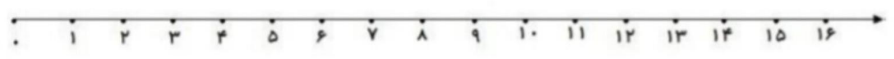
۸- الگوهای شمارش به عقب را ادامه دهید.



۹- حاصل جمع را با خط نشان و حاصل تفریق را با محور پیدا کنید.

$6 + 8 = \dots\dots\dots$

$15 - 9 = \dots\dots\dots$



۱۰- الگوهای عددی زیر را ادامه دهید.

۲۵ ، ۳۰ ، ، ، ،

۳۴ ، ۳۷ ، ، ، ،

۴۱ ، ۴۸ ، ، ، ،

۰ ، ۸ ، ۱۶ ، ، ، ،

۱۱- حاصل جمع های زیر را به دست آورید.

$20 + 5 + 5 + 60 = \dots\dots\dots$ $9 + 9 + 9 = \dots\dots\dots$ $30 + 10 + 5 + 40 = \dots\dots\dots$

$10 + 10 + 20 + 30 = \dots\dots\dots$ $7 + 7 + 7 = \dots\dots\dots$ $5 + 10 + 5 + 30 = \dots\dots\dots$

۱۲- حاصل جمع و تفریق های زیر را به صورت ذهنی محاسبه کنید.

$7 + 8 = \dots\dots\dots$ $7 + 9 = \dots\dots\dots$ $17 - 9 = \dots\dots\dots$ $12 - 8 = \dots\dots\dots$



موضوع: دوره فصل اول ریاضی

تاریخ:

نام و نام خانوادگی:

هدف:

۱۳- ابتدا تعداد هر کدام را بشمارید و بنویسید و سپس بین دو عدد علامت $< = >$ بگذارید.

.....

.....

۱۴- جاهای خالی را با ترکیب مناسب اعداد کامل کنید.

..... + + = ۱۰ + + = ۱۰ + + = ۱۰

۱۵- سارینا ۵ دسته ی ۱۰ تایی گل را در گلدانی گذاشته است. مادرش هم ۹ گلدان در همان گلدان گذاشت. حالا چند گل در گلدان است؟ جدول را کامل کرده و پاسخ را به دست آورید.

دهگان	یکان

۱۶- ۹ پرنده روی شاخه ی درختی نشسته بودند. ۴ پرنده دیگر هم پیش آن ها آمدند و سپس ۶ تا از آن ها پرواز کردند و رفتند. حالا چند پرنده روی شاخه ی درخت هستند؟



دوره فصل دوم

موضوع:

تاریخ

نام و نام خانوادگی

هدف:

۱- جمع و تفریق های زیر را به صورت ذهنی انجام دهید.

$40 + 30 = \square$

$80 - 50 = \square$


$30 \div 50 = \square$

$70 \div 20 = \square$

$90 - 30 = \square$

$60 - 50 = \square$

۲- عددهای ۳۸ و ۴۵ را روی محور پیدا کنید.



۳- جاهای خالی را کامل کنید.

۸ دسته ده تایی منهای ۲ دسته ده تایی می شود دسته ی ده تایی = - ۸۰

۵۰ = ۳۰ + دسته ده تایی به اضافه دسته ده تایی می شود دسته ده تایی = ۳۰ + ۵۰

۴- الگوهای عددی را کامل کنید.

۱ - ۵ - ۹ - - - -

۶ - ۹ - ۱۲ - - - -

..... - - - - ۷۰ - ۸۰ - ۹۰

۵- کوچک ترین عدد یک رقمی و بزرگترین عدد یک رقمی است.



دوره فصل دوم

موضوع:

تاریخ

نام و نام خانوادگی

هدف:

۶- جدول جمع و تفریق های زیر را کامل کنید.

+	۸	۹	۱۵
۵			
۳			

-	۱۰	۸	۵
۲۴			
۱۷			

۷- حاصل جمع های عدد ۷ را بنویسید.

.....+.....=.....

.....+.....=.....

.....+.....=.....

.....+.....=.....

.....+.....=.....

.....+.....=.....

.....+.....=.....

.....+.....=.....

۸- همه ی عددهای دو رقمی را که می توان با رقم های ۶ و ۴ برای یکی ، ۵ ، ۲ ، ۹ برای ده تایی

می توان نوشت پیدا کنید.

۹- حاصل جمع و تفریق های زیر را از راه طولانی بنویسید.

۳۵

۷۴

۸۷

۹۷

+۲۳

+۱۴

-۳۵

-۴۷



دوره فصل دوم

موضوع:

تاریخ

نام و نام خانوادگی

هدف:

۱۰- به پرسش های زیر پاسخ دهید.

- عدد ۳۳ به ۳۰ نزدیک تر است یا به ۴۰؟
- عدد ۷۱ به ۷۰ نزدیک تر است یا به ۸۰؟
- عدد ۴۹ به ۴۰ نزدیک تر است یا به ۵۰؟
- عدد ۸۸ به ۸۰ نزدیک تر است یا ۹۰؟

۱۱- عقربه های ساعت را بکش.



ساعت ۱ و ۲۰ دقیقه



ساعت ۱۲ و ۱۵ دقیقه



ساعت ۷ و ۳۵ دقیقه

۱۲- جمع و تفریق های زیر را به صورت تقریبی بدست آور.

۳۶ →

۴۹ →

۶۵ →

۷۲ →

۲۳ → +

۴۱ → +

-۳۴ → -

-۳۹ → -

۱۳- علی در ردیف اول کتابخانه اش ۲۶ کتاب و در ردیف دوم کتابخانه اش ۱۳ کتاب گذاشته است. علی روی

هم چند کتاب دارد؟ (از راه طولانی)