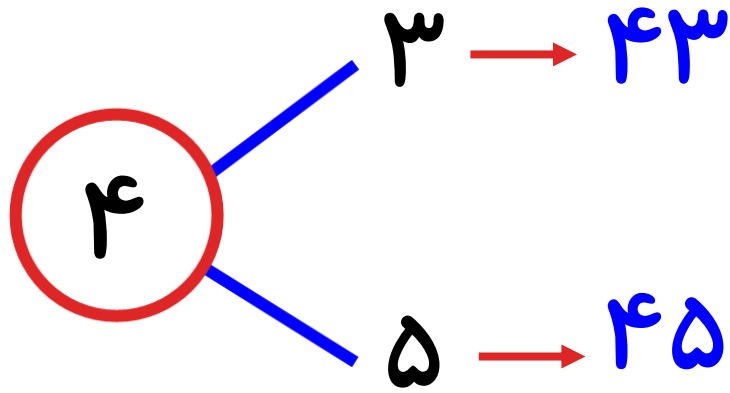
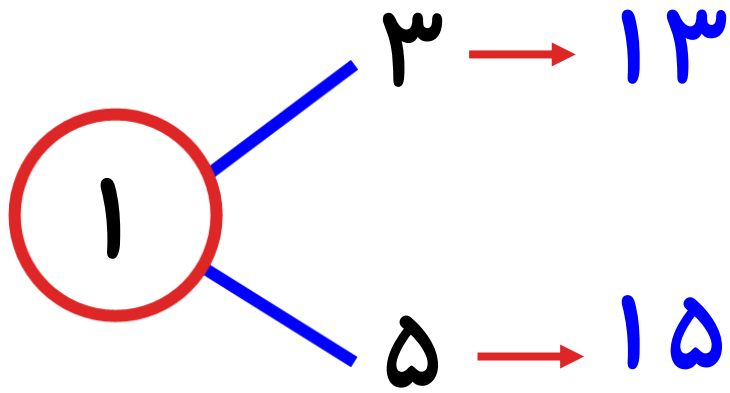


مرور فصل دوم



۱. جاهای خالی را پر کنید.

الف) همه ی عدد های دو رقمی که یکان آن ها ۵، ۳ و دهگان آن ها ۴، ۱ باشد را بنویسید.



۲. سوال های زیر با روش جمع و تفریق فرآیندی حل کنید.

$$\begin{array}{r} 24 \\ + 38 \\ \hline \end{array}$$

$$\begin{array}{r} 93 \\ - 26 \\ \hline \end{array}$$

$$\begin{array}{r} 46 \\ + 31 \\ \hline \end{array}$$

$$\begin{array}{r} 79 \\ - 42 \\ \hline \end{array}$$

۲. سوال های زیر با روش جمع و تفریق فرآیندی حل کنید.

$$\begin{array}{r} ۲۴ \\ + ۳۸ \\ \hline ۵۴ \\ + ۸ \\ \hline ۶۲ \end{array}$$

$$\begin{array}{r} ۹۳ \\ - ۲۶ \\ \hline ۷۳ \\ - ۶ \\ \hline ۶۷ \end{array}$$

$$\begin{array}{r} ۷۹ \\ - ۴۲ \\ \hline ۳۹ \\ - ۲ \\ \hline ۳۷ \end{array}$$

$$\begin{array}{r} ۴۶ \\ + ۳۱ \\ \hline ۷۶ \\ + ۱ \\ \hline ۷۷ \end{array}$$

۳. جمع و تفریق زیر را به صورت تقریبی حل کنید.

$$\begin{array}{r} ۲۴ \longrightarrow \underline{۲۰} \\ + ۳۸ \longrightarrow \underline{۴۰} \\ \hline ۶۰ \end{array}$$

$$\begin{array}{r} ۴۹ \longrightarrow \underline{۵۰} \\ + ۲۵ \longrightarrow \underline{۳۰} \\ \hline ۲۰ \end{array}$$

$$\begin{array}{r} ۱۷ \longrightarrow \underline{۲۰} \\ + ۶۱ \longrightarrow \underline{۶۰} \\ \hline ۸۰ \end{array}$$

۴. گسترده اعداد زیر را بنویسید.

$$۳۵ = ۳۰ + ۵$$

$$۹۸ = ۹۰ + ۸$$

۵. زهرا ۴۵ دقیقه درس علوم و فارسی را مطالعه کرده است. اگر درس علوم ۲۳ دقیقه طول کشیده

باشد. درس فارسی چند دقیقه طول کشیده است؟

$$\begin{array}{r} ۴۵ \\ - ۲۳ \\ \hline ۲۲ \\ + ۳ \\ \hline ۲۵ \end{array}$$

۲۲ دقیقه درس فارسی طول می کشد.

۶. نازنین ۳۹ تا کتاب در کتابخانه اش دارد . پدرش ۴۳ تا کتاب های داستانی دیگر برای او خرید.

$$\begin{array}{r} 43 \\ + 39 \\ \hline 82 \\ + 9 \\ \hline 91 \end{array}$$

نازنین چند کتاب در کتاب خانه اش دارد؟

۸۲ کتاب در کتاب خانه اش دارد.

۷. جدول های جمع و تفریق را کامل کنید.

+	۳	۵	۷	۶
۸	۱۲	۱۳	۱۵	۱۴
۳	۶	۸	۱۰	۹

-	۹	۶	۴	۲
۱۲	۳	۶	۸	۱۰
۱۵	۶	۹	۱۱	۱۳

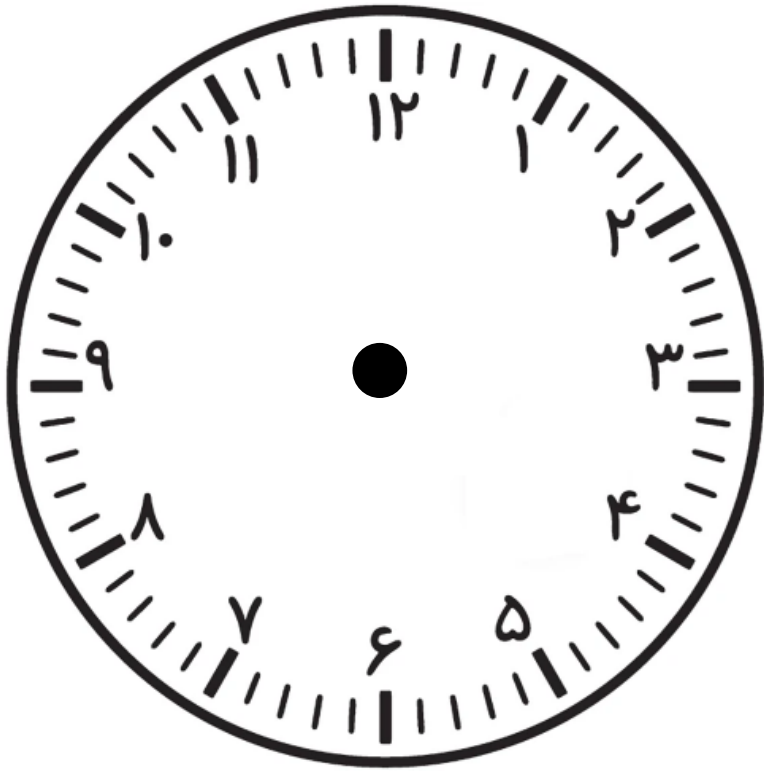
۷. جاهای خالی را پر کنید.

الف) بزرگترین عدد دو رقمی**۹۹**..... می باشد.


ب) بزرگترین عدد دو رقمی زوج**۹۸**..... می باشد.

پ) کوچکترین عدد دو رقمی**۱۰**..... می باشد.

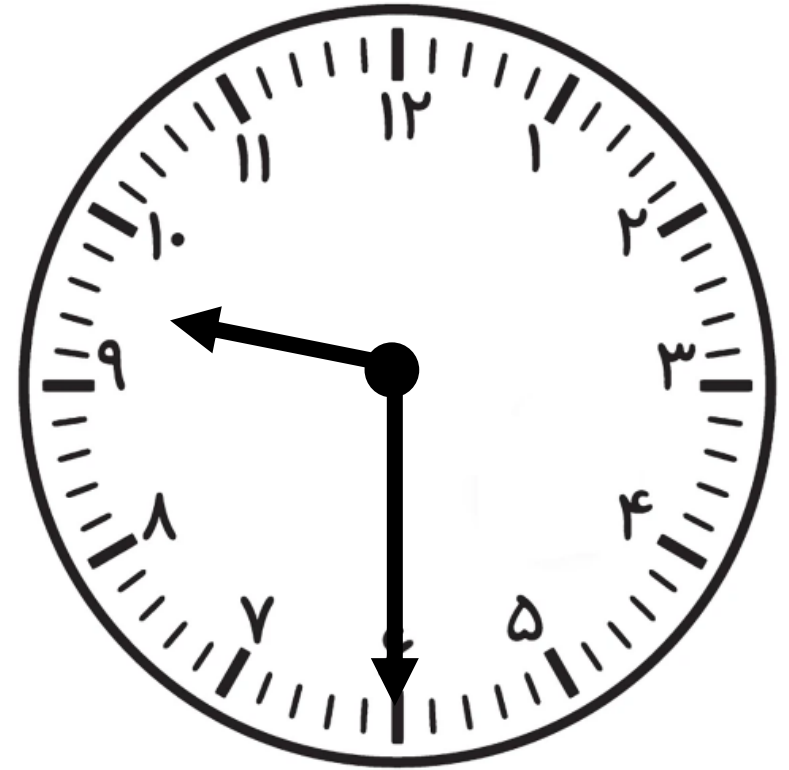
ت) کوچکترین عدد دو رقمی فرد**۱۱**..... می باشد.



1:20



.....



.....