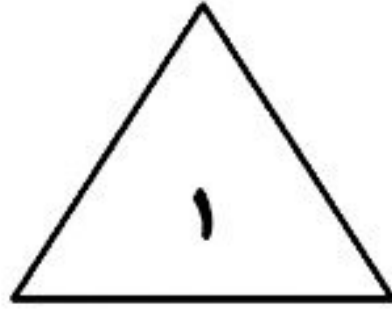


نام شکل را نوشته و بنویسید چه شباهت ها و تفاوت هایی دارند؟



مثلث

نام شکل:

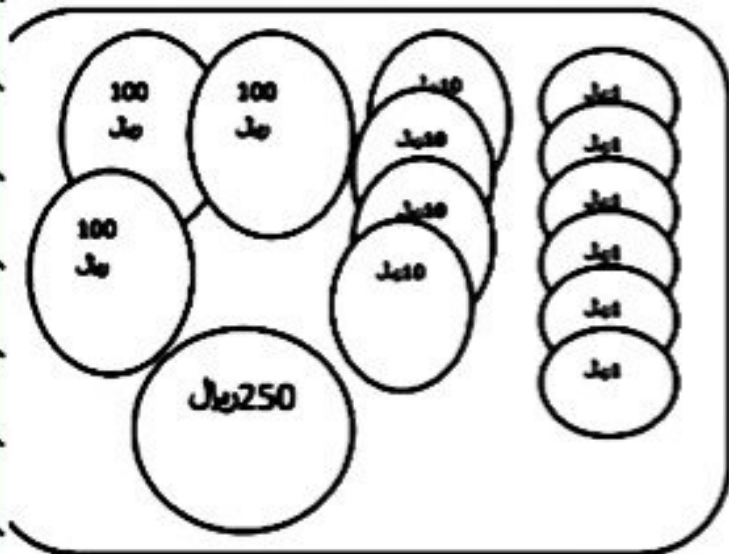
تفاوت: ضلع های شکل 1 با هم برابر است اما ضلع های شکل 2 با هم برابر نیست.

.....

شباهت: هر دو 3 ضلع و 3 گوشه دارند.

.....

- ارزش سکه ی هر خانه را بنویس ؟



596

ریال

5

سکه ی ۱۰۰ ریالی

9

سکه ی ۱۰ ریالی

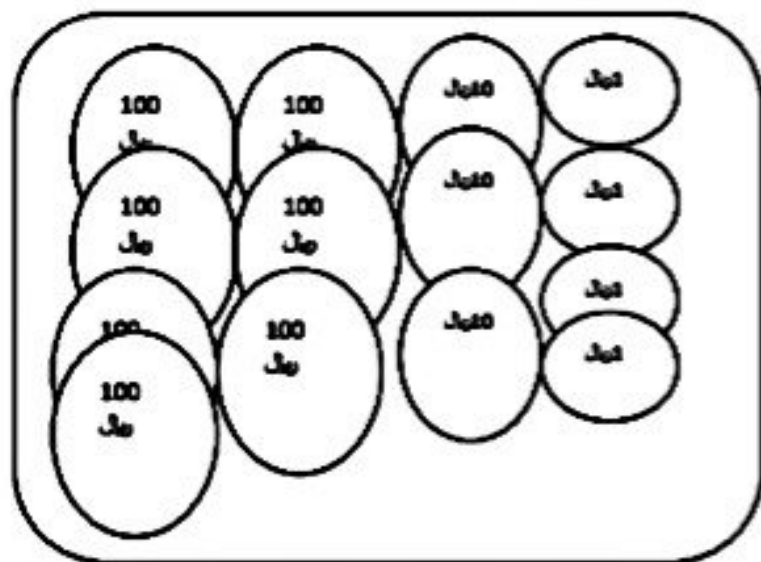
6

سکه ی ۱ ریالی

اگر سه سکه ی ۱۰۰ ریالی به سکه های اضافه کنی چند ریال می شود ؟

896

ریال



734 ریال

7 سکه ی 100 ریالی

3 سکه ی 10 ریالی

4 سکه ی 1 ریالی

اگر ده سکه ی 10 ریالی به سکه های اضافه کنی چند ریال می شود؟

834 ریال

جمله ها را با اعداد یا کلمات مناسب کامل کنید .

الف (۳۵۰ ریال برابر است با**3**..... سکه ی صد ریالی و**5**..... سکه ی ده ریالی .

ب (۸۲۳ برابر است با ۳**یک ریالی**..... و ۲ ده تایی و ۸**صد ریالی**.....

پ (۴۷۰ ریال برابر است با ۴۷ سکه ی**ده ریالی**..... ریالی .

ت).....**620**..... برابر است با ۶ صدتایی و ۲ ده تایی .

ث (چهارصد و هفتاد و سه برابر است با**7**..... ده تایی و**3**..... یکی و**4**..... صدتایی .

ج (یک ساعت**60**..... دقیقه است .

چ (یک ساعت**6**..... ده دقیقه است .

دهگان عددی ۹، صدگان آن ۳+۵ و یکانش ۴ تا از صدگانش کمتر است. عدد را به رقم و حروف نوشته و در جدول ارزش مکانی قرار دهید.

ص	د	ی
8	9	4

894

هشتصد و نود و چهار

تمام عددهای سه رقمی را که با کارت های $\boxed{5}$ و $\boxed{3}$ و $\boxed{9}$ می توان نوشت بنویسید ؟

ص	د	ی
---	---	---

9	5	3
---	---	---

9	3	5
---	---	---

5	3	9
---	---	---

5	9	3
---	---	---

3	5	9
---	---	---

3	9	5
---	---	---

953-935-539-593-359-395

حالا زیر عدد هایی که یکان آن بیشتر از صدگان آن است خط بکشید ؟ $539-359-395$

عدد های سمت راست را با حذف یکان و عدد های سمت چپ را با حذف یکان و دهگان به طور تقریبی بنویسید

۷۲۴ \longrightarrow 700

۱۴۵ \longrightarrow 100

۶۲۹ \longrightarrow 620

۵۰۴ \longrightarrow 500

؟