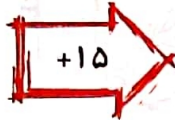
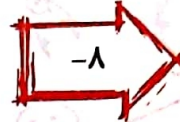


۱. در جاهای خالی عدد مناسب بنویس.

۳۶
۷۹
۱۸
۵۴



۵۱
۹۴
۳۳
۶۹



۴۳
۸۶
۲۵
۶۱

۲. با توجه به عددهای خروجی و کاری که ماشین روی هر عدد انجام داده، عددهای ورودی را پیدا کن.

(می‌توانی از ماشین حساب کمک بگیری).

۶۵	۵۱	۴۷	۶۹	۸۰
----	----	----	----	----

عددهای ورودی




۷۴	۶۰	۵۶	۷۸	۸۹
----	----	----	----	----



۶۷	۵۳	۴۹	۷۱	۸۲
----	----	----	----	----

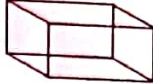

عددی‌های خروجی

۳. با گذاشتن یک تاس روی کاغذ مکعب باز را بکش.




۴. هر مربع از ..... ضلع و هر مکعب از ..... مربع درست شده است.



۵. شکل‌های  و  را در تصویر زیر پیدا کرده و با توجه به رنگ‌های داده شده در جدول رنگ‌آمیزی کن. سپس تعداد هر شکل را بنویس.

شکل	دایره	مستطیل	مربع	مکعب	مثلث	مکعب مستطیل
رنگ	قرمز	بنفش	آبی	زرد	سبز	نارنجی
تعداد	۷	۳	۲	۲	۶	۲



۶. علی روز اول فقط ۱۵ دقیقه می‌دود، اما هر روز ۵ دقیقه به زمان دویدن او اضافه می‌شود. وقتی زمان دویدن

در یک روز او به ۶۰ دقیقه برسد، چند روز از شروع دویدن او گذشته است؟ ۱۰ روز

روز	۱	۲	۳	۴	۵	۶	۷	۸	۹	۱۰
دقیقه	۱۵	۲۰	۲۵	۳۰	۳۵	۴۰	۴۵	۵۰	۵۵	۶۰

۱		
۲	۴	۷
	۵	
۳	۶	

۷. لاله تکه کاغذی را به شکل مقابل برید تا آن را تا کند و یک مکعب بسازد. اما بعد از بریدن آن متوجه شد که یکی از مربع‌ها زیادی است. حالا کدام مربع را بردارد که شکل دو تکه نشود و بتواند مکعبش را درست کند؟

شماره ۳ حذف شود.

