

نام و نام خانوادگی :

پایه :

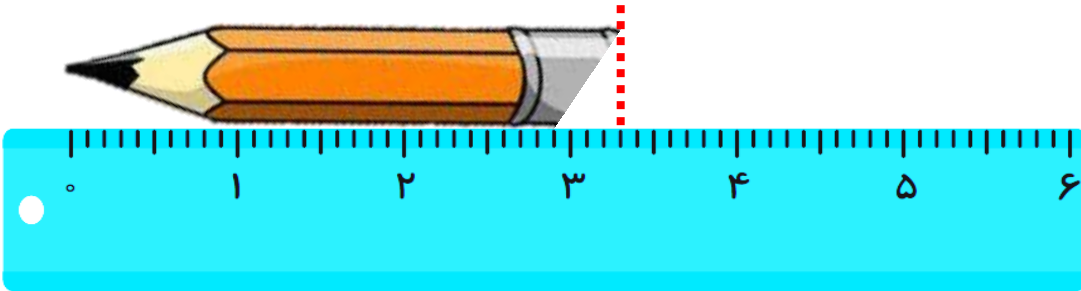
ریاضی - مرور فصل سوم

موضوع :

هدف :



## ۱- جاهای خالی را پر کنید.



الف) طول مداد ..... سانتی متر و ..... میلی متر است.

ب) طول مداد چند میلی متر است؟

پ) طول مداد از ..... سانتی متر بیشتر و از ..... سانتی متر کمتر است.

ت) طول مداد ..... سانتی متر و      سانتی متر است.  
۱۰

ث) چند میلی متر مانده تا طول مداد به ۴ سانتی متر برسد؟

ج) یعنی چه کسری مانده تا به ۴ سانتی متر برسد؟

## ۲- به سوالات زیر پاسخ دهید.

الف) ۵۸ میلی متر یعنی : ..... سانتی متر و ..... میلی متر.

ب) شعاع ..... قطر است.






پ) اگر شعاع دایره ای ۸ سانتی متر باشد قطر آن ..... سانتی متر است.

ت) مربع و مستطیل ..... زاویه دارند.

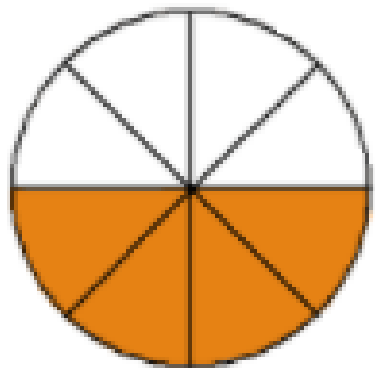
ث) زاویه های مربع و مستطیل ..... یا ..... نام دارند.



۳- در کدامیک از شکل های زیر ربع و در کدام یک نصف آن ها رنگ شده است؟



۴- برای شکل مقابل ۳ کسر مساوی بنویس.





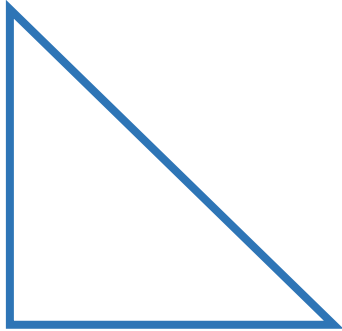
۵- کدام دو شکل دو کسر مساوی را نشان می دهند؟



۶- با رسم شکل تساوی کسرها را نشان بده.

$$\frac{1}{3} = \frac{2}{6}$$

۷- زاویه ی شکل های زیر را مشخص کنید.



---

۸- زهرا و فاطمه دو پارچه ی هم اندازه دارند. زهرا  $\frac{4}{10}$  و فاطمه  $\frac{1}{10}$  پارچه ی خود را گلدوزی

کردند. اگر بخواهند در فضای باقی مانده پولک دوزی کنند در کدام پارچه فضای بیشتری برای پولک

دوزی دارند؟ چرا؟