

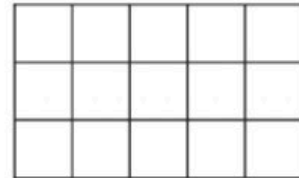
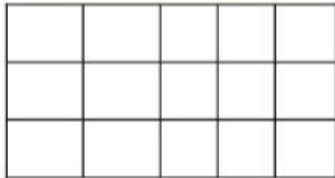
به نام خدا

آزمون ریاضی سوم ، نام و نام خانوادگی :

۱ الگوهای زیر را ادامه دهید .

$$\begin{array}{ccccccc} ۱۲۳ & \longrightarrow & ۱۳۳ & \longrightarrow & ۱۴۳ & \longrightarrow & \longrightarrow \\ ۵۶۸ & \longrightarrow & ۵۵۸ & \longrightarrow & ۵۴۸ & \longrightarrow & \longrightarrow \end{array}$$

۲ شکل های زیر را به دو روش متفاوت شمارش کن و جمع بنویس .



۳ به جای علامت ؟ با توجه به کاری که ماشین انجام می دهد عدد مناسب را بنویس .

<input type="text"/>		<input type="text" value="9"/>
<input type="text" value="35"/>	<input type="text" value="- 13"/>	<input type="text"/>
<input type="text" value="17"/>		<input type="text"/>

	۱۱	۹	۷	۵
	+ 9			
<input type="text"/>	<input type="text"/>	<input type="text"/>	<input type="text"/>	<input type="text"/>

۴ در پارکینگ یک آپارتمان ۵ اتومبیل سمند پارک است که هر کدام از اتومبیل ها ۴ چرخ دارد . تعداد کل چرخ های این اتومبیل هاچند تا است ؟

۵ جدول زیر را کامل کنید .

زمان		۱۱ : ۳۵		۲۰ : ۰۰
بعد از ظهر	۲۲ : ۴۵		هفت و نیم	

۶ جمع های زیر به واحد تومان هستند آن ها با واحد ریال بنویسید .

$$۳۹ + ۱۴ = ۵۳ \Rightarrow$$

$$۷۸۹ + ۱۲۳ = ۹۱۲ \Rightarrow$$

۷ تفریق های زیر به واحد ریال هستند آن را به تومان تبدیل کنید .

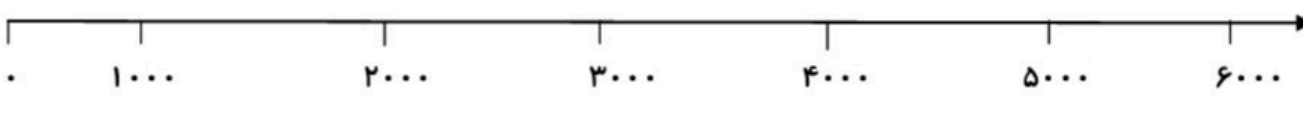
$$۴۷۰ - ۱۷۰ = ۳۰۰ \Rightarrow$$

$$۵۲۴۰ - ۲۳۷۰ = ۲۸۷۰ \Rightarrow$$

۸ عدد های زیر را به صورت گسترده بنویسید .

$$۱۲۴۳ =$$

$$۳۰۰۲ =$$

<p>حاصل جمع های زیر را بنویسید .</p> $۲۰۰۰ + ۲۰۰ + ۵ =$ $۲۰۰۰ + ۳۰۰۰ + ۲۰ + ۱ =$	۹
<p>به سوالات زیر پاسخ دهید .</p> <p>الف : عدد ۴۰۳۰ یعنی ----- هزار تایی و ----- ده تایی .</p> <p>ب : عدد ۳۵۱۴ یعنی ----- هزار تایی و ----- صد تایی و ----- ده تایی و ----- یکی .</p> <p>ج : ۴۲۵ سانتی متر برابر با ----- متر و ----- سانتی متر .</p> <p>د : ----- سانتی متر برابر با ۲ متر و ۳۷ سانتی متر .</p> <p>ه : ۳ کیلوگرم و ۲۵۰ گرم یعنی ----- گرم .</p> <p>و : ۵۰۰۰ گرم برابر ----- کیلوگرم .</p>	۱۰
<p>با توجه به محور ، عدد های داده شده را به صورت تقریبی نشان دهید .</p> <p>۹۳۰      ۲۲۵۰      ۴۷۸۱      ۵۰۹۰</p> 	۱۱