

هوالعالم

پیش دبستان و دبستان دخترانه علوی  
( واحد منیریه )




نام و نام خانوادگی:

پایه  
سوم  
(ریاضی)

تاریخ:

هدف: مرور اعداد زوج و فرد - الگویابی

موضوع: اعداد زوج و فرد - الگویابی



۱) اعداد زوج و فرد را در شکل پیدا کنید و به ترتیب بنویسید.

اعداد زوج : ....., ....., ....., .....

اعداد فرد : ....., ....., ....., .....

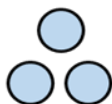
۲) الگوهای زیر را کامل کنید.

۷, ۱۴, ....., ....., ....., .....

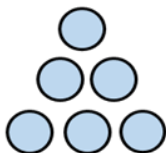
....., ....., ....., ....., ۲۰, ۲۴



شکل (۱)



شکل (۲)



شکل (۳)



شکل (۴)



شکل (۵)

۳) به سوالات زیر پاسخ دهید و رنگ کنید.

الف) اعدادی که رقم یکان آن ها یکی بیشتر از رقم دهگان آن هاست ، نارنجی کنید.

ب) اعداد یک رقمی فرد را صورتی کنید.

پ) اعدادی که رقم دهگان آن ها ۴ است ، قرمز کنید.

ت) اعداد یک رقمی زوج را زرد کنید.

