

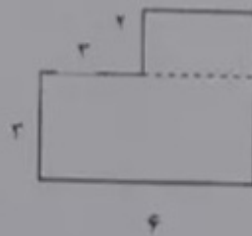
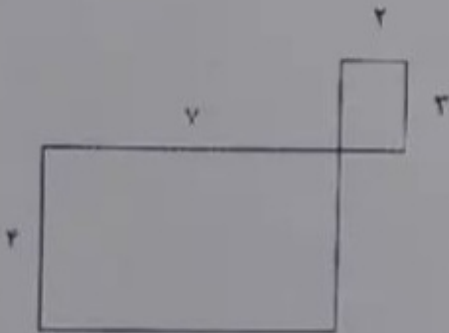


نام و نام خانوادگی :

۱ - قطرهای شکل های زیر را رسم کن.



۲ - مادر مریم ۰ می خواهد دور یک رومیزی را تور بدوزد. اگر این میز به شکل مربع باشد و هر ضلع این مربع ۳ متر باشد. چه قدر تور لازم دارد تا دور این رومیزی بدوزد؟

۳ - مساحت شکل های زیر را به دست آورید.



۴ - به دور هر شکل آن شکل می گویند.

۶- مساحت یک مستطیل ۶۳ سانتی متر مربع است. اگر یک ضلع این مربع ۹ باشد، ضلع دیگر این مستطیل چند سانتی متر می باشد؟

۷- یک مثلث بکش که محیط آن ۱۲ سانتی متر باشد.

۸- یک مربع بکش که مساحت آن ۱۶ باشد؟

۹- یک مستطیل بکش که مساحت آن ۱۴ باشد؟

۱۰- محیط یک مربع چند برابر طول یک ضلع آن است؟.....

۱۱- محیط یک مثلث متساوی الاضلاع چند برابر طول یک ضلع آن است؟.....

۱۲- مثلث متساوی الاضلاع را تعریف کنید؟.....

۱۳- مثلث متساوی الساقین را تعریف کنید؟.....

۱۵- محیط یک ۶ ضلعی برابر است با.....

۱۶- محیط ۵ ضلعی مقابل را از راه ضرب بنویس.

