



نام و نام خانوادگی

موضوع:

تاریخ

هدف:

۱- مریم هر روز ۳ صفحه از کتاب داستانش را مطالعه می کند.

الف) او پس از یک هفته چند صفحه از کتابش را مطالعه کرده است؟

ب) او پس از چند روز ۳۰ صفحه از کتابش را خوانده است؟

۲- فروشنده ای نوعی شکلات را ۲۰۰ تومان می خرد و ۳۵۰ تومان می فروشد.

الف) این فروشنده با فروش هر شکلات چند تومان سود می کند؟

ب) او چند شکلات بفروشد تا ۴۵۰ تومان سود کند؟


پ) اگر این فروشنده ۵ شکلات بفروشد، چند تومان سود می کند؟

۳- یک ساختمانی ۴ طبقه دارد. در پایین ترین طبقه ۴ اتاق و هر اتاق ۲ پنجره دارد. هر طبقه

که بالاتر می رویم، یک اتاق کم می شود.


الف) در طبقه ی اول و دوم چند پنجره هست؟

ب) در کل، این ساختمان چند اتاق دارد؟





۴- شکل های زیر را با توجه به الگوهای داده شده، دسته بندی کنید و برای هر کدام یک عبارت جمع بنویسید.

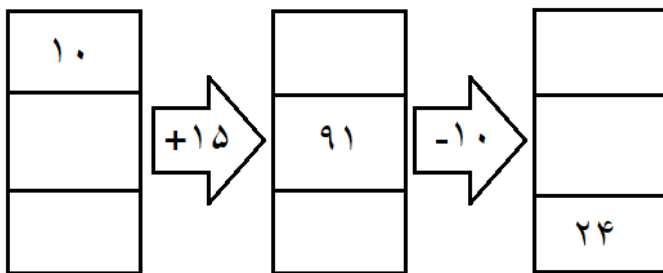


۵ و ۱۰ و ۱۵



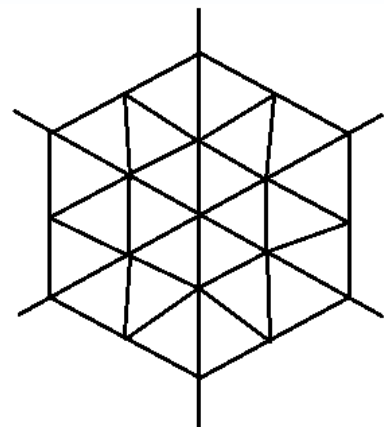
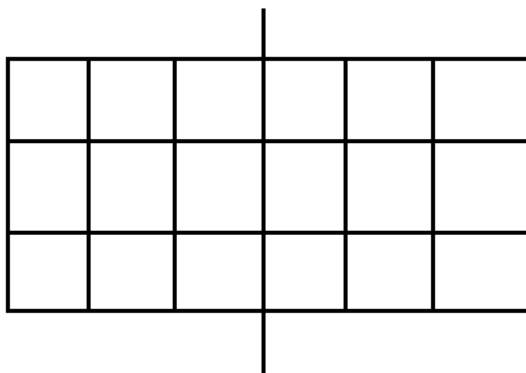
۲ و ۴ و ۶ و ۸

۵- جدول های زیر را کامل کنید.



بعد از ظهر		۷:۰۰		۹:۱۳	
زمان	۱۳:۴۵		۱۸:۲۵		۱۳:۰۹

۶- با توجه به خط های تقارن تعداد مربع های کوچک را به دست بیاورید.





موضوع:

تاریخ

نام و نام خانوادگی

هدف:

۷- جاهای خالی را پر کنید.

الف) قطار تهران - مشهد ساعت ۲۱:۳۰ از تهران حرکت کرد. ساعت حرکت این قطار از تهران ساعت بعد از ظهر است. این قطار ۲ ساعت بعد برای شام توقف می کند. ساعت توقف برای شام ساعت یا ساعت بعد از ظهر است.

ب) دایره خط تقارن دارد.

پ) مثلث متساوی الاضلاع خط تقارن دارد.

۸- تمام عددهای سه رقمی که رقم دهگان آنها بزرگترین عدد فرد یک رقمی و رقم یکانش ۲ و ۸ و رقم صدگانش ۴ و ۵ باشد را بنویسید.

۹- کوچکترین عدد سه رقمی فرد و بزرگترین عدد زوج چهار رقمی بدون تکرار رقم را بنویسید. اختلاف این دو عدد را بدست آورید.

۱۰- عددی هشتم سه رقمی. یکانم بزرگترین عدد زوج یک رقمی است. صدگانم ۷ و دهگانم ۵ تا از یکانم کمتر است. من چه عددی هستم؟

۱۱- به چند حالت می توان جمع دو عدد دو رقمی را نوشت که حاصل جمع آنها ۱۶ باشد؟





نام و نام خانوادگی

موضوع:

تاریخ

هدف:

۱۲- هانا و دیانا هر کدام دو کیسه میوه دارند. یکی از کیسه ها ۷ تایی و دیگری ۱۰ تایی است. در هر کیسه ی ۷ تایی، ۴ سیب و در هر کیسه ۱۰ تایی ۵ تا سیب است. هانا و دیانا روی هم چند سیب دارند؟

۱۳- به چند حالت می توان با سکه های ۱۰ و ۵۰ تومانی یک کتاب ۱۰۰ تومانی خرید؟

۱۴- با توجه به عدد ۴۰۵۹ به سوالات زیر پاسخ دهید.


الف) این عدد چند رقمی است؟

ب) به حروف بنویسید.

پ) این عدد را در جدول ارزش مکانی بنویسید.

ت) بزرگترین رقم چه ارزش مکانی دارد؟

ث) با ارزش ترین و کم ارزش ترین رقم کدام ها است؟





۱۵- جاهای خالی را پر کنید.

الف) ده تا ۱۰۰ تا می شود

ب) صد تا ۱۰ تا می شود

پ) ۴۵۰ تومان یعنی ریال

ت) ۷۶۰ ریال یعنی تومان

ث) ۴۰۰۰ متر یعنی کیلومتر

ج) ۸۹۰۰ گرم یعنی کیلوگرم و گرم

چ) ۷۹ میلی متر یعنی سانتی متر و میلی متر

ح) ۶۷۰۰ متر یعنی کیلومتر و متر

خ) ۵ کیلوگرم و ۷۲۰ گرم یعنی گرم

د) ۷ کیلومتر یعنی متر

ذ) ۱۳۲ سانتی متر یعنی متر و سانتی متر

ر) ۳ وزنه ی ۲۵۰ گرمی برابر است با گرم

ز) ۵ وزنه ۲۵۰ گرمی برابر است با کیلوگرم و گرم

ژ) ۴ تا وزنه ۵۰۰ گرمی برابر است با کیلوگرم

س) ۸ کیلومتر و ۴۵۱ متر برابر است با متر

ش) ۹۲۱۵ متر یعنی کیلومتر و متر





نام و نام خانوادگی

موضوع:

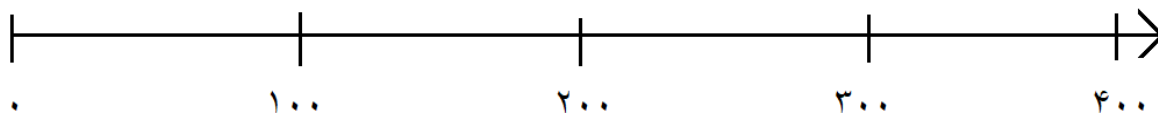
تاریخ

هدف:

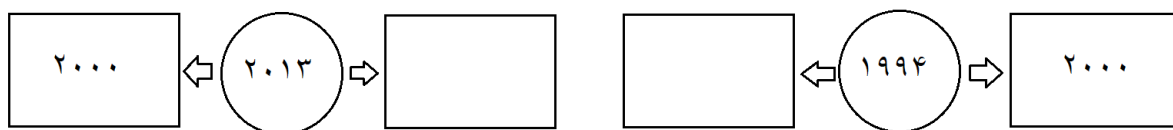
۱۶- یک دلار کشوری برابر با ۲۰۰۰ تومان است. ۴ دلار این کشور چند تومان است؟

۱۷- در شهر الف ۴۲۳۶ کودک و در شهر ب ۱۲۴۸ کودک داریم. در این دو شهر روی هم با حذف رقم یکان و دهگان چند کودک داریم؟

۱۸- عدد های ۲۷۰، ۱۹۶، ۳۰۴ و ۱۳ را به طور تقریبی روی محور زیر نشان دهید.



۱۹- مربع های خالی را پر کنید و مشخص کنید هر عدد به کدام عدد نزدیک تر است.



۲۰- سیما هر روز از خانه یک کیلومتر و ۲۶۵ متر تا مدرسه راه می‌رود و همین مسیر را برمی‌گردد. او در این رفت و برگشت چند متر راه می‌رود؟ این مسیر برابر است با چند کیلومتر و چند متر؟

