

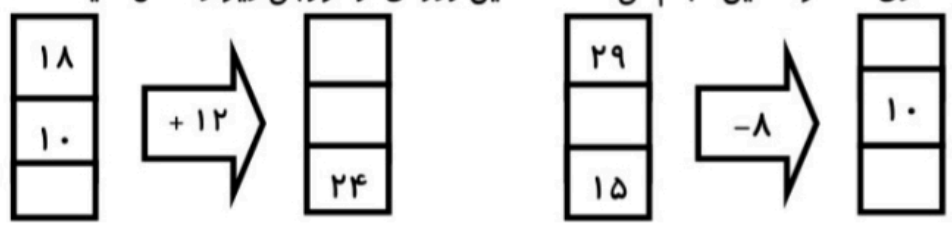


نام و نام خانوادگی: _____ تاریخ: _____ موضوع: _____ هدف: _____

۱- الگوهای شمارش رو به عقب را کامل کنید.

..... ، ۲۰، ۲۴، ۲۸ ، ۳۳، ۳۹، ۴۵

۲- با توجه به کاری که هر ماشین انجام می دهد ، ماشین ورودی و خروجی زیر را کامل کنید.



۳- جدول زیر را کامل کنید.

زمان	۱۴:۳۰	نوزده و ربع	۱۷:۴۵	۲۳:۵۵
بعد از ظهر	۴	۱:۳۰

۴. جاهای خالی را به شکل مناسب پر کنید.

- ۲۳۵۴ می شود یکی و ده تایی صدتایی و هزارتایی .


- بزرگترین عدد سه رقمی و کوچک ترین عدد چهار رقمی است .

۵. با رقم های (۵ و ۶ و ۹ و ۰) چند عدد چهار رقمی می توان نوشت ؟ آن ها را بنویسد و کوچک ترین و

بزرگترین آن ها را مشخص نمایید .
..... ، ، ،

۶. با رسم شکل حاصل جمع و تفریق ها را به دست آورید.

۲۱۴۱ + ۲۱۲۴ =
۷۵۴۶ - ۲۲۳۵ =



نام و نام خانوادگی

تاریخ

موضوع:


هدف:

۷. مغازه داری نوعی بیسکویت را بسته ای ۲۵۰۰ تومان می خرد و ۳۰۰۰ تومان می فروشد . الف) این مغازه دار اگر ۴ بیسکویت بفروشد چند تومان سود می کند؟ ب) این مغازه دار چند بیسکویت بفروشد تا با سود آن ها بتواند یک بسته بیسکویت بخرد؟

۸. کسر مربوط به هر شکل را بنویسید.

				
.....

۱۰. برای شکل زیر سه کسر مساوی بنویسید.



..... = =

۱۱. عدد های داده شده را به صورت تقریبی روی محور نشان دهید.



$\frac{3}{4}$ واحد مانده به ۳



$\frac{5}{8}$ واحد بعد از عدد ۲





نام و نام خانوادگی

تاریخ

موضوع:

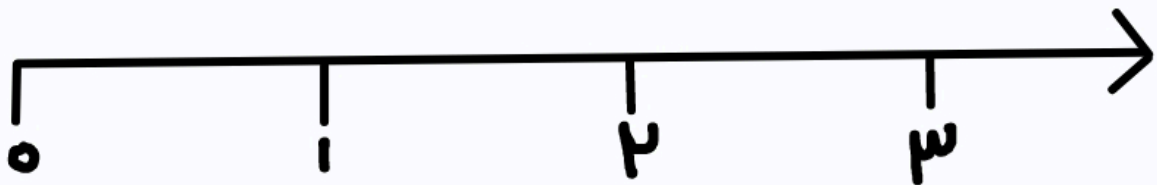
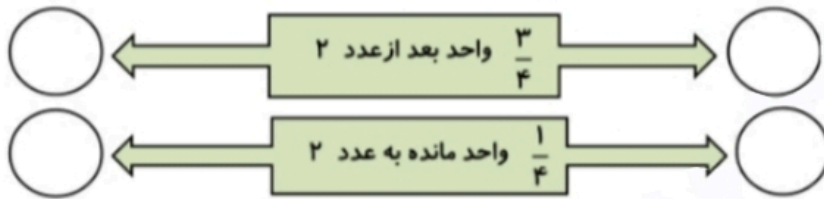
هدف:

۱۲. همه ی عدد های سه رقمی را بنویس که رقم های صدگان آن ها ۲

یا ۳ و رقم دهگان آن ها ۳ و یکان آن ها ۲ یا ۰ باشد.

۱۳. یک دلار کشور شکرستان ۲۰۰ تومان است ۲ دلار این کشور ارزش بیشتری دارد یا ۳۹۹۹ ریال؟

۱۴. الف (اعداد مربوط به عبارت های داده شده بین کدام دو عدد قرار دارند ب) عدد مربوط به هر عبارت را روی محور نشان بده.



۱۵. به چند حالت می توان با اسکناس های ۱۰۰ و ۲۰۰ تومانی، یک کتاب ۶۰۰ تومانی خرید؟

۱۶. به چند حالت می توان جمع دو عدد را نوشت که برابر با ۱۴ باشد؟

