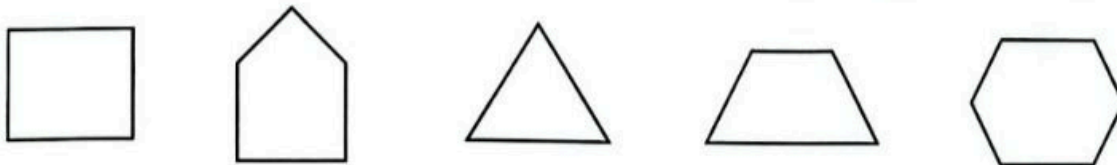
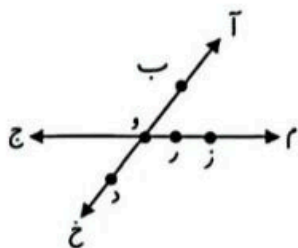


۶. قطر شکل های زیر را رسم کنید و بگویید هر شکل چند قطر دارد؟



۷. در شکل مقابل خط ها را مشخص کنید.



خط راست:

نیم خط:

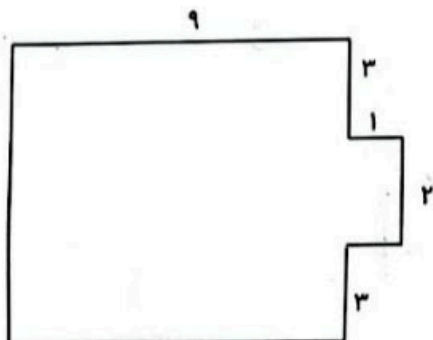
پاره خط:

۸. محیط شکل های زیر را به دست آورید.



۹. محیط مربعی ۲۸ سانتی متر است. هر ضلع آن چند سانتی متر است؟

۱۰. محیط و مساحت شکل زیر را به دست آورید.



توصیف آموزگار:

۱. جاهای خالی را کامل کنید.

الف) اندازه ی دور هر شکل بسته را آن شکل می گویند.

ب) مساحت یعنی شکل

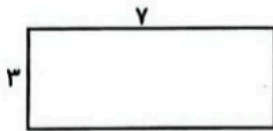
ج) مساحت مستطیل برابر است با \times

د) مساحت مربع برابر است با \times

۲. مینا ۴ بسته ی ۶ تایی مداد قرمز و ۳ بسته ی ۴ تایی مداد مشکی دارد. زیر مسئله بنویسید و حاصل را به دست آورید.

۳. یک مستطیل به طول ۸ و عرض ۴ سانتی متر داریم. محیط و مساحت این مستطیل را حساب کنید.

۴. محیط و مساحت شکل های زیر را به دست آورید.



۵. مساحت قسمت رنگ شده ی شکل های زیر را حساب کنید.

