



ارمغان هفته - سوم دبستان

شماره‌ی

۲۳

نام و نام خانوادگی: تاریخ: نام آموزگار:

ریاضی < فصل ۶: جمع و تفریق فرآیندی
 مطالعات اجتماعی < درس ۱۸: مدرسه‌ی دوست داشتنی ما
 علوم < درس ۱۱: کاربرد و بسیند
 هدیه‌های آسمان < درس ۱۴: خانه‌ام را دوست دارم
 فارسی < درس ۱۲: ایران آباد
 قرآن < فصل ۲: انس با قرآن کریم (۱۰)

ریاضی

جمع و تفریق زیر را با روش فرآیندی محاسبه کنید.

$$\begin{array}{r} 7494 \\ - 3284 \\ \hline 4210 \end{array}$$

$$\begin{array}{r} 8734 \\ - 2925 \\ \hline 5809 \end{array}$$

$$\begin{array}{r} 6171 \\ + 1825 \\ \hline 7996 \end{array}$$

$$\begin{array}{r} 4452 \\ + 2784 \\ \hline 7236 \end{array}$$

$$\begin{array}{r} 6452 \\ + 784 \\ \hline 7236 \end{array}$$

$$\begin{array}{r} 7496 \\ - 3286 \\ \hline 4210 \end{array}$$

برنا ۷۴۰ تومان پول دارد. پول برادرش ۲۳۱ تومان از او بیش‌تر است. آن‌ها روی هم چند تومان پول دارند؟

$$\begin{array}{r} 740 \\ + 231 \\ \hline 971 \end{array}$$

آن‌ها روی هم ۹۷۱ تومان پول دارند.

حاصل جمع و تفریق‌های زیر را به صورت ذهنی به دست آورید.

$$\begin{array}{l} 6000 - 4000 = 2000 \\ 4100 + 900 = 5000 \\ 1700 + 300 = 2000 \\ 9000 - 700 = 8300 \\ 5000 + 2000 = 7000 \\ 4000 - 500 = 3500 \end{array}$$

با حذف رقم یکان و دهگان و صدگان حاصل جمع و تفریق‌های زیر را از بین پاسخ‌ها پیدا کنید.


$$\begin{array}{r} 3562 \\ - 2487 \\ \hline \end{array}$$

$$\begin{array}{r} 1768 \\ + 2309 \\ \hline \end{array}$$

۳۰۰۰ ۲۰۰۰ ۶۰۰۰ ۵۰۰۰ ۶۸۰۰ ۱۰۰۰

حاصل تقریبی هر عبارت بین کدام دو عدد هزارتایی قرار می‌گیرد؟ (با حذف رقم یکان و دهگان)

$$\begin{array}{l} 7000 \\ \leftarrow 6351 + 1282 \rightarrow 7633 \\ \leftarrow 7200 + 1400 \end{array}$$

$$\begin{array}{l} 7000 \\ \leftarrow 2258 - 2327 \rightarrow 7000 \\ \leftarrow 2200 - 2200 \end{array}$$




با توجه به شکل‌های زیر گزینه‌ی مناسب را رنگ کنید.

مثلث متساوی‌الساقین	مثلث قائم‌الزاویه	مثلث متساوی‌الاضلاع
مثلث متساوی‌الساقین	مثلث قائم‌الزاویه	مثلث متساوی‌الاضلاع
مثلث متساوی‌الساقین	مثلث قائم‌الزاویه	مثلث متساوی‌الاضلاع



علوم

۱. نوع ریشه‌ی هر کدام از تصاویر را بنویسید. (راست - افشان)



..... راست افشان راست افشان راست افشان


۲. گیاهانی را که ریشه‌ی آن‌ها خوراکی است با علامت ضربدر مشخص کنید.



۳. سه گیاه نام ببرید که مواد غذایی را در ریشه‌ی خود ذخیره می‌کنند.

ترنج - هویج - سلق - لپو





۴ از برگ چه گیاهی به عنوان خوراکی و غذا استفاده می‌شود؟ (سه مورد نام ببرید.)

کاهو - اسفناج - چغندر - نعناع

فارسی

۱ زیر کلمات نادرست خط بکشید و درست آن‌ها را بنویسید.

سنعت ، بحس ، محنی ، وظیفه ، باعث ، حفظ ، برخواست ،

صنعت - بحس - وظیفه - برخاست

۲ بیت زیر را کامل کنید.

مبین خورشید را کسب آنگار

دست در دست شم دهیم به مهر

۳ در متن درس چهاردهم، واژه‌هایی که بی‌نقطه هستند پیدا کنید و بنویسید.

رسم - درس - اصل - گروه - ولی - محفل - سال - احمد - جلوه‌گلاس - علم -
عمل - دست - صخره - همدلی - همداری - می‌دارد

۴ برای این جدول پرسش‌های مناسب بنویسید.

			ب	آ	۱
		ر	ز	خ	۲
	ن	ه	ی	م	۳
	ن	ا	ر	ا	۴
و	ا	ی	د	ا	ز

- ۱- حابری حیایت
- ۲- نام دریای شمال ایران
- ۳- نام کشور وطن
- ۴- کشوری که از دو سر شمال و جنوبی دریای خزر می‌شود
- ۵- محل تولد

مطالبات اجتماعی

۱ کدام کارها در مدرسه انجام نمی‌شود؟ مشخص کنید.



۳





۲ پنج مورد از کارهای مورد علاقه‌ی خود در مدرسه را بنویسید.

هنرمند - ورزش - موسیقی - بازی با همکلاسی‌ها در زنگ تفریح - صرف نهار در کاروانسکان

۳ هریک از کارهای سمت راست در کدام مکان از مدرسه انجام می‌گیرد؟ (وصل کنید).



هدیه‌های آسمان - قرآن

۱ نام‌های حضرت زهرا (س) را از جدول زیر پیدا کنید. علاوه‌بر رنگ کردن آن‌ها در جدول، نام‌ها را بنویسید.

م	ب	ا	ر	ی	ه
ف	ا	ط	م	ه	م
ص	د	ی	ق	ه	ر
ط	ا	ه	ر	ه	س
م	ح	د	ت	ه	ی
ر	ی	ح	ا	ن	ه

ساریه
فاطمه
سویقه
طاهره
عمده
ریانه
صرعیه

۲ تسبیحات حضرت زهرا (س) را به ترتیب نام ببرید و تعداد آن‌ها را بنویسید.

۳۶ بار الله اکبر ۳۳ بار الحمد لله ۳۳ بار سبحان الله

جدول کلمات	جمع و تفریق فرآیندی	تاریخ تولد
والدشناسی	جمع و تفریق ذهنی	تاریخ فوت
کارها و مکان‌های مختلف مدرسه	جمع و تفریق تقریبی	تاریخ تولد پدر
آشنایی با حضرت زهرا (س)	اجزای گیاهان	تاریخ تولد مادر
	انواع ریشه	





ارمغان هفته - سوم دبستان

شماره ی

۲۴

نام و نام خانوادگی: تاریخ: نام آموزگار:

ریاضی < فصل ۶ جمع و تفریق تکنیکی
 مطالعات اجتماعی < درس ۱۸: خانه ها با هم تفاوت دارند
 علوم < درس ۱۱: بکارید و ببینید
 هدیه های آسمان < درس ۱۵: همسفر ناشناس
 فارسی < درس ۱۳ و ۱۵: بوی سبزه، حکایت خروس ایرانی قرآن < فصل ۳: انس با قرآن کریم (۱۱)

ریاضی

۱ عبارت جمعی را که شکل زیر نشان می دهد در جدول ارزش مکانی بنویسید.

هزارگان	صدگان	دهگان	یکان
۳	۴	۵	۲
+	۲	۳	۳
۵	۷	۸	۵

۲ حاصل جمع و تفریق های زیر را بدست آورید.

$$\begin{array}{r} 4000 \\ + 1387 \\ \hline 5387 \end{array}$$

$$\begin{array}{r} 5491 \\ + 2502 \\ \hline 7993 \end{array}$$

$$\begin{array}{r} 3940 \\ + 1417 \\ \hline 5357 \end{array}$$

$$\begin{array}{r} 6630 \\ + 4050 \\ \hline 10680 \end{array}$$

۳ در جاهای خالی عدد مناسب بگذارید.

ی	د	ص	ه
۱	۷	۴	۴
۵	۱	۱	۳
۶	۸	۵	۵

۴ در یک کارگاه صنایع دستی، یک هنرمند ۳۳۵۱ طرف را رنگ کرده است. اگر ۲۵۶۰ تای آن ها مربوط به ماه گذشته باشند او در این ماه چند طرف رنگ کرده است؟


$$\begin{array}{r} 3351 \\ - 2560 \\ \hline 791 \end{array}$$

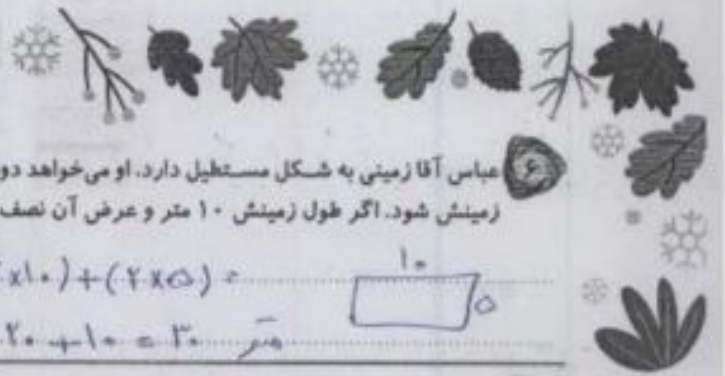
در این ماه ۷۹۱ طرف رنگ کرده است.

۵ از دریاچه ای ۳۱۰۹ ماهی قزل آلا و ۲۳۴۵ ماهی کفال و ۹۰۸ ماهی کپور صید شده است. چند ماهی از این دریاچه صید شده است؟

$$\begin{array}{r} 3109 \\ + 2345 \\ + 908 \\ \hline 6362 \end{array}$$

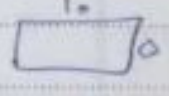
۶۳۶۲ ماهی از این دریاچه صید شده است.



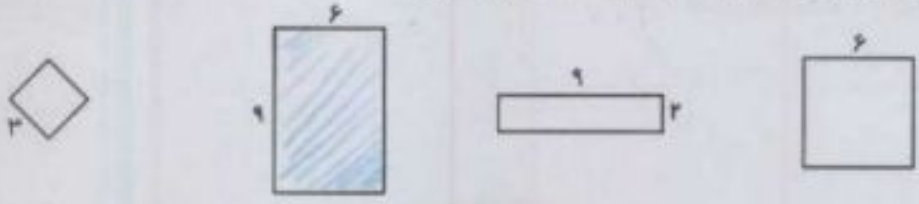


۶) عباس آقا زمینی به شکل مستطیل دارد. او می خواهد دور تا دور زمینش را با سیم خاردار ببندد تا کسی نتواند بدون اجازه وارد زمینش شود. اگر طول زمینش ۱۰ متر و عرض آن نصف طولش باشد. او چند متر سیم خاردار باید تهیه کند؟

عرض زمین $10 \div 2 = 5$ محیط $= (2 \times 10) + (2 \times 5) = 30$ متر $20 + 10 = 30$



۷) عبارت روبه رو مربوط به محیط کدام شکل است؟ آن را رنگ بزنید.



علوم

۱) با توجه به ریشه ی گیاه، گل و برگ مناسب برای این گیاه را انتخاب کرده و بچسبانیید.



۲) جدول زیر را کامل کنید.

نام گیاه	دانه	ریشه	ساقه	برگ	گل
کدو	دوقسمتی	راست	نازک توپر	پهن	۳ یا ۵ و مضرب های آن
لوبیا	دوقسمتی	راست	نازک توپر	پهن	۳ یا ۵ و مضرب های آن
بادمجان	یک قسمتی	اصطیاق	نازک توخالی	نازک و دراز	۳ یا ۶ و مضرب های آن
گندم	یک قسمتی	افشان	نازک توخالی	باریک و دراز	۳ یا ۶ و مضرب های آن

۳) تصویر زیر را با دقت نگاه کنید.



- الف) نام گیاه چیست؟ ... سرو
- ب) نوع برگ آن چگونه است؟ ... سوزنی شکل
- پ) نوع میوه ی آن چگونه است؟ ... مخروط
- ت) نوع دانه ی آن چگونه است؟ ... دانه های بالدار
- ث) یک گیاه دیگر مانند آن نام ببرید. ... کاج

۲





۲ من چیست؟

الف) گیاهی هستم که از پرچم من برای معطر کردن غذا استفاده می‌شود. **زعفران**

ب) گیاهی هستم که برگ‌های باریک و درازی دارم و لبی ساقه‌ی چوبی کلفتی دارم. **چوبت زیتون**

پ) گیاهی هستم با دانه‌ی تک قسمتی که روغن من هم طرفدار زیادی دارد. **کنجد**

ت) گیاهی هستم با گل زرد بزرگ که دانه‌ی من درون گلم می‌باشد و مصرف خوراکی دارد. **آفتابگردان**

فارسی

۱ با توجه به متن درس ایران آباد، کلماتی که نشانه‌های زیر را دارند را بنویسید.

نشانه	ط	ظ	ذ
موضوع -	طرف - مناطق - وطن	تفر - حلق - وظیفه	بست - باغچه
	مصطفی - طول		

۲ هدف فرماندهی ایرانی از آوردن خروس در حکایت خروس ایرانی، چه بود؟

تسلط بر ایران، به خروس - نشان داد که سرانجام از قدرت غیر قابل تصور برخوردارند.

۳ با توجه به متن «بوی سیب و یاس» به سؤالات زیر پاسخ کوتاه دهید.

الف) پدر بزرگ امید در آزادسازی کدام یک از شهرهای ایران دلاورانه جنگیده بود؟ **خرمشهر**

ب) روز آزادسازی خرمشهر، چه روزی است؟ **روز یاس**

پ) تصویر تابلویی که روی میز سر کوچه قرار داشت، چه بود؟ **بوی خرمشهر**

ت) نام کوچه در داستان «بوی سیب» چه بود؟ **کوچه تصویر**

ث) نویسنده‌ی داستان «بوی سیب و یاس» چه کسی است؟ **مهران**


۴ درس چهاردهم را با دقت بخوانید و واژه‌های خواسته شده را پیدا کرده و بنویسید.

الف) دو کلمه‌ی جمع: **ساقون** و **ایرانیان**

ب) دو کلمه که در آخر «انه» دارند: **دلاورانانه** و **سپاهیانانه**

پ) دو کلمه که در آخر «گی» دارند: **جستنی** و **زینتی**

ت) سه کلمه که ابتدای آن‌ها «هم» دارد: **همسگی** و **همکاری** و **همدلی**



مطالعات اجتماعی

- ۱) درستی و نادرستی هر عبارت را مشخص کنید.
 الف) زهرا هنگام خروج از کلاس چند تکه زیاده‌ای که دوستش جا گذاشته بود را در سطل زیاده انداخت.
 ب) علی به دوستش که مریض شده بود و چند روز به مدرسه نیامده بود برای یادگیری بهتر دروس کمک نکرد.
 پ) بچه‌های کلاس به کمک یکدیگر کلاس را تمیز نگه می‌دارند.

۲) الف) کدام یک از بخش‌های مدرسه‌ی خود را دوست دارید؟

بوفه و حیاط

ب) آیا دوست دارید در آینده شغلی در مدرسه داشته باشید؟ به چه دلیل؟

بله. من معلم می‌شوم. با آموزگار عزیزم دوستی کنم و در آینده به کمک او مدرسه‌ام بسازم.

۳) جاهای خالی را با دقت کامل کنید.

الف) مدرسه خانگی دوم ما است.

ب) مدرسه جای خواندن قرآن و نماز و آموختن است.

پ) کارکنان مدرسه با هم می‌کنند تا دانش‌آموزان درس بخوانند.

هدیه‌های آسمان - قرآن

۱) به چه دلیل امام سجاد (ع) به زین‌العابدین، معروف شده است؟

چون بسیار زینت می‌کرد و زینت عبادت گفته‌شان بود.

۲) آرامگاه امام سجاد (ع) در کدام شهر و کدام قبرستان قرار دارد؟ در مسجد عوینیه - قبرستان بی‌سنگ

۳) یک دعا از امام سجاد (ع) که در صحیفه‌ی سجادیه آمده است را بنویسید.

خدا یا کسب کن تا به مردم خدمت کنم.

<input type="checkbox"/>	درک مطلب
<input type="checkbox"/>	واژه‌شناسی
<input type="checkbox"/>	مکان‌های مختلف و قوانین مدرسه
<input type="checkbox"/>	آشنایی با امام چهارم

<input type="checkbox"/>	جمع و تفریق نگینگی
<input type="checkbox"/>	مسائل جمع و تفریق
<input type="checkbox"/>	محیط مسئله‌ها
<input type="checkbox"/>	دسته‌بندی گیاهان از نظر ریشه، دانه، برگ، ساقه و گل
<input type="checkbox"/>	گیاهان مخروط‌دار

توجه داشته باشید

- آشنایی با امام
- جمع
- فصل علوم
- بارش نام و رنگ